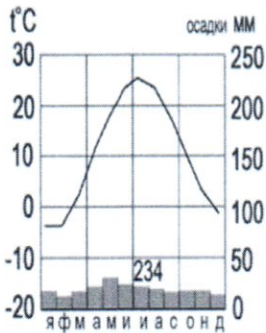


Школьный этап Всероссийской олимпиады школьников по географии

7 класс

Тестовый тур

- 1. Наука, изучающая природу земной поверхности, называется
  - а) лимнология, б) биология, в) физическая география, г) геология. 0
- 2. Модель, уменьшенная копия Земли, - это:
  - а) аэрофотоснимок, б) план местности, в) глобус, г) географическая карта. 10.
- 3. Антарктиду открыл:
  - а) Юрий Лисянский, б) Иван Крузенштерн, в) Фаддей Беллинсгаузен, г) Руаль Амундсен. 10
- 4. Самым верхним слоем материковой земной коры является:
  - а) базальтовый б) осадочный в) гранитный г) кварцевый 10
- 5. Горная порода метаморфического происхождения – это:
  - а) глина, б) мрамор, в) известняк, г) гранит 0
- 6. Используя данные климатограммы, определите верное утверждение:



- а) Среднегодовое количество атмосферных осадков составляет менее 200 мм
  - б) Температуры воздуха в декабре выше, чем в мае;
  - в) Максимальное количество атмосферных осадков приходится на сентябрь
  - г) В течение всего года температура воздуха не опускалась ниже -5° С; 10
7. По радио передали: «Влажность воздуха в городе составляет 55%». О чем идет речь?
- а) об абсолютной влажности,
  - б) об относительной влажности, 0
  - в) абсолютной и относительной влажности,
  - г) о повышении давления.
8. Самый жаркий материк - это
- а) Африка б) Австралия в) Южная Америка, г) Антарктида 0
9. Самый крупный масштаб – это:
- а) 1:10 000
  - б) 1:25 000
  - в) 1:40 000
  - г) 1:250 000 10
10. Материки, которые пересекаются экватором, - это:
- а) Африка и Южная Америка б) Антарктида и Евразия в) Евразия и Африка г) Южная Америка и Евразия 10
11. Корабль, на котором было совершено первое кругосветное путешествие – это:
- а) «Золотая лань» б) «Надежда» в) «Санта-Мария» г) «Виктория» 0
12. Выберите верную пару:
- а) Гималаи - Эверест, б) Альпы – Белуха,
  - в) Кавказ - Народная, г) Анды – Эверест. 15

**13. Самый глубокий океан:**

- а) Северный Ледовитый б) Тихий в) Атлантический г) Индийский

15

**14. Страна-рекордсмен по численности населения мира:**

- а) Индия б) Россия в) США г) Китай

**15. Какой из указанных островов самый крупный?**

- а) Сахалин б) Мадагаскар, в) Гренландия, г) Шри-Ланка

15

**Аналитический тур**

**Задание №1.** Прочитайте отрывок, ответьте на предложенные вопросы:

Зимой материк бывает более холодный и, следовательно, давление над ним более высокое, чем над океаном. И воздушные массы, как известно, перемещаются из областей с высоким давлением в области с пониженным давлением. В переводе с арабского языка это ветер называется «Сезон».

1. О каком ветре идет речь?
2. В каких районах страны мы можем наблюдать эти ветры?
3. В чем проявляется их влияние на климат?



В муссон

15

Такая же расположена у морей и океанов

Повышение влажности

**Задание №2.** Заполнить таблицу. Соотнести: название прибора (барометр, гигрометр, осадкомер, флюгер, эхолот); единица измерения (балл, метр, миллиметр, миллиметр ртутного столба, процент). Укажите что определяют приведенные в таблице приборы.

Фотография прибора	Название прибора	Единицы измерения	Что определяет?
	Осадкомер	мм	Количество осадков 1
	Барометр	мм	Атмосферное давление 1

224-7-8

	<p>Термометр</p>	<p>С°</p>	<p>Температуру воздуха</p>
	<p>Флюгер</p>	<p>Сторона света (Север, Ю, З, ЮЗ, СЗ, ЮВ, СВ)</p>	<p>Направление ветра ↑</p>
	<p>Эхолот</p>	<p>Метры</p>	<p>Глубину водоема (Моря, океана и т.д.) ↑</p>

**Задание №3.** Выберите из перечисленных названий стран те страны, название которых совпадают с названиями их столиц.

Китай, Алжир, Индия, Великобритания, Панама, США, Франция, Тунис, Бразилия, Польша. 3Б.

Укажите страну, по территории которой проложен канал, соединяющий два океана.

Назовите эти океаны. Атлантический и Тихий океаны, Панама 2Б.

**Задание №4.** Этот мореплаватель португалец по происхождению, но сменил подданство на испанское. Его экспедиция совершила первое кругосветное плавание. В 1519-1521 гг. он руководил испанской экспедицией по поиску западного пути к Молуккским островам. Первым пересёк Тихий океан, достиг Филиппинских островов, где погиб в схватке с местными жителями. Плавание завершил другой капитан, его помощник, который, затем на своём фамильном гербе изобразивший Землю и подписавший: «Я тот, кто тебя обогнул».

Кто эти путешественники? Какие географические объекты носят имя первого мореплавателя?

Ф. Магеллан, Стрель Магеллана, Магелланский остров.

2Б.

**Задание №5.** Третью часть материка занимают пустыни, одна из них является крупнейшей в мире, её площадь около 8 млн км<sup>2</sup>. Назовите пустыню. О каком материке идёт речь? Перечислите ещё 5 пустынь этого материка. Что такое эрги и гамады?

Сахара. Южная Африка. ~~Азия~~  
28.