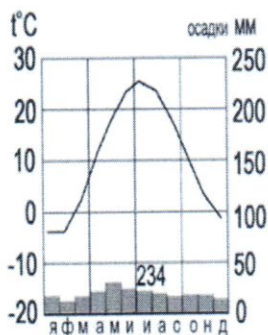


Тестовый тур

1. Наука, изучающая природу земной поверхности, называется
а) лимнология, б) биология, в) физическая география, г) геология. 05.
2. Модель, уменьшенная копия Земли, - это:
а) аэрофотоснимок, б) план местности, в) глобус, г) географическая карта. 15
3. Антарктиду открыл:
а) Юрий Лисянский, б) Иван Крузенштерн, в) Фаддей Беллинсгаузен, г) Руаль Амундсен. 0
4. Самым верхним слоем материковой земной коры является:
а) базальтовый б) осадочный в) гранитный г) кварцевый 15
5. Горная порода метаморфического происхождения – это:
а) глина, б) мрамор, в) известняк, г) гранит 15.
6. Используя данные климатограммы, определите верное утверждение:



- а) Среднегодовое количество атмосферных осадков составляет менее 200 мм
- б) Температуры воздуха в декабре выше, чем в мае;
- в) Максимальное количество атмосферных осадков приходится на сентябрь
- г) В течение всего года температура воздуха не опускалась ниже -5°C ; 15
7. По радио передали: «Влажность воздуха в городе составляет 55%». О чем идет речь?
а) об абсолютной влажности,
б) об относительной влажности, 15
в) абсолютной и относительной влажности,
г) о повышении давления.
8. Самый жаркий материк - это
а) Африка б) Австралия в) Южная Америка, г) Антарктида 15
9. Самый крупный масштаб – это:
а) 1:10 000
б) 1:25 000
в) 1:40 000
г) 1:250 000 0
10. Материки, которые пересекаются экватором, - это:
а) Африка и Южная Америка б) Антарктида и Евразия в) Евразия и Африка г) Южная Америка и Евразия 15.
11. Корабль, на котором было совершено первое кругосветное путешествие – это:
а) «Золотая лань» б) «Надежда» в) «Санта-Мария» г) «Виктория» 0.
12. Выберите верную пару:
а) Гималаи - Эверест, б) Альпы – Белуха, 15
в) Кавказ - Народная, г) Анды – Эверест.

13. Самый глубокий океан:

- а) Северный Ледовитый б) Тихий в) Атлантический г) Индийский

10

14. Страна-рекордсмен по численности населения мира:

- а) Индия б) Россия в) США г) Китай

10

15. Какой из указанных островов самый крупный?

- а) Сахалин б) Мадагаскар в) Гренландия г) Шри-Ланка

10

Аналитический тур



Задание №1. Прочитайте отрывок, ответьте на предложенные вопросы:




Зимой материк бывает более холодный и, следовательно, давление над ним более высокое, чем над океаном. И воздушные массы, как известно, перемещаются из областей с высоким давлением в области с пониженным давлением. В переводе с арабского языка это ветер называется «Сезон».

1. О каком ветре идет речь? *Муссонный*
2. В каких районах страны мы можем наблюдать эти ветры? *В тех районах, которые расположены рядом с морем, океаном...*
3. В чем проявляется их влияние на климат? *Воздушные массы перемещаются из областей с высоким давлением в области с пониженным*

10

Задание №2. Заполнить таблицу. Соотнести: название прибора (барометр, гигрометр, осадкомер, флюгер, эхолот); единица измерения (балл, метр, миллиметр, миллиметр ртутного столба, процент). Укажите что определяют приведенные в таблице приборы.

Фотография прибора	Название прибора	Единицы измерения	Что определяет?
	<i>Осадкомер</i>	<i>Процент, миллиметр</i>	<i>Осадкомер определяет количество осадков (дождь, снег)</i> 15
	<i>Барометр</i>	<i>миллиметр ртутного столба, метр</i>	<i>Барометр определяет, измеряет атмосферное давление</i> 15

	<p>Барометр</p>	<p>Балл</p>	<p>Определяет насколько сильное землетрясение</p> <p>0,5</p>
	<p>Анемометр</p>	<p>Анемометр ветряного станда Метр</p>	<p>Определяет в какую сторону дует ветер</p> <p>1,5</p>
	<p>Эхолот</p>	<p>Метр + процент</p>	<p>Определяет насколько глубоко под водой</p> <p>0,5</p>

Задание №3. Выберите из перечисленных названий стран те страны, название которых совпадают с названиями их столиц.

Китай, Алжир, Индия, Великобритания, Панама, США, Франция, Тунис, Бразилия, Польша.

Укажите страну, по территории которой проложен канал, соединяющий два океана.

Назовите эти океаны. Сред. Тихий и Атлантический океаны

3,5.

1,5.

Задание №4. Этот мореплаватель португалец по происхождению, но сменил подданство на испанское. Его экспедиция совершила первое кругосветное плавание. В 1519-1521 гг. он руководил испанской экспедицией по поиску западного пути к Молуккским островам. Первым пересёк Тихий океан, достиг Филиппинских островов, где погиб в схватке с местными жителями. Плавание завершил другой капитан, его помощник, который, затем на своём фамильном гербе изобразивший Землю и подписавший: «Я тот, кто тебя обогнул».

Кто эти путешественники? Какие географические объекты носят имя первого мореплавателя?

1) Магеллан и
2) Гомес

1,5.

224-7-7

Задание №5. Третью часть материка занимают пустыни, одна из них является крупнейшей в мире, её площадь около 8 млн км². Назовите пустыню. О каком материке идёт речь? Перечислите ещё 5 пустынь этого материка. Что такое эрги и гаммады?

Материк: Африка

25.

Крупнейшая пустыня: Сахара