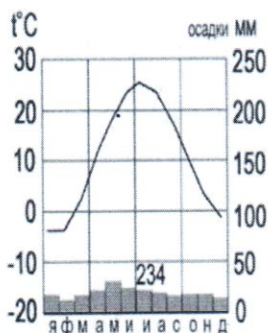


Школьный этап Всероссийской олимпиады школьников по географии

7 класс

Тестовый тур

1. Наука, изучающая природу земной поверхности, называется
 а) лимнология, б) биология, в) физическая география, г) геология. 08
2. Модель, уменьшенная копия Земли, - это:
 а) аэрофотоснимок, б) план местности, в) глобус, г) географическая карта. 18
3. Антарктиду открыл:
 а) Юрий Лисянский, б) Иван Крузенштерн, в) Фаддей Беллинсгаузен, г) Руаль Амундсен. 18
4. Самым верхним слоем материковой земной коры является:
 а) базальтовый б) осадочный в) гранитный г) кварцевый 18
5. Горная порода метаморфического происхождения – это:
 а) глина, б) мрамор, в) известняк, г) гранит 0
6. Используя данные климатограммы, определите верное утверждение:



- а) Среднегодовое количество атмосферных осадков составляет менее 200 мм
 б) Температуры воздуха в декабре выше, чем в мае;
 в) Максимальное количество атмосферных осадков приходится на сентябрь
 г) В течение всего года температура воздуха не опускалась ниже -5°C ; 18
7. По радио передали: «Влажность воздуха в городе составляет 55%». О чем идет речь?
 а) об абсолютной влажности,
 б) об относительной влажности, 18
 в) абсолютной и относительной влажности,
 г) о повышении давления.
8. Самый жаркий материк - это
 а) Африка б) Австралия в) Южная Америка г) Антарктида 18
9. Самый крупный масштаб – это:
 а) 1:10 000 18
 б) 1:25 000
 в) 1:40 000
 г) 1:250 000
10. Материки, которые пересекаются экватором, - это:
 а) Африка и Южная Америка б) Антарктида и Евразия в) Евразия и Африка г) Южная Америка и Евразия 18
11. Корабль, на котором было совершено первое кругосветное путешествие – это:
 а) «Золотая лань» б) «Надежда» в) «Санта-Мария» г) «Виктория» 18
12. Выберите верную пару:
 а) Гималаи - Эверест, б) Альпы – Белуха, 18
 в) Кавказ - Народная, г) Анды – Эверест.

13. Самый глубокий океан:

- а) Северный Ледовитый б) Тихий в) Атлантический г) Индийский

15

14. Страна-рекордсмен по численности населения мира:

- а) Индия б) Россия в) США г) Китай

15

15. Какой из указанных островов самый крупный?

- а) Сахалин б) Мадагаскар в) Гренландия г) Шри-Ланка

15.



Аналитический тур




Задание №1. Прочитайте отрывок, ответьте на предложенные вопросы:

Зимой материк бывает более холодный и, следовательно, давление над ним более высокое, чем над океаном. И воздушные массы, как известно, перемещаются из областей с высоким давлением в области с пониженным давлением. В переводе с арабского языка это ветер называется «Сезон».

- О каком ветре идет речь? *муссон*
- В каких районах страны мы можем наблюдать эти ветры? *Хабаровский край, Сахалинская область*
- В чем проявляется их влияние на климат? *ярко выражены 4 времени года (сезонность)*

Задание №2. Заполнить таблицу. Соотнести: название прибора (барометр, гигрометр, осадкомер, флюгер, эхолот); единица измерения (балл, метр, миллиметр, миллиметр ртутного столба, процент). Укажите что определяют приведенные в таблице приборы.

Фотография прибора	Название прибора	Единицы измерения	Что определяет?
	<i>Осадкомер</i>	<i>мм. метр.</i>	<i>кол-во осадков</i> <i>15.</i>
	<i>Барометр</i>	<i>рт/столб.</i> <i>мм</i>	<i>давление</i> <i>1,5</i>

	<p>волосяной гигрометр</p>	<p>% процент</p>	<p>влажность 1,5</p>
	<p>Флюгер</p>	<p>бали</p>	<p>направление и силу ветра 1,5</p>
	<p>Эхолот</p>	<p>метр</p>	<p>глубина (реверс дна) 1,5</p>

Задание №3. Выберите из перечисленных названий стран те страны, название которых совпадают с названиями их столиц.

Китай, Алжир, Индия, Великобритания, Панама, США, Франция, Тунис, Бразилия, Польша. 0,5 1,5.

Укажите страну, по территории которой проложен канал, соединяющий два океана.

Назовите эти океаны.
Панама - океаны Тихий и Атлантический
Панамский канал 2,5.

Задание №4. Этот мореплаватель португалец по происхождению, но сменил подданство на испанское. Его экспедиция совершила первое кругосветное плавание. В 1519-1521 гг. он руководил испанской экспедицией по поиску западного пути к Молуккским островам. Первым пересёк Тихий океан, достиг Филиппинских островов, где погиб в схватке с местными жителями. Плавание завершил другой капитан, его помощник, который, затем на своём фамильном гербе изобразивший Землю и подписавший: «Я тот, кто тебя обогнул».

Фернант Магелан

Кто эти путешественники? Какие географические объекты носят имя первого мореплывателя?

Фернант Магелан - 1. Магеланов пролив, Магеланские острова 1,5

Задание №5. Третью часть материка занимают пустыни, одна из них является крупнейшей в мире, её площадь около 8 млн км². Назовите пустыню. О каком материке идёт речь? Перечислите ещё 5 пустынь этого материка. Что такое эрги и гемады?

Африка, Сахара, ~~Наб~~ ²⁵ ~~деса~~
Намиб, Атакама, ^и
Каракумы, ^и пустыня Виктория
^и 15.