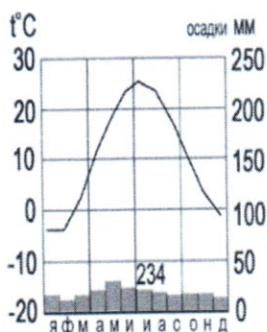


## Школьный этап Всероссийской олимпиады школьников по географии

7 класс

## Тестовый тур

1. Наука, изучающая природу земной поверхности, называется  
 а) лимнология, б) биология, в) физическая география, г) геология. 05  
15
2. Модель, уменьшенная копия Земли, - это:  
 а) аэрофотоснимок, б) план местности,  в) глобус, г) географическая карта.
3. Антарктиду открыл:  
 а) Юрий Лисянский, б) Иван Крузенштерн,  в) Фаддей Беллинсгаузен, г) Руаль Амундсен. 15
4. Самым верхним слоем материковой земной коры является:  
 а) базальтовый  б) осадочный в) гранитный г) кварцевый 15
5. Горная порода метаморфического происхождения - это:  
 а) глина, б) мрамор, в) известняк,  г) гранит 05
6. Используя данные климатограммы, определите верное утверждение:



- а) Среднегодовое количество атмосферных осадков составляет менее 200 мм
  - б) Температуры воздуха в декабре выше, чем в мае;
  - в) Максимальное количество атмосферных осадков приходится на сентябрь
  - г) В течение всего года температура воздуха не опускалась ниже  $-5^{\circ}\text{C}$ ; 15
7. По радио передали: «Влажность воздуха в городе составляет 55%». О чем идет речь?  
 а) об абсолютной влажности,  
 б) об относительной влажности, 15  
 в) абсолютной и относительной влажности,  
 г) о повышении давления.
8. Самый жаркий материк - это  
 а) Африка б) Австралия в) Южная Америка, г) Антарктида 15
9. Самый крупный масштаб - это:  
 а) 1:10 000  
 б) 1:25 000 15  
 в) 1:40 000  
 г) 1:250 000
10. Материки, которые пересекаются экватором, - это:  
 а) Африка и Южная Америка б) Антарктида и Евразия в) Евразия и Африка г) Южная Америка и Евразия 15
11. Корабль, на котором было совершено первое кругосветное путешествие - это:  
 а) «Золотая лань» б) «Надежда» в) «Санта-Мария»  г) «Виктория» 05
12. Выберите верную пару:  
 а) Гималаи - Эверест, б) Альпы - Белуха, 15  
 в) Кавказ - Народная, г) Анды - Эверест.

224-4-3

13. Самый глубокий океан:

- а) Северный Ледовитый б) Тихий в) Атлантический г) Индийский

15

14. Страна-рекордсмен по численности населения мира:

- а) Индия б) Россия в) США г) Китай

15

15. Какой из указанных островов самый крупный?

- а) Сахалин б) Мадагаскар в) Гренландия г) Шри-Ланка

15



Аналитический тур

Задание №1. Прочитайте отрывок, ответьте на предложенные вопросы:

Зимой материк бывает более холодный и, следовательно, давление над ним более высокое, чем над океаном. И воздушные массы, как известно, перемещаются из областей с высоким давлением в области с пониженным давлением. В переводе с арабского языка это ветер называется «Сезон».

- О каком ветре идет речь? *муссон*
- В каких районах страны мы можем наблюдать эти ветры? *Сахалинская область, Хабаровский край*
- В чем проявляется их влияние на климат? *ярко выражены времена года* 25.

Задание №2. Заполнить таблицу. Соотнести: название прибора (барометр, гигрометр, осадкомер, флюгер, эхолот); единица измерения (балл, метр, миллиметр, миллиметр ртутного столба, процент). Укажите что определяют приведенные в таблице приборы.

Фотография прибора	Название прибора	Единицы измерения	Что определяет?
	<i>Осадкомер</i>	<i>мм</i>	<i>кол-во осадков</i>  <i>0,5</i>
	<i>Барометр</i>	<i>мм. рт.ст.</i>	<i>атмосферное давление</i>  <i>0,5</i>

224-7-3

**Задание №5.** Третью часть материка занимают пустыни, одна из них является крупнейшей в мире, её площадь около 8 млн км<sup>2</sup>. Назовите пустыню. О каком материке идёт речь? Перечислите ещё 5 пустынь этого материка. Что такое эрги и гаммады?

Пустыня Сахара. Материк Африка

18

18.




Пустыни: Замшоб, Атакарама, Зулмурия

25

Эрги - название некоторых пустынь в Японии, Корее и т.д.

Гаммады - название пустынь

27,58.

	<p>Термометр</p>	<p>%</p>	<p>влажность</p>
	<p>Ветер</p>	<p>мс ос</p>	<p>Ветер 0</p>
	<p>Экран</p>	<p>метр</p>	<p>шубина рейка для</p>

6,50

**Задание №3.** Выберите из перечисленных названий стран те страны, название которых совпадают с названиями их столиц.

Китай, Алжир, Индия, Великобритания, Панама, США, Франция, Тунис, Бразилия, Польша. 15.

Укажите страну, по территории которой проложен канал, соединяющий два океана.

Назовите эти океаны. Тихий - океан  
Атлантический океан

15.  
15.

**Задание №4.** Этот мореплаватель португалец по происхождению, но сменил подданство на испанское. Его экспедиция совершила первое кругосветное плавание. В 1519-1521 гг. он руководил испанской экспедицией по поиску западного пути к Молуккским островам. Первым пересёк Тихий океан, достиг Филиппинских островов, где погиб в схватке с местными жителями. Плавание завершил другой капитан, его помощник, который, затем на своём фамильном гербе изобразивший Землю и подписавший: «Я тот, кто тебя обогнул».

Кто эти путешественники? Какие географические объекты носят имя первого мореплавателя?

Магелан, 15

Эрasmus, Коль - имя первого мореплавателя 15.