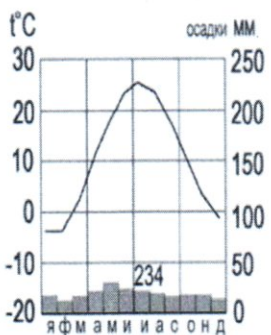


## Тестовый тур

1. Наука, изучающая природу земной поверхности, называется 5б.  
 а) лимнология,  б) биология,  в) физическая география,  г) геология.
2. Модель, уменьшенная копия Земли, - это: 5б  
 а) аэрофотоснимок, б) план местности,  в) глобус, г) географическая карта.
3. Антарктиду открыл: 18  
 а) Юрий Лисянский, б) Иван Крузенштерн,  в) Фаддей Беллинсгаузен, г) Руаль Амундсен.
4. Самым верхним слоем материковой земной коры является: 15  
 а) базальтовый  б) осадочный в) гранитный г) кварцевый
5. Горная порода метаморфического происхождения – это: 0  
 а) глина, б) мрамор, в) известняк,  г) гранит
6. Используя данные климатограммы, определите верное утверждение:
- 
- а) Среднегодовое количество атмосферных осадков составляет менее 200 мм 18.  
 б) Температуры воздуха в декабре выше, чем в мае;  
 в) Максимальное количество атмосферных осадков приходится на сентябрь  
 г) В течение всего года температура воздуха не опускалась ниже  $-5^{\circ}\text{C}$ ;
7. По радио передали: «Влажность воздуха в городе составляет 55%». О чем идет речь? 15  
 а) об абсолютной влажности,  
 б) об относительной влажности,  
 в) абсолютной и относительной влажности,  
 г) о повышении давления.
8. Самый жаркий материк - это 18  
 а) Африка б) Австралия в) Южная Америка г) Антарктида
9. Самый крупный масштаб – это: 18  
 а) 1:10 000  
 б) 1:25 000  
 в) 1:40 000  
 г) 1:250 000
10. Материки, которые пересекаются экватором, - это:  
 а) Африка и Южная Америка б) Антарктида и Евразия в) Евразия и Африка г) Южная Америка и Евразия 18
11. Корабль, на котором было совершено первое кругосветное путешествие – это: 18.  
 а) «Золотая лань» б) «Надежда»  в) «Санта-Мария» г) «Виктория»
12. Выберите верную пару: 18.  
 а) Гималаи - Эверест, б) Альпы – Белуха,  
 в) Кавказ - Народная, г) Анды – Эверест.

**13. Самый глубокий океан:**

- а) Северный Ледовитый **б) Тихий** в) Атлантический г) Индийский

15

**14. Страна-рекордсмен по численности населения мира:**

- а) Индия б) Россия в) США **г) Китай**

15

**15. Какой из указанных островов самый крупный?**

- а) Сахалин б) Мадагаскар **в) Гренландия** г) Шри-Ланка

15

**Аналитический тур**



**Задание №1.** Прочитайте отрывок, ответьте на предложенные вопросы:

Зимой материк бывает более холодный и, следовательно, давление над ним более высокое, чем над океаном. И воздушные массы, как известно, перемещаются из областей с высоким давлением в области с пониженным давлением. В переводе с арабского языка это ветер называется «Сезон».

1. О каком ветре идет речь? *Муссон*
2. В каких районах страны мы можем наблюдать эти ветры? *приблизженных к морям и океанам*
3. В чем проявляется их влияние на климат? *приносят циклоны*




15

**Задание №2.** Заполнить таблицу. Соотнести: название прибора (барометр, гигрометр, осадкомер, флюгер, эхолот); единица измерения (балл, метр, миллиметр, миллиметр ртутного столба, процент). Укажите что определяют приведенные в таблице приборы.

Фотография прибора	Название прибора	Единицы измерения	Что определяет?
	<i>Осадкомер</i>	<i>миллиметр</i>	<i>кол-во осадков</i>  <i>1,5</i>
	<i>Барометр</i>	<i>миллиметр ртутного столба</i>	<i>атмосферное давление</i>  <i>1,5</i>



2024-7-5

	Барометр	Процент	Влажность 1,5
	Флюгер	Метр	Направление ветра 1
	Эхолот	Батт	f.

**Задание №3.** Выберите из перечисленных названий стран те страны, название которых совпадают с названиями их столиц.

Китай, Алжир, Индия, Великобритания, Панама, США, Франция, Тунис, Бразилия, Польша. <sup>3.</sup>  
 Укажите страну, по территории которой проложен канал, соединяющий два океана. Панама

Назовите эти океаны.

Атлантический и Тихий 25.

**Задание №4.** Этот мореплаватель португалец по происхождению, но сменил подданство на испанское. Его экспедиция совершила первое кругосветное плавание. В 1519-1521 гг. он руководил испанской экспедицией по поиску западного пути к Молуккским островам. Первым пересёк Тихий океан, достиг Филиппинских островов, где погиб в схватке с местными жителями. Плавание завершил другой капитан, его помощник, который, затем на своём фамильном гербе изобразивший Землю и подписавший: «Я тот, кто тебя обогнул».

Кто эти путешественники? Какие географические объекты носят имя первого мореплавателя?

Фернанд Магелан

Магеланский пролив, Магеланские острова 25.

**Задание №5.** Третью часть материка занимают пустыни, одна из них является крупнейшей в мире, её площадь около 8 млн км<sup>2</sup>. Назовите пустыню. О каком материке идёт речь? Перечислите ещё 5 пустынь этого материка. Что такое эрги и гамалы?

Сахара. Африка. Агаяша, Намиб, Королева Виктория, Каракум

38.