

## Школьный этап Всероссийской олимпиады по географии

10 класс

## Тестовый тур

**1. Выберите верное утверждение о географическом положении России**

- А) Россия граничит с Грузией, Арменией, Азербайджаном  
 Б) Крайняя материковая северная точка России является крайней точкой Евразии  
 В) Моря России относятся к бассейнам всех четырех океанов  
 Г) Самую протяженную сухопутную границу Россия имеет с Китаем

10

**2. Выберите верное утверждение о народах России.**

- А) Россия - самая многонациональная страна в мире  
 Б) Карелы и коми относятся к индоевропейской языковой семье  
 В) Татары - второй по численности народ России  
 Г) Калмыки и удмурты исповедуют ислам

10

**3. Отметьте верное соответствие между названием электростанции и ее типом**

- А) Братская - тепловая электростанция  
 Б) Саяно - Шушенская - гидроэлектростанция  
 В) Паужетская - атомная электростанция  
 Г) Билибинская - геотермальная электростанция

10

**4. Лидером по добыче нефти в России является**

- А) Татарстан  
 Б) Ханты-Мансийский автономный округ  
 В) Ямало - Ненецкий автономный округ  
 Г) Башкортостан

10

**5. Для размещения предприятий по выплавке алюминия ведущее значение имеет фактор**

- А) водный  
 Б) транспортный  
 В) энергетический  
 Г) трудовых ресурсов

10

**6. Производство азотных удобрений развивается вблизи предприятий**

- 1) черной металлургии полного цикла  
 2) цветной металлургии  
 3) судостроения  
 4) передельной металлургии

10

**7. Установите соответствие между народами и их расовой принадлежностью.**

Раса	Народ
1) Негроидная	А. Русские, французы
2) Монголоидная	Б. Пигмеи, папуасы
3) Европеоидная	В. Китайцы, японцы

1-Б  
 2-В  
 3-А

10

225-10-1

8. Естественный прирост населения – это ...

- А) увеличение численности населения в результате увеличения рождаемости
- Б) разность между числом родившихся и умерших на одну тысячу жителей
- В) увеличение численности населения в результате иммиграции
- Г) разность между числом иммигрантов и эмигрантов на одну тысячу жителей

15

9. Самая густонаселённая страна в мире – это ...

- А) Индия
- Б) Китай
- В) Монако
- Г) Республика Корея

05.

10. Уникальный минеральный ресурс, добываемый в Калининградской области

- А) изумруды
- Б) янтарь
- В) мрамор
- Г) асбест

15

Ответ: Парагвай

11. Страна, имеющая наименьшую плотность населения.

	Страна	Площадь, тыс. кв. км	Население, млн чел.
1	Армения	30	3
2	Великобритания	244	61
3	Парагвай	407	7
4	Малайзия	333	25

15

12. Выберите из перечисленного списка наиболее крупную городскую агломерацию

- 1) Мехико
- 2) Сидней
- 3) Стокгольм
- 4) Санкт-Петербург

15

13. Страна, где в общей численности населения доля горожан наибольшая

- 1) Болгария
- 2) Португалия
- 3) Китай
- 4) Кувейт

15

14. Государство, имеющее монархическую форму правления.

- 1) Испания
- 2) Португалия
- 3) Франция
- 4) Финляндия

15

15. Государство, имеющее унитарный тип устройства

- 1) Франция
- 2) США
- 3) Германия
- 4) Россия

15

61  
x 25  
-----  
305  
122  
-----  
15250  
15250 | 61  
- 122  
-----  
305  
305  
-----  
0

№ 11 1)  $\frac{3000000 \text{ чел.}}{30000 \text{ км}^2} = 100 \text{ чел./км}^2$

2)  $\frac{61000000 \text{ чел.}}{244000 \text{ км}^2} = \frac{30500}{122} = \frac{15250}{61} = 250 \text{ чел./км}^2$







3)  $\frac{7000000 \text{ чел.}}{407000 \text{ км}^2} = \frac{7000}{407}$ ;  $\frac{7000}{407} = 17 \text{ чел./км}^2$

4)  $\frac{25000000 \text{ чел.}}{333000 \text{ км}^2} = \frac{25000}{333}$ ;  $\frac{25000}{333} = 75 \text{ чел./км}^2$







## Аналитический тур

Задание № 1. Определите район и административный центр Хабаровского края по его гербу и фотографии. Заполните таблицу.

№	Характеристики	Район Хабаровского края	Административный центр
1.	 	Нахайский	с.Троицкое
2.	 	Верхнебуринский	пгт. Чегдомы
3.	 	Комсомольский	г. Комсомольск-на-Амуре



4.			Ванкинский	пгт. Ванкино  2,5
5.			Хабаровский	г. Хабаровск  2,5

**Задание №2.** По берегам озера расположено несколько заповедников. Один из них был основан в 1916 году для сохранения ценного зверька, обитающего в районе хребта на восточном берегу. Хребет и вид животного получили название от реки, которая впадает в озеро. Река дала также название местному северо-восточному ветру. В целом район озера характеризуется сложной системой местных ветров.

О чем и о ком идет речь?

Название реки: Баргузин      Название ветра: Баргузин  
 Название заповедника: Баргузинский      Название зверька: Баргузинский соболь

**Задание №3.** Заполните пропущенные строки в таблице «Центры народного промысла Европейской части России».

Центр традиционных народных промыслов	Назвать изделие народного промысла	Причина развития данного промысла в этом центре
<u>Гжель (Московская область)</u>	Керамическая посуда (или роспись посуды, или фарфоровая посуда, или керамика)	сырьевая - наличие собственных разнообразных глин.
Дымково (Киров)	<u>Игрушка</u>	— 0
<u>Палех (Владимирская обл.)</u>	лаковая миниатюра, или иконопись	— 0
<u>Хохлома (Нижегородская обл.)</u>	Роспись по дереву, или роспись деревянной мебели и посуды	сырьевая - наличие древесины

88



**Задание №4.** Эта страна-архипелаг по форме правления является конституционной монархией. Однородное по национальному составу население этой страны отличается большой численностью: она входит в первую десятку населения стран мира. Страна обладает очень крупным и самым современным морским торговым флотом, так как около 9/10 используемого сырья и топлива импортируется.

Определите страну Япония и назовите ещё 2 страны, имеющие такое географическое положение.  
Филиппины, Индонезия 25

**Задание №5.** Заполните таблицу на основе текста.

Отличительной особенностью этой территории считается разнообразие природного ландшафта: от плоской полупустынной низменности до покрытых снегом горных хребтов, где расположилась высочайшая «точка» субъекта, которая с 1991г. приобрела ещё один важный статус. Несмотря на то, что название субъекта переводится как «страна гор», горные и предгорные ландшафты занимают 56% территории, остальное - равнины, самая крупная из которых имеет два названия. Первое связано с названиями, ограничивающих её рек, а второе - с названием малочисленного народа, здесь проживающего. Расположившись на нескольких «границах», этот регион имеет богатую историю. По его территории проходил известнейший торговый путь древности, один из населённых пунктов считается первым центром виноделия, а другой - древнейшим городом РФ. Основные отрасли производства: сельское хозяйство (по выращиванию одного из видов с/х продукции регион является одним из лидеров в стране, вторая отрасль даёт сырьё ковроткачеству), виноделие, рыболовство, добывающая промышленность, электроэнергетика и народные промыслы (например, художественная обработка металла). Важнейшим культурным наследием территории является танец, названный в честь одного из народов проживающего на этой удивительной земли.

1. Субъект РФ и его столицу	Республика Дагестан, Махачкала
2. Высочайшую точку и её дополнительный статус	г. Базардюзю, крайняя южная точка России 0,5
3. Оба названия равнинной территории	—
4. Три крупнейших народа	Авары, Кумыки, лезгинь 0,5
5. Торговый путь	Великий шёлковый путь 0,5
6. Танец	Лезгинка 0,5
7. Центр виноделия	Кумляр 0,5
8. Центр художественной обработки металла	— 0
9. Древнейший город России	Дербент 0,5
10. Две отрасли специализации сельского хозяйства	овцеводство 0,5
11. Важнейший вид промысловых рыб региона	—
12. Отрасли добывающей промышленности	Нефтяная, газовая 2
13. Преобладающий тип электростанций	Гидроэлектростанции 1

