

Школьный этап Всероссийской олимпиады по географии

10 класс

Тестовый тур

1. Выберите верное утверждение о географическом положении России

- А) Россия граничит с Грузией, Арменией, Азербайджаном
- Б) Крайняя материковая северная точка России является крайней точкой Евразии
- В) Моря России относятся к бассейнам всех четырех океанов
- Г) Самую протяженную сухопутную границу Россия имеет с Китаем

2. Выберите верное утверждение о народах России.

- А) Россия - самая многонациональная страна в мире
- Б) Карелы и коми относятся к индоевропейской языковой семье
- В) Татары - второй по численности народ России
- Г) Калмыки и удмурты исповедуют ислам

3. Отметьте верное соответствие между названием электростанции и ее типом

- А) Братская - тепловая электростанция
- Б) Саяно - Шушенская - гидроэлектростанция
- В) Паужетская-атомная электростанция
- Г) Билибинская - геотермальная электростанция

4. Лидером по добыче нефти в России является

- А) Татарстан
- Б) Ханты-Мансийский автономный округ
- В) Ямало - Ненецкий автономный округ
- Г) Башкортостан

5. Для размещения предприятий по выплавке алюминия ведущее значение имеет фактор

- А) водный
- Б) транспортный
- В) энергетический
- Г) трудовых ресурсов

6. Производство азотных удобрений развивается вблизи предприятий

- 1) черной металлургии полного цикла
- 2) цветной металлургии
- 3) судостроения
- 4) передельной металлургии

7. Установите соответствие между народами и их расовой принадлежностью.

Раса	Народ
1) Негроидная	А. Русские, французы
2) Монголоидная	Б. Пигмеи, папуасы
3) Европеидная	В. Китайцы, японцы

8. Естественный прирост населения – это ...

- А) увеличение численности населения в результате увеличения рождаемости
- Б) разность между числом родившихся и умерших на одну тысячу жителей
- В) увеличение численности населения в результате иммиграции
- Г) разность между числом иммигрантов и эмигрантов на одну тысячу жителей

9. Самая густонаселённая страна в мире — это ...

- А) Индия
- Б) Китай
- Ⓟ В) Монако
- Г) Республика Корея

10. Уникальный минеральный ресурс, добываемый в Калининградской области

- А) изумруды
- Ⓟ Б) янтарь
- В) мрамор
- Г) асбест

11. Страна, имеющая наименьшую плотность населения.

	Страна	Площадь, тыс. кв. км	Население, млн чел.
1	Армения	30	3
2	Великобритания	244	61
Ⓟ 3	Парагвай	407	7
4	Малайзия	333	25

12. Выберите из перечисленного списка наиболее крупную городскую агломерацию

- Ⓟ 1) Мехико
- 2) Сидней
- 3) Стокгольм
- 4) Санкт-Петербург

13. Страна, где в общей численности населения доля горожан наибольшая

- 1) Болгария
- 2) Португалия
- 3) Китай
- Ⓟ 4) Кувейт

14. Государство, имеющее монархическую форму правления.

- Ⓟ 1) Испания
- 2) Португалия
- 3) Франция
- 4) Финляндия

15. Государство, имеющее унитарный тип устройства

- Ⓟ 1) Франция
- 2) США
- 3) Германия
- 4) Россия

148

$$\begin{array}{r} 3\ 000\ 000\ 30\ 000 \\ \underline{3\ 000\ 000} \quad \underline{100} \\ 00 \end{array}$$

$$\begin{array}{r} 7\ 000\ 000\ 407\ 000 \\ \underline{4\ 070\ 000} \quad \underline{17} \\ 2\ 930\ 000 \\ \underline{2\ 849\ 000} \\ 00810000 \end{array}$$

$$\begin{array}{r} 61\ 000\ 000\ 244\ 000 \\ \underline{48\ 800\ 000} \quad \underline{250} \\ 12\ 200\ 00 \\ \underline{12\ 200\ 00} \\ 00 \end{array}$$

Задание №2. По берегам озера расположено несколько заповедников. Один из них был основан в 1916 году для сохранения ценного зверька, обитающего в районе хребта на восточном берегу. Хребет и вид животного получили название от реки, которая впадает в озеро. Река дала также название местному северо-восточному ветру. В целом район озера характеризуется сложной системой местных ветров.

О чем и о ком идет речь?

Название реки: _____ Название ветра: _____

Название заповедника: _____ Название зверька: _____

Задание №3. Эта страна-архипелаг по форме правления является конституционной монархией. Однородное по национальному составу население этой страны отличается большой численностью: она входит в первую десятку населения стран мира. Страна обладает очень крупным и самым современным морским торговым флотом, так как около 9/10 используемого сырья и топлива импортируется.

Определите страну Япония и назовите ещё 2 страны, имеющие такое географическое положение.

Индонезия, Филиппины

+25











Задание №4. Заполните таблицу на основе текста.

Отличительной особенностью этой территории считается разнообразие природного ландшафта: от плоской полупустынной низменности до покрытых снегом горных хребтов, где расположилась высочайшая «точка» субъекта, которая с 1991г. приобрела ещё один важный статус. Несмотря на то, что название субъекта переводится как «страна гор», горные и предгорные ландшафты занимают 56% территории, остальное - равнины, самая крупная из которых имеет два названия. Первое связано с названиями, ограничивающих её рек, а второе - с названием малочисленного народа, здесь проживающего. Расположившись на нескольких «границах», этот регион имеет богатую историю. По его территории проходил известнейший торговый путь древности, один из населённых пунктов считается первым центром виноделия, а другой - древнейшим городом РФ. Основные отрасли производства: сельское хозяйство (по выращиванию одного из видов с/х продукции регион является одним из лидеров в стране, вторая отрасль даёт сырьё ковроткачеству), виноделие, рыболовство, добывающая промышленность, электроэнергетика и народные промыслы (например, художественная обработка металла). Важнейшим культурным наследием территории является танец, названный в честь одного из народов проживающего на этой удивительной земли.

1. Субъект РФ и его столицу	Республика Дагестан ; г. Магаскакала +1,5
2. Высочайшую точку и её дополнительный статус	Базар-Дюю ; Самая высокая точка самая высокая точка России +1,5
3. Оба названия равнинной территории	-
4. Три крупнейших народа	авары, даргинцы, лезгины +2
5. Торговый путь	Шёлковый Шёлковый +0,5
6. Танец	Лезгинка +0,5
7. Центр виноделия	Кизляр Кизляр +0,5
8. Центр художественной обработки металла	Дагестанские охи Дагестанские охи -

Аналитический тур

Задание № 1. Определите район и административный центр Хабаровского края по его гербу и фотографии. Заполните таблицу.

№	Характеристики		Район Хабаровского края	Административный центр
1.			<p>Камчатский Камчатский</p>	<p>с. Топкино +</p>
2.			<p>Верхнебурейский</p>	<p>г. Чегданов +</p>
3.			<p>Камсаткинский</p>	<p>г. Камсаткина-Амур +</p>
4.			<p>Ванинский</p>	<p>г. Ванино +</p>
5.			<p>Хабаровский</p>	<p>г. Хабаровск +</p>

9. Древнейший город России	1. Вулкан	10,5
10. Две отрасли специализации сельского хозяйства	Виноделие и садоводство Виноделие и садоводство	12
11. Важнейший вид промысловых рыб реки	Осетр	10,5
12. Отрасли добывающей промышленности	Добыча нефти и газа Добыча нефти и газа	18
13. Преобладающий тип электростанций	Гидроэлектростанции	1