

Управление образования
 администрации города Хабаровска
 муниципальное бюджетное
 общеобразовательное учреждение
 СРЕДНЯЯ ОБЩЕОБРАЗОВАТЕЛЬНАЯ
 ШКОЛА С УГЛУБЛЕННЫМ ИЗУЧЕНИЕМ
 ОТДЕЛЬНЫХ ПРЕДМЕТОВ № 80
 (МБОУ СОШ с УИОП № 80)

Свердлова ул., д. 28, г. Хабаровск, 680009

Тел. (4212) 70-05-98

ОКПО 44673935, ОГРН 1022701286222

ИНН / КПП 2724041076 / 272401001

№ _____

от _____

135 презёр

смены тьюри:

Лаврова Н.В. *[подпись]*

Ломачев С.А. *[подпись]*

Фамалдина С.И. *[подпись]*

133-2

ВСЕРОССИЙСКАЯ ОЛИМПИАДА ШКОЛЬНИКОВ

ПО ТЕХНОЛОГИИ 2016–2017 уч. г.

ШКОЛЬНЫЙ ЭТАП

7–8 классы

Номинация «Культура дома и декоративно-прикладное творчество»

Теоретический тур

1. Подберите слово, чтобы получить известную поговорку: «Иа чужой _____, рот не разевай».

каравай

Какими пищевыми веществами он богат?

жиры

2. «Приготовьте» завтрак на шесть человек, рассчитайте необходимое количество продуктов и заполните таблицу.

№	Блюдо	Продукты	Количество продуктов на одного человека	Необходимое количество продуктов
1	сложный бутерброд	хлеб	40г	240г
		колбаса	30 г	180г
		сыр	50г	180 г
		зелень	10 г	60г
2	йогурт	<u>йогурт</u>	1 баночка	6 баночек
3	какао	какао-порошок	1 чайная ложка	6 чайных ложек
		сахар	30 г	180г
		молоко	1 стакан	6 стаканов

15

Управление образования
Администрации города Хабаровска
муниципальное бюджетное
общеобразовательное учреждение
**СРЕДНЯЯ ОБЩЕОБРАЗОВАТЕЛЬНАЯ
ШКОЛА С УГЛУБЛЕННЫМ ИЗУЧЕНИЕМ
ОТДЕЛЬНЫХ ПРЕДМЕТОВ № 80
(МБОУ СОШ с УИОП № 80)**

Свердлова ул., д. 28, г.Хабаровск, 680009

Тел. (4212) 70-05-98

ОКПО 44673935, ОГРН 1022701286222

ИНН / КПП 2724041076 / 272401001

№ _____

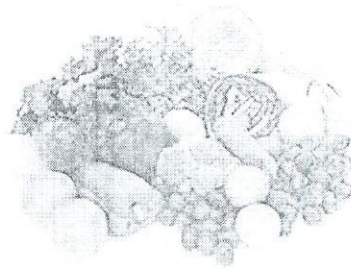
от _____

133-2

2. Установите соответствие между продуктами, изображёнными на рисунках, и витаминами, которыми они богаты.



А



Б



В



Г

1) витамин А

2) витамин В

3) витамин С

4) витамин D

А	Б	В	Г
1	3	4	2

4. Какую обработку нужно произвести с отгадкой загадки: «Без окон, без дверей, полна горница людей», чтобы использовать этот продукт для приготовления рассольника?

Замариновать (засолить)

5. Как модельер-конструктор одежды для животных запишет мерку полуобхват хвоста?

Снх

Управление образования
 администрации города Хабаровска
 муниципальное бюджетное
 общеобразовательное учреждение
**СРЕДНЯЯ ОБЩЕОБРАЗОВАТЕЛЬНАЯ
 ШКОЛА С УГЛУБЛЕННЫМ ИЗУЧЕНИЕМ
 ОТДЕЛЬНЫХ ПРЕДМЕТОВ № 80
 (МБОУ СОШ с УИОП № 80)**

Свердлова ул., д. 28, г.Хабаровск, 680009
 Тел. (4212) 70-05-98
 ОКПО 44673935, ОГРН 1022701286222
 ИНН / КПП 2724041076 / 272401001

№ _____
 от _____

133-2

6. Выберите самую толстую иглу для швейной машины из предложенного списка.

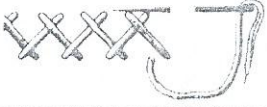

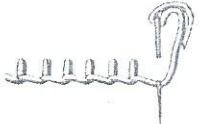


а) № 80

б) № 70

в) № 60

г) № 90

7. Установите соответствие между рисунком шва и его названием.

1	Стебельчатый шов	А	
2	Тамбурный шов	Б	
3	Петельный шов	В	
4	Шов «назад иголку»	Г	
5	Шов «козлик»	Д	

1-г, 2-а, 3-д, 4-б, 5-в

8. Укажите период истории Европы (древняя Греция, эпоха Возрождение, XIX век), для которого характерна такая одежда.

Управление образования
 администрации города Хабаровска
 муниципальное бюджетное
 общеобразовательное учреждение
**СРЕДНЯЯ ОБЩЕОБРАЗОВАТЕЛЬНАЯ
 ШКОЛА С УГЛУБЛЕННЫМ ИЗУЧЕНИЕМ
 ОТДЕЛЬНЫХ ПРЕДМЕТОВ № 80
 (МБОУ СОШ с УИОП № 80)**

Свердлова ул., д. 28, г.Хабаровск, 680009
 Тел. (4212) 70-05-98
 ОКПО 44673935, ОГРН 1022701286222
 ИНН / КПП 2724041076 / 272401001

№ _____ от _____

133-2

15

1	2	3
Древн. Греция	Эпоха Возрождения	XIX век

9. Какой вид рукоделия представлен в таблице? Установите соответствие схем и образцов.

15

1 	А
2 	Б
3 	В
4 	Д

1	2	3	4
б	а	г	в

Управление образования
 администрации города Хабаровска
 муниципальное бюджетное
 общеобразовательное учреждение
**СРЕДНЯЯ ОБЩЕОБРАЗОВАТЕЛЬНАЯ
 ШКОЛА С УГЛУБЛЕННЫМ ИЗУЧЕНИЕМ
 ОТДЕЛЬНЫХ ПРЕДМЕТОВ № 80**
 (МБОУ СОШ с УИОП № 80)

Свердлова ул., д. 28, г.Хабаровск, 680009

Тел. (4212) 70-05-98

ОКПО 44673935, ОГРН 1022701286222

ИНН / КПП 2724041076 / 272401001

№ _____

от _____

133-2

10. Творческое задание

Выберите одну из предложенных конструкций юбки:

- а) прямая;
- б) клиньевая;
- в) коническая.

Для выбранной юбки выполните следующие задания.

10.1. Выполните эскиз модели.

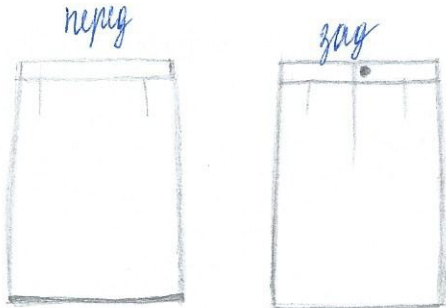
10.2. Перечислите материалы, которые необходимы для его изготовления.

10.3. Какие инструменты и оборудование потребуются?

10.4. Опишите технологическую последовательность изготовления изделия.

10.5. Предложите способы декорирования изделия.

10.1
25



10.2. Материалы: ткань, нитки (в цвет ткани и контраст. цвета для наметки), пуговка, машинка.

10.3. Инстр. и оборуд.: шв. машинка, игла, ножницы, сантиметр, мит. бумага, карандаш, линейка, порт. мел, утюг, ш. доска.

10.4. Последоват. из-ние изделия:

- 1) Снятие мерок
- 2) Создание выкройки
- 3) Прокл. ткань и перенести выкр. на ткань
- 4) Вырезать детали
- 5) Наметать
- 6) Простить на шв. машинке (+шить машинку)
- 7) Сшить намет. швы
- 8) Притупить пуговку
- 9) Прогладить изделие

10.5.

Способы декорирования:	
перед	зад

(Яксия юбка с нашивками)

(юбка с крупным цветком из шифона и мел. цвет)