

133-9

Школа № 80

Табачкова Н.В.

Томашев С.А.

Бахандина С.М.

ВСЕРОССИЙСКАЯ ОЛИМПИАДА ШКОЛЬНИКОВ

ПО ТЕХНОЛОГИИ 2016–2017 уч. г.

ШКОЛЬНЫЙ ЭТАП

7–8 классы

Номинация «Культура дома и декоративно-прикладное творчество»

Теоретический тур

1. Подберите слово, чтобы получить известную поговорку: «На чужой каравай, рот не разевай».

Какими пищевыми веществами он богат?

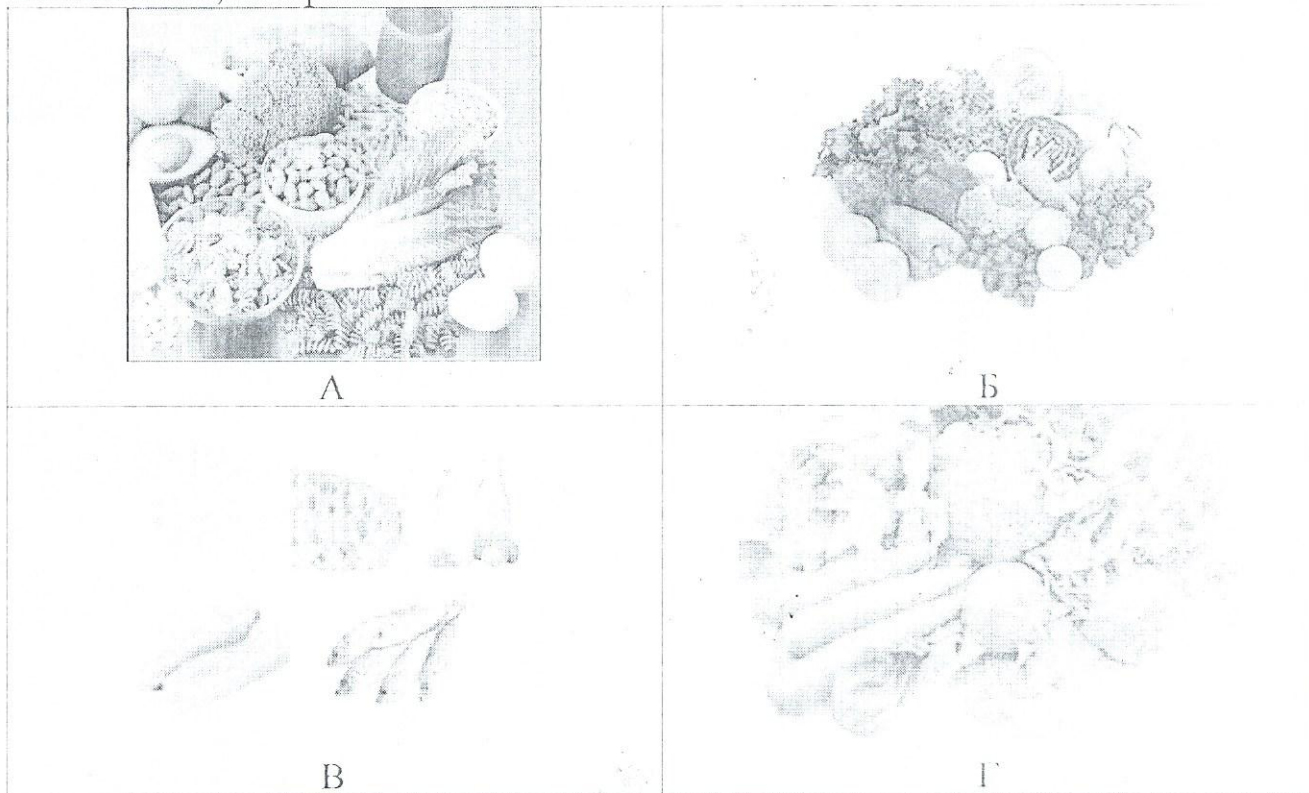
Каравай делают из теста. Он богат углеводами, жирными. Содержит небольшое кол-во белков.

2. «Приготовьте» завтрак на шесть человек, рассчитайте необходимое количество продуктов и заполните таблицу.

№	Блюдо	Продукты	Количество продуктов на одного человека	Необходимое количество продуктов
1	сложный бутерброд	хлеб	60г	360г
		колбаса	30 г	180г
		сыр	30г	180 г
		зелень	10 г	60г
2	йогурт	<u>йогурт в баночке</u>	<u>1 баночка</u>	6 баночек
3	какао	какао-порошок	1 чайная ложка	6 чайных лож.
		сахар	30 г	180г
		молоко	1 стакан	6 стаканов

133-9

2. Установите соответствие между продуктами, изображёнными на рисунках, и витаминами, которыми они богаты.



1) витамин А

3) витамин С

2) витамин В

4) витамин D

А	Б	В	Г
4	3	2	1

4. Какую обработку нужно произвести с отгадкой загадки: «Без окон, без дверей, полна горница людей», чтобы использовать этот продукт для приготовления рассольника?

пересушенную (преснуть его), очистить

5. Как модельер-конструктор одежды для животных запишет мерку полуобхват хвоста? *По самой широкой точке мерить:*

Измерить с помощью сантиметра обхват хвоста, разделить на два. Записать в см.

133-9

№ _____
На № _____ от _____

6. Выберите самую толстую иглу для швейной машины из предложенного списка.

☒ а) № 80

б) № 70

в) № 60

г) № 90

7. Установите соответствие между рисунком шва и его названием.

1	Стебельчатый шов	А	
2	Тамбурный шов	Б	
3	Петельный шов	В	
4	Шов «назад иголку»	Г	
5	Шов «козлик»	Д	

1-Г 2-Д 3-В 4-Б 5-А

8. Укажите период истории Европы (древняя Греция, эпоха Возрождение, XIX век), для которого характерна такая одежда.

Управление образования
администрации города Хабаровска
муниципальное бюджетное
общеобразовательное учреждение
**СРЕДНЯЯ ОБЩЕОБРАЗОВАТЕЛЬНАЯ
ШКОЛА С УГЛУБЛЕННЫМ ИЗУЧЕНИЕМ
ОТДЕЛЬНЫХ ПРЕДМЕТОВ № 80
(МБОУ СОШ с УИОП № 80)**

Свердлова ул., д. 28, г.Хабаровск, 680009

Тел. (4212) 70-05-98

ОКПО 44673935, ОГРН 1022701286222

ИНН / КПП 2724041076 / 272401001

133-9


№

от



9. Какой вид рукоделия представлен в таблице? Установите соответствие схем и образцов.

Вязание крючком



1	2	3	4
Б	А	Д	В

133-9

10. Творческое задание


Выберите одну из предложенных конструкций юбки:

- а) прямая;
- б) клиньевая;
- ☒ в) коническая.

Для выбранной юбки выполните следующие задания.

- 10.1. Выполните эскиз модели.
- 10.2. Перечислите материалы, которые необходимы для его изготовления.
- 10.3. Какие инструменты и оборудование потребуются?
- 10.4. Опишите технологическую последовательность изготовления изделия.
- 10.5. Предложите способы декорирования изделия.

10.1 2б



2б

2б 10.2

- 1. Ткань хлопок
- 2. резинка
- 3. нитки
- 4. Булавка

10.5

- 1. Спомощью вышивки
- 2. Жемчужки
- 3. Краски для ткани
- 4. Бусин
- 5. Велюров.
- 6. Тесьма
- 7. Декорирование вставок
- 8. Клей

9. Заутюжить

к ткани.

10. Сшить

застежку

2б

10.3.

- 1. Ножницы
- 2. Игла
- 3. Швейная машинка
- 4. Утюг
- 5. Булавка
- 6. Карандаш

10.4

- 1. Совершить замеры (Ди, Ст, ОБ)
- 2. Сделать выкройку из миллим. бумаги
- 3. Положить на ткань, вырезать
- 4. Обработать швы, край (сметать)
- 5. Сшить все на швейной машинке
- 6. Вырезать из ткани

7. Пришить пояс

8. Проверить мерку

13. Примерить

14. Исправить мерку