

133 - 10

155 победитель

Управление образования  
администрации города Хабаровска  
муниципальное бюджетное  
общеобразовательное учреждение  
СРЕДНЯЯ ОБЩЕОБРАЗОВАТЕЛЬНАЯ  
ШКОЛА С УГЛУБЛЕННЫМ ИЗУЧЕНИЕМ  
ОТДЕЛЬНЫХ ПРЕДМЕТОВ № 80  
(МБОУ СОШ с УИОП № 80)

Свердлова ул., д. 28, г. Хабаровск, 680004

Тел. (4212) 70-05-98

ОКПО 44673935, ОГРН 1022701286722

ИНН / КПП 2724041076 / 2724030001

№

Н: от

Имена жюри:  
Тавилова Н. В. *Тавилова*  
Ломашев С. А. *Ломашев*  
Балагодина С. И. *Балагодина*

## ВСЕРОССИЙСКАЯ ОЛИМПИАДА ШКОЛЬНИКОВ

ПО ТЕХНОЛОГИИ 2016–2017 уч. г.

## ШКОЛЬНЫЙ ЭТАП

7–8 классы

Номинация «Культура дома и декоративно-прикладное творчество»

## Теоретический тур

1. Подберите слово, чтобы получить известную поговорку: «На чужой  
каравай, рот не разевай».

Какими пищевыми веществами он богат?

2. «Приготовьте» завтрак на шесть человек, рассчитайте необходимое количество продуктов и заполните таблицу.
- Белки, углеводы, минеральные вещества и витамины, которые даже при долгом хранении сохраняют свою биологическую активность.*

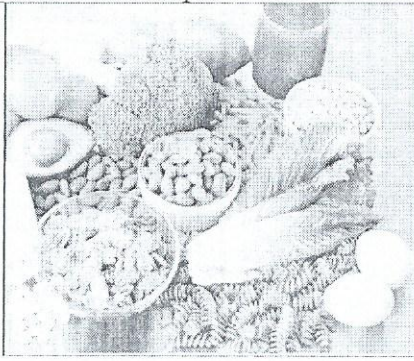
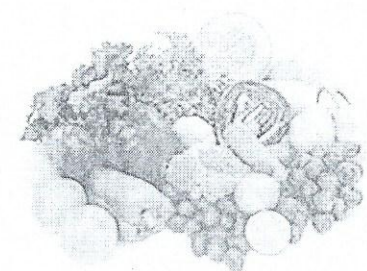


№	Блюдо	Продукты	Количество продуктов на одного человека	Необходимое количество продуктов
1	сложный бутерброд	хлеб	2 ломтика	12 ломтиков
		колбаса	30 г	180 г
		сыр	30 г	180 г
		зелень	10 г	60 г
2	йогурт	<i>упаковка йогурта</i>	1 баночка	6 баночек
3	какао	какао-порошок	1 чайная ложка	6 чайных ложек
		сахар	30 г	180 г
		молоко	1 стакан	6 стаканов

Управление образования  
 администрации города Хабаровска  
 муниципальное бюджетное  
 общеобразовательное учреждение  
**СРЕДНЯЯ ОБЩЕОБРАЗОВАТЕЛЬНАЯ  
 ШКОЛА С УГЛУБЛЕННЫМ ИЗУЧЕНИЕМ  
 ОТДЕЛЬНЫХ ПРЕДМЕТОВ № 80  
 (МБОУ СОШ с УИОП № 80)**

Свердлова ул., д. 28, г.Хабаровск, 680009  
 Тел. (4212) 70-05-98  
 ОКПО 44673935, ОГРН 1022701286222  
 ИНН / КПП 2724041076 / 272401001

№ \_\_\_\_\_  
 от \_\_\_\_\_

2. Установите соответствие между продуктами, изображёнными на рисунках, и витаминами, которыми они богаты.

 <p style="text-align: center;">А</p>	 <p style="text-align: center;">Б</p>
 <p style="text-align: center;">В</p>	 <p style="text-align: center;">Г</p>

15

- 1) витамин А
- 2) витамин В

- 3) витамин С
- 4) витамин D

А	Б	В	Г
2	3	4	1

4. Какую обработку нужно произвести с отгадкой загадки: «Без окон, без дверей, полна горница людей», чтобы использовать этот продукт для приготовления рассольника?

Трамбовать, порезать

5. Как модельер-конструктор одежды для животных запишет мерку полуобхват хвоста?

С.х. - полуобхват хвоста

Управление образования  
 администрации города Хабаровска  
 муниципальное бюджетное  
 общеобразовательное учреждение  
**СРЕДНЯЯ ОБЩЕОБРАЗОВАТЕЛЬНАЯ  
 ШКОЛА С УГЛУБЛЕННЫМ ИЗУЧЕНИЕМ  
 ОТДЕЛЬНЫХ ПРЕДМЕТОВ № 80  
 (МБОУ СОШ с УИОП № 80)**

Свердлова ул., д. 28, г.Хабаровск, 680009

Тел. (4212) 70-05-98

ОКПО 44673935, ОГРН 1022701286222

ИНН / КПП 2724041076 / 272401001

№ \_\_\_\_\_  
 от \_\_\_\_\_

6. Выберите самую толстую иглу для швейной машины из предложенного списка.



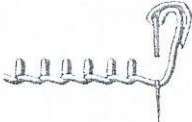


а) № 80

б) № 70

в) № 60

г) № 90

7. Установите соответствие между рисунком шва и его названием.

1	Стебельчатый шов	А	
2	Тамбурный шов	Б	
3	Петельный шов	В	
4	Шов «назад иголку»	Г	
5	Шов «козлик»	Д	

1-Г, 2-Д, 3-В, 4-Б, 5-А

8. Укажите период истории Европы (древняя Греция, эпоха Возрождение, XIX век), для которого характерна такая одежда.

Управление образования  
 администрации города Хабаровска  
 муниципальное бюджетное  
 общеобразовательное учреждение  
**СРЕДНЯЯ ОБЩЕОБРАЗОВАТЕЛЬНАЯ  
 ШКОЛА С УГЛУБЛЕННЫМ ИЗУЧЕНИЕМ  
 ОТДЕЛЬНЫХ ПРЕДМЕТОВ № 80  
 (МБОУ СОШ с УИОП № 80)**

Свердлова ул., д. 28, г.Хабаровск, 680009




Тел. (4212) 70-05-98

ОКПО 44673935, ОГРН 1022701286222





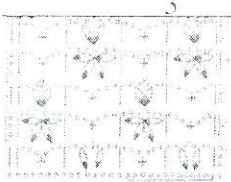
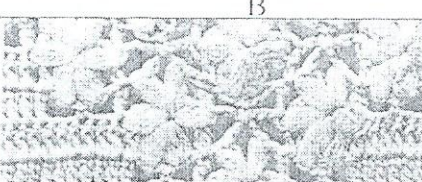


ИНН / КПП 2724041076 / 272401001

№ \_\_\_\_\_

на № \_\_\_\_\_ от \_\_\_\_\_

		
1	2	3
<i>Древняя Греция Эпоха Возрождения XIX век</i>		

9. Какой вид рукоделия представлен в таблице? Установите соответствие схем и образцов.

1	А
	
2	Б
	
3	В
	
4	Д
	

1	2	3	4
Б	А	В	Д

Управление образования  
администрации города Хабаровска  
муниципальное бюджетное  
общеобразовательное учреждение  
**СРЕДНЯЯ ОБЩЕОБРАЗОВАТЕЛЬНАЯ  
ШКОЛА С УГЛУБЛЕННЫМ ИЗУЧЕНИЕМ  
ОТДЕЛЬНЫХ ПРЕДМЕТОВ № 80  
(МБОУ СОШ с УИОП № 80)**

Свердлова ул., д. 28, г.Хабаровск, 680009  
Тел. (4212) 70-05-98  
ОКПО 14673935, ОГРН 1022701286222  
КПП / КИП 2724041076 / 272401001

№ \_\_\_\_\_

### 10. Творческое задание

Выберите одну из предложенных конструкций юбки:


- а) прямая;
- б) клиньевая;
- в) коническая.

Для выбранной юбки выполните следующие задания.

- 10.1. Выполните эскиз модели.
- 10.2. Перечислите материалы, которые необходимы для его изготовления.
- 10.3. Какие инструменты и оборудование потребуются?
- 10.4. Опишите технологическую последовательность изготовления изделия.
- 10.5. Предложите способы декорирования изделия.

10.1.

2,5



2,5 10.2. Хлопчатобумажная ткань, нитки, швейная машинка, ножницы, резинка

10.3. Швейная машинка

2,5 10.4. Снять мерки, приобрести необходимые материалы, отмерить и вырезать чужую ткань, сметать <sup>выложить</sup> части вместе, прошить, убрать сметанные нитки, вложить резинку, прошить, колерить и сшить <sup>изделие</sup>

10.5.

2,5



Добавить нитки, пуговицы, камешки, ленты, значки, кружево и т.д.