

Управление образования администрации города Хабаровска
 муниципальное бюджетное общеобразовательное учреждение
СРЕДНЯЯ ОБЩЕОБРАЗОВАТЕЛЬНАЯ ШКОЛА С УГЛУБЛЕННЫМ ИЗУЧЕНИЕМ ОТДЕЛЬНЫХ ПРЕДМЕТОВ № 80 (МБОУ СОШ с УИОП № 80)




Свердлова ул., д. 28, г.Хабаровск, 680009
 Тел. (4212) 70-05-98
 ОКПО 44673935, ОГРН 1022701286222
 ИНН / КПП 2724041076 / 272401001

№ _____
 На № _____ от _____

103-13

85 призер

Имена жюри

Лаврова Г.В. 
 Ломачев С.А. - 
 Башонгина С.М. 

ВСЕРОССИЙСКАЯ ОЛИМПИАДА ШКОЛЬНИКОВ

ПО ТЕХНОЛОГИИ 2016–2017 уч. г.

ШКОЛЬНЫЙ ЭТАП

6 класс

Номинация «Культура дома и декоративно-прикладное творчество»

Теоретический тур

1. Подберите слово, чтобы получить известную поговорку: «Какова хозяйка, такова на ней и рубаха».
2. «Приготовьте» завтрак на пять человек, рассчитайте необходимое количество продуктов и заполните таблицу.

№	Блюдо	Продукты	Количество продуктов на одного человека	Необходимое количество продуктов
1	сложный бутерброд	хлеб	2 ломтика	10 ломтиков
		колбаса	30 г	150 г
		сыр	30 г	150 г
		зелень	10 г	50 г
2	йогурт		1 баночка	5 баночек
3	какао	какао-порошок	1 чайная ложка	5 чайных ложек
		сахар	30 г	150 г
		молоко	1 стакан	5 стаканов

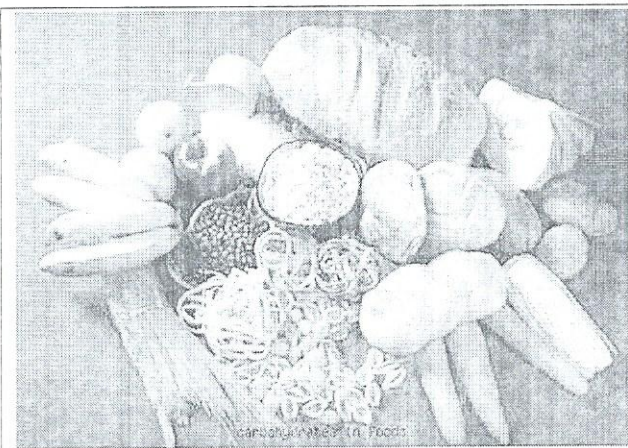
15

Управление образования
 администрации города Хабаровска
 муниципальное бюджетное
 общеобразовательное учреждение
**СРЕДНЯЯ ОБЩЕОБРАЗОВАТЕЛЬНАЯ
 ШКОЛА С УГЛУБЛЕННЫМ ИЗУЧЕНИЕМ
 ОТДЕЛЬНЫХ ПРЕДМЕТОВ № 80
 (МБОУ СОШ с УИОП № 80)**


Свердлова ул., д. 28, г.Хабаровск, 680009
 Тел. (4212) 70-05-98
 ОКПО 44673935, ОГРН 1022701786222
 ИНН / КПП 2724041076 / 2724040011

№ _____
 На № _____ от _____


3. Установите соответствие между продуктами, изображёнными на рисунках, и пищевыми веществами, которыми они богаты.



1



2



3

А) белки

Б) жиры

В) углеводы

15

1	2	3
в	а	б

4. К какой группе продуктов относится отгадка загадки: «Сидит дед, во сто шуб одет, кто его раздевает, тот слёзы проливает»?

чеснок

Управление образования
администрации города Хабаровск
муниципальное бюджетное
общеобразовательное учреждение
**СРЕДНЯЯ ОБЩЕОБРАЗОВАТЕЛЬНАЯ
ШКОЛА С УГЛУБЛЕННЫМ ИЗУЧЕНИЕМ
ОТДЕЛЬНЫХ ПРЕДМЕТОВ № 80
(МБОУ СОШ с УИОП № 80)**

Свердлова ул., д. 28, г.Хабаровск, 680009


Тел. (4212) 70-05-98

ОКПО 44673935, ОГРН 1022701286222

ИНН / КПП 2724041076 / 272401001

№ _____
на № _____ от _____

5. Покажите саржевое переплетение с помощью двух цветов, напишите названия нитей в данном переплетении.



6. Выберите самые толстые нитки из предложенного списка.

а) № 80

б) № 40

в) № 60

г) № 10

7. Две каменные лестницы одинаковой высоты 2 м и с одинаковым основанием длины 3 м покрыты ковровыми дорожками. У первой лестницы 7 ступенек, а у второй – 9 (см. рисунок). Дорожка, покрывающая какую из лестниц, длиннее?

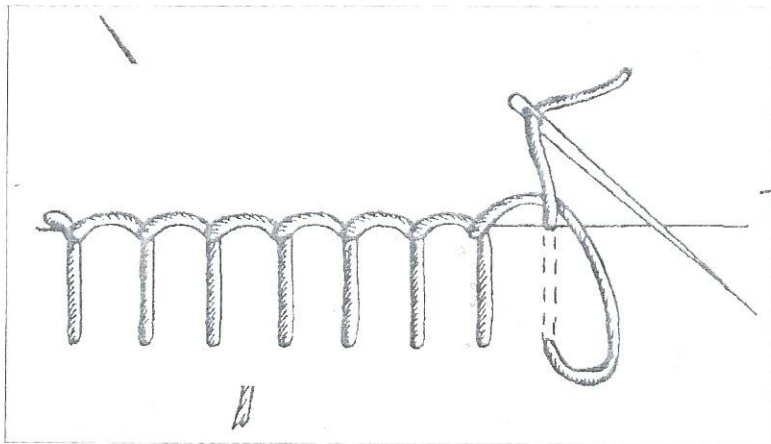
у первой

8. Как нужно положить нож и вилку при сервировке стола?

15 нож справа от тарелки, вилка - слева

№ _____
На № _____ от _____

Как называется такой стежок?



18
цепельный

10. Творческое задание.

Выберите фартук из предложенных по назначению:

- а) для домашней кухни;
- б) для русского народного костюма;
- в) для слесарно-столярных работ

Для выбранного фартука выполните следующие задания.

10.1. Выполните эскиз модели.

10.2. Перечислите материалы, которые необходимы для его изготовления.

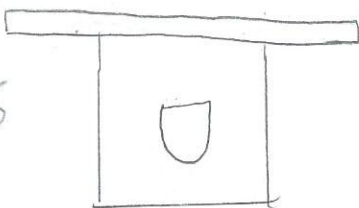
10.3. Какие инструменты и оборудование потребуются?

10.4. Опишите технологическую последовательность изготовления изделия.

10.5. Предложите способы декорирования изделия.

10.1.

28



10.2. 1) миллиметровая бумага

2) ткань

3) нитки

10.3. игла, иглоносец, швейная машинка, ножницы

10.4. создание эскиза, создание выкройки, разметка, шивание деталей на машинке,

украшение. 28 10.5. карманы, вышивка, украшение из лент, брошь из бисера, украшение из фетра.