

133-4 95.

призёр

шения жюри!

Тавилова Н.В.

Томищев С.А.

Баламандина С.И.

ВСЕРОССИЙСКАЯ ОЛИМПИАДА ШКОЛЬНИКОВ

ПО ТЕХНОЛОГИИ 2016–2017 уч. г.

ШКОЛЬНЫЙ ЭТАП

6 класс

Номинация «Культура дома и декоративно-прикладное творчество»

Теоретический тур

1. Подберите слово, чтобы получить известную поговорку: «Какова хозяйка, такова на ней и рубаха».
2. «Приготовьте» завтрак на пять человек, рассчитайте необходимое количество продуктов и заполните таблицу.

№	Блюдо	Продукты	Количество продуктов на одного человека	Необходимое количество продуктов
1	сложный бутерброд	хлеб	2 ломтика	40 ломтика
		колбаса	30 г	150 г
		сыр	30 г	150 г
		зелень	10 г	50 г
2	йогурт		1 баночка	5 баночек
3	какао	какао-порошок	1 чайная ложка	5 чайных ложек
		сахар	30 г	150 г
		молоко	1 стакан	5 ст.

Управление образования
 администрации города Хабаровска
 муниципальное бюджетное
 общеобразовательное учреждение
**СРЕДНЯЯ ОБЩЕОБРАЗОВАТЕЛЬНАЯ
 ШКОЛА С УГЛУБЛЕННЫМ ИЗУЧЕНИЕМ
 ОТДЕЛЬНЫХ ПРЕДМЕТОВ № 80
 (МБОУ СОШ с УИОП № 80)**

Свердлова ул., д. 28, г.Хабаровск, 680009

Тел. (4212) 70-05-98

ОКПО 44673935, ОГРН 1022701286222

ИНН / КПП 2724041076 / 272401001

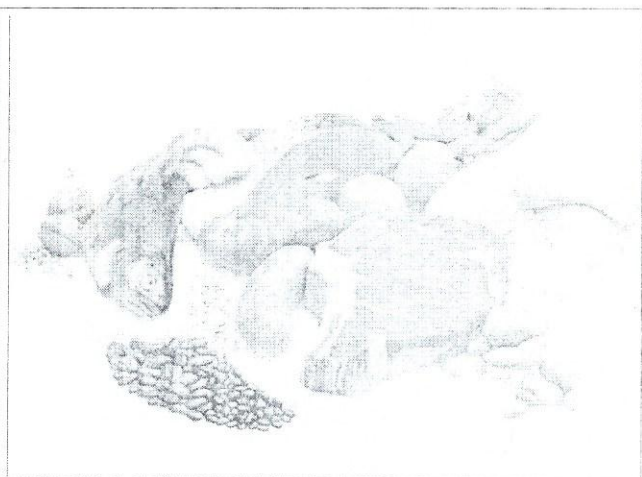
№ _____

от _____


3. Установите соответствие между продуктами, изображёнными на рисунках, и пищевыми веществами, которыми они богаты.



1



2



3

А) белки

Б) жиры

В) углеводы

1	2	3
В)	А)	Б)

4. К какой группе продуктов относится отгадка загадки: «Сидит лед, во сто шуб одет, кто его раздевает, тот слёзы проливает»?


15
овощи

Управление образования
администрации города Хабаровска
муниципальное бюджетное
общеобразовательное учреждение
**СРЕДНЯЯ ОБЩЕОБРАЗОВАТЕЛЬНАЯ
ШКОЛА С УГЛУБЛЕННЫМ ИЗУЧЕНИЕМ
ОТДЕЛЬНЫХ ПРЕДМЕТОВ № 80
(МБОУ СОШ с УИОП № 80)**

Свердлова ул., д. 28, г.Хабаровск, 680004
Тел. (4212) 70-05-98
ОКПО 44673935, ОГРН 1022701286222
ИНН / КПП 2724041076 / 272404000

№ _____
от _____

5. Покажите саржевое переплетение с помощью двух цветов, напишите названия нитей в данном переплетении.



6. Выберите самые толстые нитки из предложенного списка.

а) № 80

б) № 40

в) № 60

г) № 10

7. Две каменные лестницы одинаковой высоты 2 м и с одинаковым основанием длины 3 м покрыты ковровыми дорожками. У первой лестницы 7 ступенек, а у второй – 9 (см. рисунок). Дорожка, покрывающая какую из лестниц, длиннее?

9 ступенек длиннее.

8. Как нужно положить нож и вилку при сервировке стола?

15 нож с право, вилку с лево

Свердлова ул., д. 28, г.Хабаровск, 680009

Тел. (4212) 70-05-98

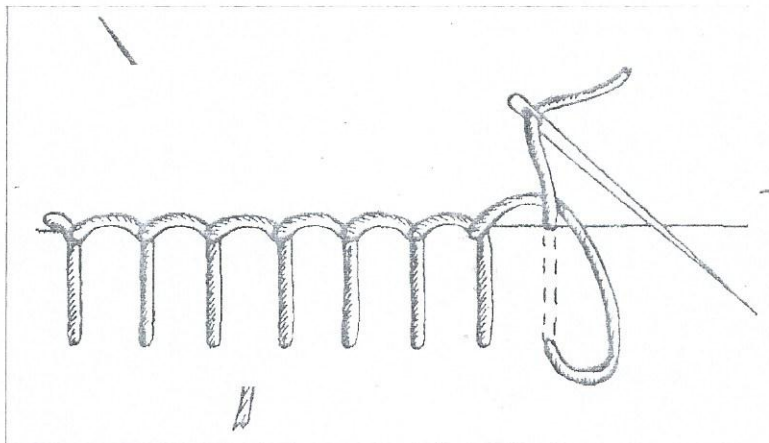
ОКПО 44673935, ОГРН 1022701286222

ИНН / КПП 2724041076 / 272401001

№ _____

от _____

Как называется такой стежок?



обметочный.

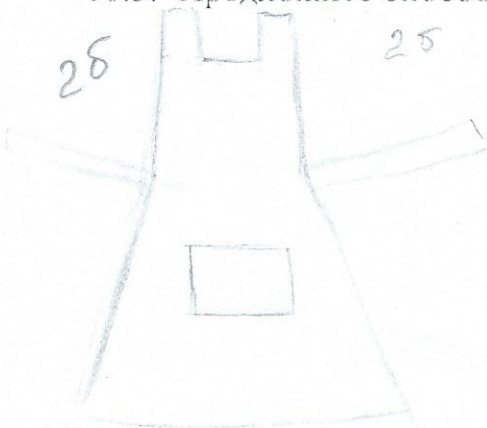
10. Творческое задание.

Выберите фартук из предложенных по назначению:

- а) для домашней кухни;
- б) для русского народного костюма;
- в) для слесарно-столярных работ

Для выбранного фартука выполните следующие задания.

- 10.1. Выполните эскиз модели.
- 10.2. Перечислите материалы, которые необходимы для его изготовления.
- 10.3. Какие инструменты и оборудование потребуются?
- 10.4. Опишите технологическую последовательность изготовления изделия.
- 10.5. Предложите способы декорирования изделия.



ткань х/б,
швейная машинка
нитки, иголки, мел, булавки.