

85

победитель

имена жюри:

Лавинова И.В.

Ломачев С.А.

Фаворкина С.И.

ВСЕРОССИЙСКАЯ ОЛИМПИАДА ШКОЛЬНИКОВ

ПО ТЕХНОЛОГИИ 2016–2017 уч. г.

ШКОЛЬНЫЙ ЭТАП

6 класс

Номинация «Культура дома и декоративно-прикладное творчество»

Теоретический тур

1. Подберите слово, чтобы получить известную поговорку: «Какова \_\_\_\_\_, такова на ней и рубаха».
2. «Приготовьте» завтрак на пять человек, рассчитайте необходимое количество продуктов и заполните таблицу.

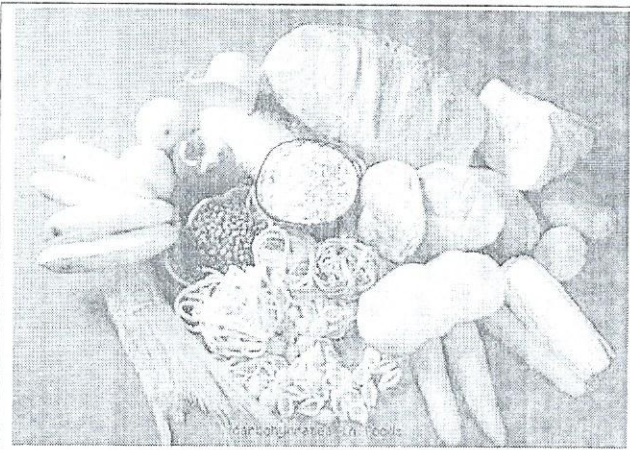
№	Блюдо	Продукты	Количество продуктов на одного человека	Необходимое количество продуктов
1	сложный бутерброд	хлеб	2 ломтика	10 ломтиков
		колбаса	30 г	150 г
		сыр	30 г	150 г
		зелень	10 г	50 г
2	йогурт		1 баночка	5 баночек
3	какао	какао-порошок	1 чайная ложка	5 чайных ложек
		сахар	30 г	150 г
		молоко	1 стакан	5 стаканов

Управление образования администрации города Хабаровска, муниципальное бюджетное общеобразовательное учреждение, СРЕДНЯЯ ОБЩЕОБРАЗОВАТЕЛЬНАЯ ШКОЛА С УГЛУБЛЕННЫМ ИЗУЧЕНИЕМ ОТДЕЛЬНЫХ ПРЕДМЕТОВ № 80 (МБОУ СОШ с УИОП № 80)

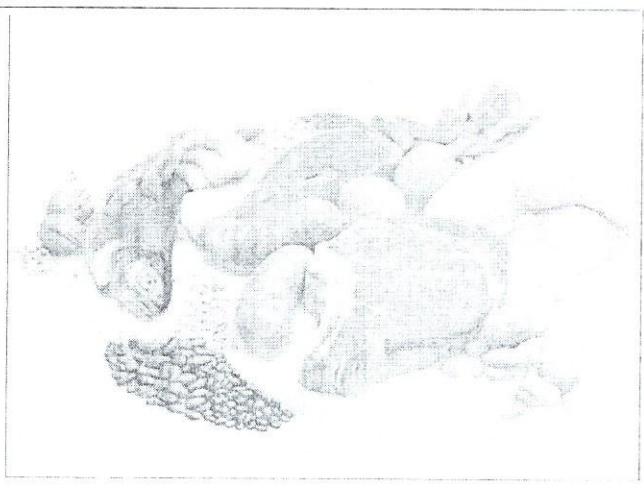
Свердлова ул., д. 28, г.Хабаровск, 680009  
Тел. (4212) 70-05-98  
ОКПО 44673935, ОГРН 1022701286222  
ИНН / КПП 2724041076 / 272401001

№ \_\_\_\_\_ от \_\_\_\_\_


3. Установите соответствие между продуктами, изображёнными на рисунках, и пищевыми веществами, которыми они богаты.



1



2



3

15

А) белки

Б) жиры

В) углеводы

1	2	3
В	А	Б

4. К какой группе продуктов относится отгадка загадки: «Сидит дед, во сто шуб одет, кто его раздевает, тот слёзы проливает»?

15

~~ягода~~ лук свекла (лук) ~~ягода~~



Управление образования  
администрации города Хабаровска  
муниципальное бюджетное  
общеобразовательное учреждение  
**СРЕДНЯЯ ОБЩЕОБРАЗОВАТЕЛЬНАЯ  
ШКОЛА С УГЛУБЛЕННЫМ ИЗУЧЕНИЕМ  
ОТДЕЛЬНЫХ ПРЕДМЕТОВ № 80  
(МБОУ СОШ с УИОП № 80)**

Свердлова ул., д. 28, г.Хабаровск, 680009


Тел. (4212) 70-05-98

ОКПО 44673935, ОГРН 1022701286222

ИНН / КПП 2724041076 / 272401001

№ \_\_\_\_\_  
на № \_\_\_\_\_ от \_\_\_\_\_

5. Покажите саржевое переплетение с помощью двух цветов, напишите названия нитей в данном переплетении.



6. Выберите самые толстые нитки из предложенного списка.

- а) № 80      б) № 40      в) № 60      г) № 10

7. Две каменные лестницы одинаковой высоты 2 м и с одинаковым основанием длины 3 м покрыты ковровыми дорожками. У первой лестницы 7 ступенек, а у второй – 9 (см. рисунок). Дорожка, покрывающая какую из лестниц, длиннее?

*первая*

8. Как нужно положить нож и вилку при сервировке стола?

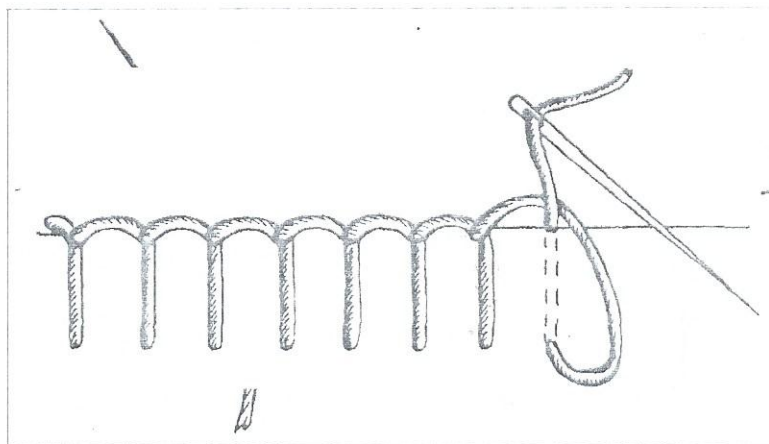
*справа от себя*

Управление образования  
Администрации города Хабаровска  
муниципальное бюджетное  
общеобразовательное учреждение  
**СРЕДНЯЯ ОБЩЕОБРАЗОВАТЕЛЬНАЯ  
ШКОЛА С УГЛУБЛЕННЫМ ИЗУЧЕНИЕМ  
ОТДЕЛЬНЫХ ПРЕДМЕТОВ № 80**  
(МБОУ СОШ с УИОП № 80)

Свердлова ул., д. 28, г.Хабаровск, 680009  
Тел. (4212) 70-05-98  
ОКПО 44673935, ОГРН 1022701286222  
ИНН / КПП 2724041076 / 272401001

№ \_\_\_\_\_  
от \_\_\_\_\_

Как называется такой стежок?



10. Творческое задание.

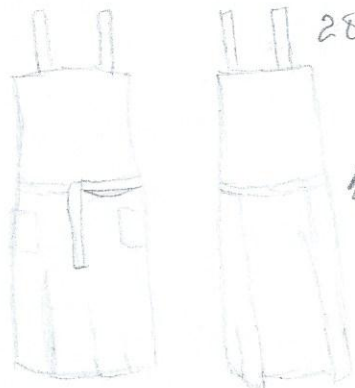
Выберите фартук из предложенных по назначению:

- а) для домашней кухни;
- б) для русского народного костюма;
- в) для слесарно-столярных работ

Для выбранного фартука выполните следующие задания.

- 10.1. Выполните эскиз модели.
- 10.2. Перечислите материалы, которые необходимы для его изготовления.
- 10.3. Какие инструменты и оборудование потребуются?
- 10.4. Опишите технологическую последовательность изготовления изделия.
- 10.5. Предложите способы декорирования изделия.

1  
26



282 ткань льная, нитки № 40, булавки,  
картон, карандаш, иголка.

48 швейная машинка, иголка, карандаш,  
булавки.

- 4. 1) выполнить модель фартука из картона
- 2) вырезать из льняной ткани части фартука
- 3) сшить части фартука

5. -