

Управление образования администрации города Хабаровска
 муниципальное бюджетное общеобразовательное учреждение
СРЕДНЯЯ ОБЩЕОБРАЗОВАТЕЛЬНАЯ ШКОЛА С УГЛУБЛЕННЫМ ИЗУЧЕНИЕМ ОТДЕЛЬНЫХ ПРЕДМЕТОВ № 30
 (МБОУ СОШ с УИОП № 30)



133-5

ВСЕРОССИЙСКАЯ ОЛИМПИАДА ШКОЛЬНИКОВ ПО ТЕХНОЛОГИИ 2016-2017 уч. г. ШКОЛЬНЫЙ ЭТАП

12б победитель

5 класс

Свердлова ул., д. 28, г.Хабаровск. 680009
 Тел. (4212) 70-05-98
 ОКПО 44673935, ОГРН 102270:286222
 ИНН / КПП 2724041076 / 272401001

Члены жюри:
 Лавинова Н.В. 
 Лашаев С.А. 

№ _____
 На № _____ от _____

Номинация «Культура дома и декоративно-прикладное творчество»

Балагурин С.А.

Теоретический тур

1. Подберите слово, чтобы получить известную поговорку: «Каково волокно, таково и ...»

Сукно

2. «Приготовьте» завтрак на семь человек, рассчитайте необходимое количество продуктов и заполните таблицу.

№	Блюдо	Продукты	Количество продуктов на одного человека	Необходимое количество продуктов
1	сложный бутерброд	хлеб	2 ломтика	14 ломтиков
		колбаса	30 г	240 г
		сыр	30 г	240 г
		зелень	10 г	70 г
2	йогурт		1 баночка	1 баночек
3	чай		1 пакетик	1 пакетиков
4	сахар		30 г	240 г

3. В рецепт какого блюда входят только продукты растительного происхождения?

- а) омлет
- б) салат оливье
- в) гоголь-моголь
- г) винегрет

4. К какой группе продуктов относится отгадка загадки: «Сто одежек и все без застежек»?

- а) овощи
- б) фрукты
- в) молочные продукты
- г) морепродукты


133-5

Управление образования администрации города Хабаровска
муниципальное бюджетное общеобразовательное учреждение
СРЕДНЯЯ ОБЩЕОБРАЗОВАТЕЛЬНАЯ ШКОЛА С УГЛУБЛЕННЫМ ИЗУЧЕНИЕМ ОТДЕЛЬНЫХ ПРЕДМЕТОВ № 80 (МБОУ СОШ с УИОП № 80)

Свердлова ул., д. 28, г.Хабаровск, 680009
Тел. (4212) 70-05-98
ОКПО 44673935, ОГРН 1022701286222
ИНН / КПП 2724041076 / 272401001

№ _____
На № _____ от _____

5. Покажите плотняное переплетение с помощью двух цветов, напишите названия нитей в данном переплетении.



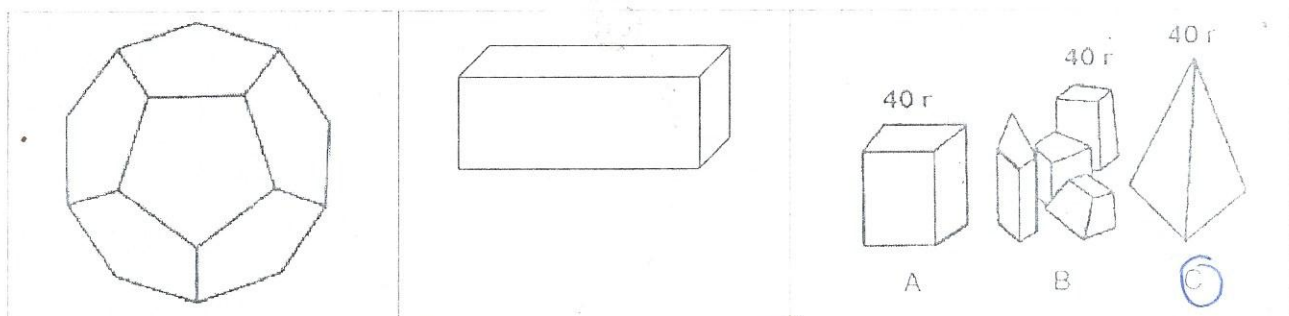
■ — *темная нить*
□ — *светлая нить*

6. Выберите самые тонкие нитки из предложенного списка.

- а) № 80 б) № 40 в) № 60 г) № 10

7. Какими кусочками льда стакан воды охладится быстрее всего и почему?

15 +



а) кусочек массой 30 г б) кусочек массой 30 г в) вес четырех кусочков 30 г

Потому что в треугольнике больше воды!

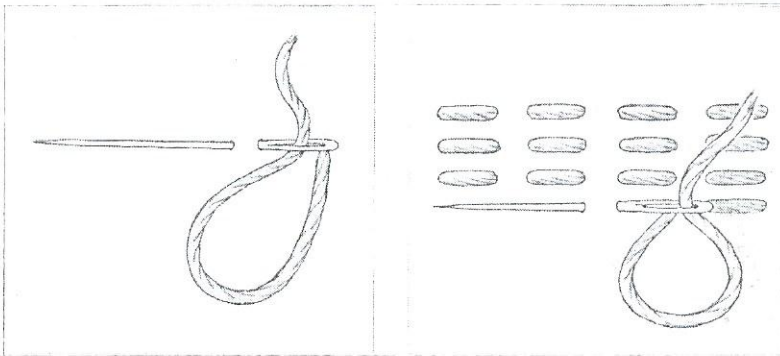
15 +

8. Как нужно передавать нож?

ручкой в перед.

№ _____ от _____

9. Как называется такой стежок?



наметочный

Вперед и иглой

10. Творческое задание.

Выберите фартук из предложенных по назначению:

- а) для официантов;
- б) для домашней кухни.

Для выбранного фартука выполните следующие задания.

- 10.1. Выполните эскиз модели.
- 10.2. Перечислите материалы, которые необходимы для его изготовления.
- 10.3. Какие инструменты и оборудование потребуются?
- 10.4. Опишите технологическую последовательность изготовления изделия.
- 10.5. Предложите способы декорирования изделия.

133-5

№ 10.1, № 10.5.

Управление образования администрации города Хабаровска
муниципальное бюджетное общеобразовательное учреждение
СРЕДНЯЯ ОБЩЕОБРАЗОВАТЕЛЬНАЯ ШКОЛА С УГЛУБЛЕННЫМ ИЗУЧЕНИЕМ ОТДЕЛЬНЫХ ПРЕДМЕТОВ № 80
(МБОУ СОШ с УИОП № 80)

Свердлова ул., д. 28, г.Хабаровск, 680009

Тел. (4212) 70-05-98

ОКПО 44673935, ОГРН 1022701286222

ИНН / КПП 2724041076 / 272401001

№ _____

от _____



25

10.2.

1. ²⁵ Джинсовая ткань, бумага передвижка на ткань, кармашка кожа, ткань с вышивкой, ленточки чер. синей синей, нитки белые, молния, ~~нитки~~

10.3.

Швейная машинка.

№ 10.4.

1. Снятие мерок.
2. Уточнение выкройки + 15
3. Шелевание деталей
4. Перевод с бумаги на ткань кармашку.
5. Прешивание лент. 25