

5-6 КЛАСС Школьный этап ВсОШ

Номинация «Культура дома, дизайн и технологии»

1. **Отметь**, в каком из перечисленных случаев прочность бумаги на разрыв выше:

- 1 - В поперечном направлении;
 2 - В продольном направлении;
 3 - Одинаково, что в поперечном, что в продольном;

2. **Приведи в соответствие** название предмета и его назначение при выполнении изделий в технике оригами.

Предмет:	Назначение предмета:
1. Фальцовка	а) материал
2. Линейка	б) инструмент, для заглаживания линий сгиба
3. Бумага	в) инструмент, используемый для отрывания бумаги по линии сгиба

1 в), 2 б), 3 а).

3. **Подбери термин** соответствующий определению.

Часть изделия, изготовленная из целого куска материала – это ...

- 1 - деталь, 2 - заготовка, 3 - контур

4. **Отметьте название** технологической операции.

Отделка поверхности – это ...

- 1 - разметка, 2 - резание, 3 - оформление

5. **Приведи в соответствие** термины и их определения:

Термины:	Определения:
1. Качество	а) представление предметов в условной упрощенной форме;
2. Брак	б) соответствие свойств изделия образцу;
3. Стилизация	в) изделие или деталь, которые не могут быть использованы по назначению.

1 б), 2 в), 3 а).

6. **Отметь** правильные утверждения. Безопасность работы с иглой требует:

- 1- хранить иглу в игольнице;
 2- передавать иглу только в игольнице;
 3- класть иглу на стол;
 4- брать иглу в рот;
 5- втыкать иглу в одежду;
 6- проталкивать иглу в материал пальцем;
 7- пользоваться наперстком во время работы;
 8- отвлекаться во время работы с иглой;
 9- оставлять иглу на рабочем месте без нитки.


7. **Приведи в соответствие** рисунок ручного шва и его название

1.		а	Шов «Тамбурный»
2.		б	Шов «Петельный»
3.		в	Шов «Стебельчатый»
4.		г	Шов «Вперед иголку»

1 в), 2 б), 3 а), 4 г).

8. **Подпиши** название ручных швов, при помощи которых была выполнена вышивка

1.	2.	3.	4.
----	----	----	----



Помидорный

Вперед талику



Плошбурный

Стрельчатый

9. Внимательно рассмотри рисунки растений. Заполни пропуски

1.

2.



1. Это растение называется

хлопок

Из его плодов получают

хлопчатое волокно.

2. Это растение называется

лён

Из его стебля получают

льняное волокно.

10. Творческое задание



Выполните декорирование швейного изделия в цвете с использованием орнаментов народов Приамурья.

1. Опишите внешний вид модели по предложенной форме.

Наименование изделия

... Фартук

Карман ... красный, квадратной формы

Отделка разно ... аппликация

... цветами

5. Характеристика ткани

... хлопчатая, шитая на

... машин

Критерии оценки творческого задания:

1. Декорирование 2 балл;

2. Описание внешнего вида 2 балл;

3. Характеристика ткани 2 балла.

Итого: 6 баллов

65