

мес.

1.15

86 дней

78%

Эрнест 9 кл  
Победитель

ВСЕРОССИЙСКАЯ ОЛИМПИАДА ШКОЛЬНИКОВ  
ПО ИСТОРИИ 2016–2017 уч. г.  
ШКОЛЬНЫЙ ЭТАП

9 класс

В заданиях 1–3 дайте один верный ответ. Ответ внесите в таблицу.

1. О каком историческом персонаже писал В.О. Ключевский? «Здесь на севере, кажется, и родился князь ... в 1111 г. Это был настоящий северный князь, истый суздалец-залешанин по своим привычкам и понятиям, по своему политическому воспитанию. Отец дал ему в управление Владимир на Клязьме, маленький, недавно возникший суздальский пригород, и там ... прокняжил далеко за тридцать лет своей жизни, не побывав в Киеве».

- 1) Андрей Боголюбский
- 2) Владимир Мономах
- 3) Всеволод Большое гнездо
- 4) Юрий Долгорукий

2. В каком году произошло описанное ниже событие?

«И стал Владимир княжить в Киеве один, и поставил кумиры на холме за теремным двором: деревянного Перуна с серебряной головой и золотыми усами, и Хорса, Дажьбога, и Стрибога, и Симаргла, и Мокошь. И приносили им жертвы, называя их богами, и приводили своих сыновей и дочерей, и приносили жертвы бесам, и оскверняли землю жертвоприношениями».

- 1) 972 год
- 2) 980 год
- 3) 988 год
- 4) 1015 год

3. Глава русской церкви в домонгольский период именовался:

- 1) клириком
- 2) архиепископом
- 3) патриархом
- 4) митрополитом

Ответ:

1	2	3
✓	✓	✓

В заданиях 4–6 выберите несколько верных ответов из предложенных. Ответы внесите в таблицу.

4. Укажите княжества, образованные в течение XIII века на территории Владимиро-Суздальского княжества.

- 1) Московское ✓
- 2) Нижегородское ✓
- 3) Тверское ✓
- 4) Дмитровское ✓
- 5) Рязанское ✓
- 6) Старицкое ✓

Уважаемый участник!

При выполнении заданий Вам предстоит выполнить определённую работу, которую лучше организовать следующим образом:

- внимательно прочитайте задание;
- если Вы отвечаете на теоретический вопрос или решаете ситуационную задачу, обдумайте и сформулируйте конкретный ответ (ответ должен быть кратким) и его содержание введённое в отведённое поле, запись ведите чётко и разборчиво.

– при ответе на тесты определите верный ответ, обведите кружком цифру (цифры), соответствующую выбранному Вами ответу.

За каждый правильный ответ Вы можете получить определённое количество баллов, но не выше указанной максимальной оценки.

Сумма набранных баллов за все решённые вопросы в двух форматах – итог Вашей работы. Максимальное количество баллов – 110.

Задания считаются выполненными, если Вы вовремя сдали их членам жюри.

Желаем успеха!

5. Укажите города, в которых в XI в. были возведены храмы в честь Святой Софии?

- 1) Великий Новгород +  
 2) Вышгород +  
 3) Любеч +  
 4) Полоцк +  
 5) Владимир -  
 6) Киев +

6. Какие из перечисленных ниже понятий связаны с ордынским владычеством на Руси?

- 1) выход +  
 2) клобук  
 3) ясак  
 4) курень  
 5) ярлык +  
 6) баскак +

Ответ:

4	5	6
134	146	156

7. Что с исторической точки зрения объединяет перечисленные в ряду элементы? Дайте максимально точный ответ.

- 7.1. Иван Выговский, Иван Мазепа, Иван Скоропадский, Кирилл Разумовский  
 7.2. Губа, волость, уезд, разряд

Ответ:

7.1. Украина. Закарпатская область.  
 7.2. Административно-территориальные единицы существовавшие в России.

8. Дайте краткое обоснование ряда (что объединяет перечисленные элементы с исторической точки зрения) и укажите, какой из элементов является лишним по данному основанию.

8.1. «Домострой», «Великие Чети Минеи», «Степенная книга», «Повесть о Горе-Злочастии»  
 8.2. Кирасиры, егеря, гусары, драгуны

Ответ:

8.1. Домострой - повесть о морально-этических нормах. Чети Минеи - собрание житий святых XVII в. Степенная книга - сборник указов империи. Кирасиры, егеря, драгуны - воинские сословия.

9. Расположите министров внутренних дел Российской империи в хронологической последовательности занятия ими должности:

- А) М.Т. Лорис-Меликов Б) В.П. Кочубей В) В.К. Плеханов Г) П.А. Валуев Д) П.А. Столыпин Е) А.Г. Булыгин

Ответ:

1	2	3	4	5	6
В	Б	А	Г	Д	Е

10. Расположите в хронологической последовательности архитектурные стили и направления, существовавшие в России в XVI-XIX вв.:

- А) ампиризм Б) классицизм В) рококо Г) псевдорусский стиль Д) шатровый стиль Е) модернизм

Ответ:

1	2	3	4	5	6
Г	Б	А	Д	Е	В

11. Установите соответствие между автором и созданным им произведением. Запишите в таблицу выбранные цифры под соответствующими буквами.

АВТОР	ПРОИЗВЕДЕНИЕ
А) Андрей Курбский	1) «Думы политичны»
Б) Симеон Полоцкий	2) «Книга о скудости и богатстве»
В) Юрий Крижанич	3) «Путешествие из Петербурга в Москву»
Г) Иван Посошков	4) «Димитрий Самозванец»
Д) А.Н. Радищев	5) «Вертоград многоцветный»
Е) А.И. Герцен	6) «В чём моя вера?»
Ж) Л.Н. Толстой	7) «Былое и думы»
	8) «История о великом князе Московском»

Ответ:

А	Б	В	Г	Д	Е	Ж
8	5	7	2	3	4	6

12. Установите соответствия между сражениями Первой мировой войны и годами, в которые они произошли. Запишите в таблицу выбранные цифры под соответствующими буквами.

СРАЖЕНИЕ ПЕРВОЙ МИРОВОЙ ВОЙНЫ	ГОД
А) Галицийская битва	1) 1917
Б) Горлицкий прорыв	2) 1914
В) Взятие Эрзурума	3) 1915
Г) Моонзундское сражение	4) 1918
	5) 1916

Ответ:

А	Б	В	Г
2	3	5	1

13. Определите пропущенные в тексте названия, слова, имена, даты, обозначенные порядковыми номерами. При необходимости при порядковых номерах даются пояснения о характере требуемой вставки. Необходимые вставки впишите под соответствующими номерами в помещённую ниже таблицу.

Русско-турецкие войны второй половины XVIII века, разразившиеся в царствование (1 – **имя**), должны были решить ряд важнейших задач. России был необходим выход к (2 – **название**) морю, а также предстояло покончить с набегами вассала Османской империи – (3 – **название**) ханства. Первая война началась в (4) году. Она ознаменовалась не только победами на суше в сражениях при Ларге и через две недели при (5 – **название**) под руководством (6 – **фамилия**), но и на море, крупнейшим из которых стала победа в (7 – **название**) сражении. Победы русских войск способствовали заключению в (8) году выгодного для России Кучук-Кайнарджийского мира. По его условиям Российская империя получила первые земли в Крыму – крепость Еникале и город (9 – **название**), а также равные с европейцами торговые привилегии. Однако мир был вскоре нарушен. Главной причиной новой войны стало присоединение Крыма к России, произошедшее в (10) году. Именно в этой войне отличились выдающиеся военные деятели России – полководец (11 – **фамилия**), в следующее царствование получивший высший воинский чин (12 – **название чина**), и флотоводец, командующий Черноморским флотом (13 – **фамилия**). Наиболее известной победой русских войск в этой войне стало взятие крепости Измаил в (14) году. Разгром турецких армий, неудача шведов

в затяжной ими в те же годы войне с Россией, а также прекращение финансовой поддержки Турции со стороны (15 – **название страны**), в которой разразилась революция, вынудили османское правительство начать переговоры и в итоге подписать в мир в (16 – **название города**). Согласно мирному договору, Турция признавала за Россией Крым, а также обязалась передать

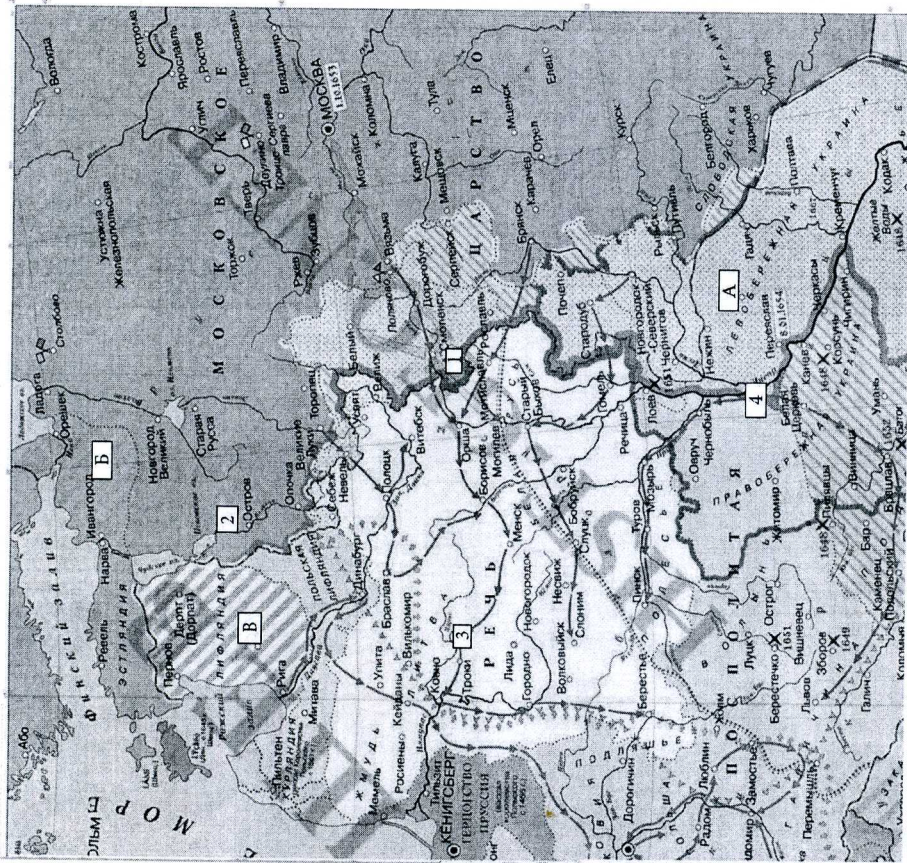
крепость Очаков. Следующая русско-турецкая война началась только в (17) году.

Ответ:

1	Екатерина II	10	1783	+
2	Червоная	11	А.В. Суворов	+
3	Крымское	12	генерал-фельдмаршал	+
4	1768	13	Ф.Ф. Ушаков	+
5	Азов	14	1790	+
6	Гр. А. Суворов	15	Суворов	+
7	русский	16	Исаак	+
8	1774	17	1806	+
9	Кючук			+

105

14. Внимательно рассмотрите карту и выполните задания, помещённые ниже.



<http://www.hist-geo.net/>

1) Напишите годы войны, боевые действия которой обозначены на карте, и укажите, какое государство выступало противником России.

Ответ:

*Эта война - 1654 - 1656 - по 1654*

*Речь Посполитая.*

*16.*

2) Напишите, кто был главой Российского государства к началу войны.

Ответ:

*Алексей Михайлович*

*7*

3) Напишите цифру, которой обозначен населённый пункт, в котором было подписано перемирие.

Ответ:

*7*

4) Напишите название мирного договора, год и место его заключения, подтвердившего условия перемирия, завершившего данную войну.

Ответ:

*Отказ от взятия Венского мур 1656 год. и он был подписан в Москве.*

5) Верны ли представленные ниже утверждения («ДА» – «Нет»)? Ответы внесите в таблицу.

1. К началу войны Россия владела территориями, обозначенными на карте буквой В. *нет*
2. Цифрой 2 на карте обозначен город-крепость, оборона которого в эту войну стала блистательной страницей в истории русской армии. *да*
3. Территории, обозначенные на карте буквой Б, Россия потеряла в результате Смутного времени. *да*
4. Одновременно с этой войной Россия воевала со Швецией. *да*
5. Перемирие в этой войне со стороны России было подписано Дьяком Посольского приказа И. Висковатым. *нет*
6. В ходе войны русское войско заняло город, обозначенный на карте цифрой 3. *да*
7. Город, обозначенный на карте цифрой 4, окончательно вошёл в состав России в обмен на гигантский для того времени выкуп. *да*


Ответ:

1	2	3	4	5	6	7
<i>нет</i>	<i>нет</i>	<i>да</i>	<i>да</i>	<i>нет</i>	<i>да</i>	<i>да</i>


*14.*

*нет 7*


15. Перед Вами фотографии известных храмов России. Расставьте их в хронологической последовательности в соответствии с временем их строительства и заполните таблицу, указав ОФИЦИАЛЬНОЕ название храма.




1.



2.



3.



4.

Ответ:

Порядковый номер иллюстрации	Название храма	Правитель, заложивший храм	Событие, которому посвящён храм
2	Успенский собор в соборе Василия Блаженного	Иван III	посвящен Иакову +
3	Собор святой Богородицы	Иван IV	святой +
4	Храм Пророка Исаии	Иван IV	в 1552 году +
1	Храм Василия Блаженного	Иван IV	посвящен святому +

на уровне

16. Перед Вами фрагмент из исторического источника.

«Царь Ахмат, услышав, что князь великий стоит у Оки на берегу со всеми силами, пошёл к Литовской земле, обходя реку Оку и ожидая на помощь себе короля (1), или его силы, и опытные проводники вели его к реке Угре на броды. Князь же великий сына своего (2), и брата, и воевод послал на Угру со всеми силами, и, придя, они стали на Угре и заняли броды и перевозы. А сам князь великий поехал из Коломны на Москву, желая обсудить и обдумать это с отцом своим милрополитом (3), и со своей матерью великой княгиней Марфой, и со своим духовным отцом архиепископом ростовским (4), и со своими боярами – ибо все они тогда пребывали в осаде в Москве. И молили его великим молением, чтобы он крепко стоял за православное христианство».

**Ответьте на вопросы:**

1. Укажите год описанного в тексте события.	1480 год
2. Укажите название, под которым описанное в тексте событие вошло в отечественную историю, и объясните смысл этого названия.	<p>1</p> <p>Стычки на реке Угре.</p> <p>Русские и ордынские войска</p> <p>сталим гуге на</p> <p>тросме гуге на берегах</p> <p>угры. Но бояром гайским</p> <p>вспроизомю.</p>
3. Назовите причину конфликта, описанного в источнике.	<p>1</p> <p>отказ угрской галии</p> <p>в Орду от шана II юше ИТБого</p>
4. Назовите имена выделенных курсивом в тексте и обозначенных порядковыми номерами участников со-бытия.	<p>1. Казимир</p> <p>2. Иван</p> <p>3. Топольский</p> <p>4. Бассали</p> <p>4</p>

17. Вам предстоит работать с высказываниями историков и современников о событиях и деятелях отечественной истории. Выберите из них одно, которое станет темой Вашего сочинения-эссе. Ваша задача – сформулировать собственное отношение к данному утверждению и обосновать его аргументами, представляющими Вам наиболее существенными. При выборе темы исходите из того, что Вы:

1. Ясно понимаете смысл высказывания (не обязательно полностью или даже частично быть согласным с автором, но необходимо понимать, что именно он утверждает).
2. Можете выразить своё отношение к высказыванию (аргументировано согласиться с автором либо полностью или частично опровергнуть его высказывание).
3. Располагаете конкретными знаниями (факты, статистические данные, примеры) по данной теме.
4. Владеете терминами, необходимыми для грамотного изложения своей точки зрения.

1. «Основная линия политики монголов побуждала их поддерживать политический сепаратизм на Руси. Образование централизованного государства явилось, таким образом, отнюдь не в результате мирной деятельности монголов-завоевателей, а в результате борьбы с монголами, когда борьба стала возможна, когда Золотая Орда стала слабеть и разлагаться». (А.Н. Насонов)
2. «Избранная польским монархом (Сигизмундом III) политика находилась в резком противоречии с основными тенденциями развития русского общества в годы Смуты, когда всё более прочно утверждалось представление, что важные политические решения могут приниматься лишь по соглашению со «Всею землею»... Попытки игнорировать роль «Всея земли» привели польского короля к конфликту с русским обществом, сплотившимся для отпора его политике». (Б.Н. Флоря)
3. «В истории России XVIII века ни одна военная победа не принесла столь богатые плоды, как Полтавская. Россия с этого времени становится значительной фигурой политической игры Европы». (Е.В. Анисимов)
4. «Александр (Первый) и Николай (Первый) владели, а не правили Россией, проводили в ней свой династический, а не государственный интерес..., не желая и не умея понять нужд народа, истощали в своих видах его силы и средства».

(В.О. Ключевский)

5. «В истории человечества редко встречаются столь величественные картины коренного, но мирного преобразования государства..., чем та, которую явила из себя эпоха «великих реформ» царствования Александра II». (Н.В. Давыдов)

ре конкурс 5  
Колло кс  
МММ. НОС

- При написании работы постарайтесь исходить из того, что жюри, оценивая Ваше эссе, будет руководствоваться следующими критериями:
1. Обоснованность выбора темы (объяснение выбора темы и задач, которые ставит перед собой в своей работе участник).
  2. Творческий характер восприятия темы, ее осмысления.
  3. Грамотность использования исторических фактов и терминов.
  4. Чёткость и доказательность основных положений работы.
  5. Знание различных точек зрения по избранному вопросу.

Ответ:

Страна. Это была действительность  
Великая война катала предразобладал  
во всех сфере культуры. Это меняло архитектуру  
дом. Отмена крепостного права (1861) создала  
новый правовой режим. А Февральская революция  
еще дальше развила процесс. В результате  
установилась конституция - основанная  
на правах и свободных. Это первичный  
расширил границы национальной, и  
принимать законы и все национальное  
русские имеют право. Подсказка все  
деятельность Александра II была  
направлена на улучшение условий  
жизни людей в обществе. Само  
использование всей силы реформы  
Александр II тоже не отменил  
крепостного права в России  
конечное слово право принадле  
русским в ее развитии  
использовался не только  
назад, Александр II внесло  
важные элементы изменения  
жизни общества - и ЧТОБЫ  
еще улучшить условия  
Александр II изменил права  
русских крепостного права  
Он и не только изложил  
и в итоге все в этом  
и мог на своей свободе  
добиться успеха. Имени  
С.С.С.Р. император  
Александр III изложил свою  
политику и все же законом  
Знаком с этим по-прежнему Д.

и чтобы всеми всеми

108