

227-12

ВСЕРОССИЙСКАЯ ОЛИМПИАДА ШКОЛЬНИКОВ
ПО ИСТОРИИ 2016-2017 уч. г.
ШКОЛЬНЫЙ ЭТАП
6 класс

~~600~~
Призер
6 кл
458
56%

Уважаемый участник!

При выполнении заданий Вам предстоит выполнить определённую работу, которую лучше организовать следующим образом:
- внимательно прочитайте задание;

- если Вы отвечаете на теоретический вопрос или решаете ситуационную задачу, обдумайте и сформулируйте конкретный ответ (ответ должен быть кратким) и его содержание впишите в отведённое поле, запись ведите чётко и разборчиво.

За каждый правильный ответ Вы можете получить определённое количество баллов, но не выше указанной максимальной оценки.

Сумма набранных баллов за все решённые вопросы – итог Вашей работы. Максимальное количество баллов – 80.

Задания считаются выполненными, если Вы вовремя сдали их членам жюри.

Желаем успеха!

80-100

1. Верны ли следующие утверждения («Да» – «Нет»)? Ответы внесите в таблицу.

- В греческой мифологии богиня любви – Венера, а в римской мифологии – Афродита.
- Эпос о Гильгамеше был создан в Древнем Египте.
- Римский император Константин Великий известен своими гонениями на христиан.
- Свергнувший последнего императора Западной Римской империи Одоакр отослал императорскую корону в Константинополь.
- Аттила становится единовластным правителем державы остготов в V в. н. э.
- Бенефиций – условное пожизненное земельное держание, введенное Карлом Мартеллом.
- В Средневековой Франции в основе отношений между феодалами лежал принцип: «вассал моего вассала – мой вассал».
- Папа Римский Лев III возложил на Карла Великого корону, объявив его Императором Запада.

Ответ: Нет

1	2	3	4	5	6	7	8
Нет	Да	Нет	Да	Нет	Да	Да	Да

2. Расположите в хронологической последовательности исторические события. Запишите буквы, которыми обозначены исторические события, в правильной последовательности в таблицу.

- постройка увенчанного колоссальным куполом храма св. Софии в Константинополе
- захват Рима вестготами под командованием Алариха
- крещение Хлодвига
- поход князя Игоря на Константинополь
- арабское завоевание Пиренейского полуострова

Ответ:

Б	В	Г	А	Д
---	---	---	---	---

3. Установите соответствие между битвами и государями, принимавшими в них участие. Внесите ответ в таблицу.

БИТВА		ГОСУДАРЬ				
А) битва при Гастингсе	Б) битва при Гавгамелах	В) битва при Пуатье	Г) сражение у Фермопил	Д) битва при Каннах	Е) битва у мыса Акции	1) Ксеркс 2) Марк Антоний 3) Ганнибал 4) Абдур-Рахман 5) Вильгельм Завоеватель 6) Александр Македонский

Ответ:

А	Б	В	Г	Д	Е
2	4	1	3	5	6



4. Вставьте вместо пропусков порядковые номера соответствующих слов из предложенного списка. Слова даны в списке в именительном падеже, прилагательные в форме мужского рода. Обратите внимание: в списке слов есть и такие, которые в тексте встречаются не должны! Ответ внесите в таблицу. С оформлением к началу IX в. крупной земельной собственности произошли существенные изменения в хозяйственной и социальной организации (А). Земля во владении обычно делилась на две части: на господскую землю, или (Б), на которой велось хозяйство феодала, и на землю, находившуюся в пользовании (В) крестьян и состоявшую из наделов. Наделы, на которых сидели крестьяне, были тяглыми, так как на них лежали определённые повинности в виде: натуральной ренты — (Г) и работы на хозяйской земле — (Д). Следствием переворота в поземельных отношениях в VIII–IX вв. явилось значительное укрепление (Е) в Каролинском государстве. Сложилась (Ж) социальная структура общества.

1. барщина	2. свободный	3. поместье	4. оброк	5. зависимый
6. франки	7. домен	8. сословный	9. феодализм	10. рабовладение

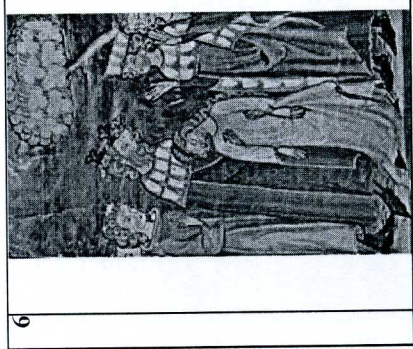
Ответ:

А	Б	В	Г	Д	Е	Ж
8	2	5, 3	1	9	4	7

5. «Песнь о Роланде» — одна из самых известных героических поэм средневековой Франции. Поводом к её созданию стали события 778 г., когда Карл Великий вторгся в Испанию, захваченную арабами. «Песнь о Роланде» рассказывает о битве в Ронсевальском ущелье. Слева вы видите иллюстрацию, созданные по мотивам поэмы, а справа — строфы из неё. Соотнесите иллюстрации с событиями, описанными в поэме. Ответ запишите в таблицу, вставив под буквенным обозначением фрагмента порядковый номер соответствующей этому фрагменту иллюстрации.

1		А	Сказал король: "Отважные бароны, Меж вами укажите мне такого, Кто быть послан к Марсилию достоин". Роланд ответил: "Ганелон, мой отчим". Французы молвят: "Он на это годен. Посла меж нас вы лучше не найдёте". Тут стало страшно графу Ганелону
2		Б	Свой Олифан Роланд руками стиснул, Поднес ко рту и затрубил с усилием. Высоки горы, звонок воздух чистый. Протяжный звук разнесся миль на тридцать. Французы слышат, слышит Карл Великий. Он молвит: "Наши с маврами схватились". Но уверяет Ганелон в противном: "Не будь то вы, я речь назвал бы лживой".

На



6

Е
 Племянника он выводит пред собой,
 Тот с виду цел, но побелев лицом,
 Глаза его потухли, мучитель взор,
 Стал наш король тужить над
 мертвецом:
 "Да впустил в разгар боя, Господь,
 господь,
 Тебе даст место среди святых, и встанешь
 Себе на горе ты, а я, как и прежде,
 Мне о тебе теперь скорбеть нечего"

Ответ:

А	Б	В	Г	Д	Е
5	1	2	3	6	5

14 1 2 3 6 5

88


В
 Бароны, ни на шаг не отступать!
 Молю вас ради господа Христа,
 Держите строй, крушите басурман!
 Ударим с кличем Карла на врага".
 И крикнули французы: "Монжуа!"
 Кто этот крик в бою слышал хоть раз,
 Тот видел тех, кому неведом страх.
 Погнали тут коней французы вскачь.
 Как шпорят их они, как лихо мчат!
 Осталось им одно – рубить плеча,
 Но и арабов трудно испугать.
 И вот уж грудь на грудь сошлись
 войска.

3




Г
 Роланду молвит император Карл:
 "Племянник милый, вот вам мой
 наказ:
 Возьмете вы полвойска под начал.
 С ним никакой вам не опасен враг".
 Роланд ответил: "Да не будет так.
 Свой род не посрамлю я никогда.
 Лишь двадцать тысяч мне прошу вас
 дать.
 Ведите с миром остальных в наш
 край: *Пока я жив, никто не страшен вам*"

4

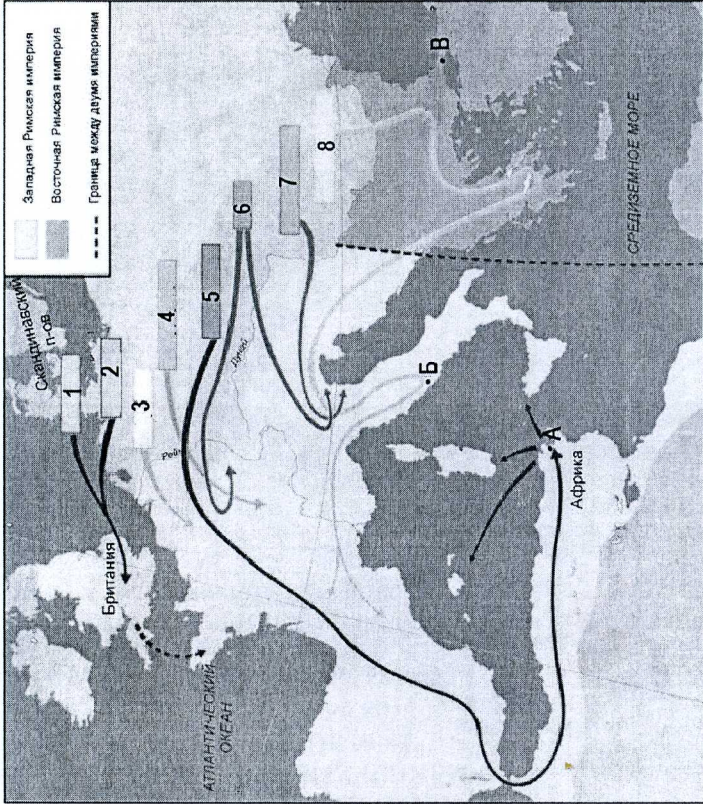


Д
 "Сестра, меня спросили вы о мёртвом.
 Я вам воздам заменою достойной:
 То – первый мой вассал и сын
 Людовик,
 Наследник всех моих земель и трона".
 Она в ответ: "Мне странно это слово.
 Да не попустят бог с небесным
 сонмом,
 Чтоб я жила, коль нет Роланда
 больше".
 Пред Карлом дама, побледнев,
 простёрлась.
 Она мертва – помилуй Альду, боже!
 Скорбят о ней французские бароны.

5



6. Внимательно рассмотрите схему и выполните предложенные задания.



6.1. Напишите, под каким названием вошли в историю события, обозначенные на схеме стрелками.

Ответ:

Битва при Пуатье

6.2. Напишите названия племён, перемещения которых показаны стрелками под соответствующими порядковыми номерами.

Ответ:

1. Возвращение Британцев
2. Перемещение Англосаксов
3. Варвары Норманнов
4. Британцы и Варвары
5. Скандинавы Перемещение Вандалов

7

6. Возвращение Варваров Британцы
7. Перемещение Англосаксов
8. Готы Франки

6.3. Запишите названия городов, обозначенных на схеме буквами.

Ответ:

- A. Карфаген
- B. Рим
- B. Константинополь

6.4. Напишите названия трёх любых морей, которые изображены на данной схеме, кроме тех, которые на ней уже подписаны.

Ответ:

- Тиретское море, Адриатическое море
- Эгейское море

6

8