

224-13

ВСЕРОССИЙСКАЯ ОЛИМПИАДА ШКОЛЬНИКОВ
ПО ИСТОРИИ 2016-2017 уч. г.
ШКОЛЬНЫЙ ЭТАП

6 класс

Коберников
6 кл

Коберников

495

61,2%

Уважаемый участник!

При выполнении заданий Вам предстоит выполнить определённую работу, которую лучше организовать следующим образом:

– внимательно прочитайте задание;

– если Вы отвечаете на теоретический вопрос или решаете ситуационную задачу, обдумайте и сформулируйте конкретный ответ (ответ должен быть кратким) и его содержание впишите в отведённое поле, запись ведите чётко и разборчиво.

За каждый правильный ответ Вы можете получить определённое членами жюри количество баллов, но не выше указанной максимальной оценки.

Сумма набранных баллов за все решённые вопросы – итог Вашей работы. Максимальное количество баллов – 80.

Задания считаются выполненными, если Вы вовремя сдали их членам жюри.

Желаем успеха!

Коберников

1. Верны ли следующие утверждения («Да» – «Нет»)? Ответы внесите в таблицу.

1. В греческой мифологии богиня любви – Венера, а в римской мифологии – Афродита.
2. Эпос о Гильгамеше был создан в Древнем Египте.
3. Римский император Константин Великий известен своими гонениями на христиан.
4. Свергнувший последнего императора Западной Римской империи Одоакр отослал императорскую корону в Константинополь.
5. Атилла становится единовластным правителем державы остготов в V в. н. э.
6. Беневаций – основное пожизненное земельное держание, введенное Карлом Мартеллом.
7. В Средневековой Франции в основе отношений между феодалами лежал принцип: «вассал моего вассала – мой вассал».
8. Папа Римский Лев III возложил на Карла Великого корону, объявив его Императором Запада.

Ответ:

1	2	3	4	5	6	7	8
нет	нет	нет	да	да	да	нет	да

2. Расположите в хронологической последовательности исторические события. Запишите буквы, которыми обозначены исторические события, в правильной последовательности в таблицу.

- А) постройка увенчанного колоссальным кулолом храма св. Софии в Константинополе
- Б) захват Рима вестготами под командованием Алариха
- В) крещение Хлодвиг
- Г) поход князя Игоря на Константинополь
- Д) арабское завоевание Пиренейского полуострова

Ответ:

б	г	а	д	в
---	---	---	---	---

65.

3. Установите соответствие между битвами и государями, принимавшими в них участие. Внесите ответ в таблицу.

БИТВА		ГОСУДАРЬ				
А) битва при Гастингсе	Б) битва при Гавгамелах	В) битва при Пуатье	Г) сражение у Фермопил	Д) битва при Каннах	Е) битва у мыса Акции	1) Ксеркс 2) Марк Антоний 3) Ганнибал 4) Абдур-Рахман 5) Вильгельм Завоеватель 6) Александр Македонский

Ответ:

А	Б	В	Г	Д	Е
5	6	4	7	3	2

4. Вставьте вместо пропусков порядковые номера соответствующих слов из предложенного списка. Слова даны в списке в именительном падеже, прилагательные в форме мужского рода. Обратите внимание: в списке слов есть и такие, которые в тексте встречаются не должны! Ответ внесите в таблицу.

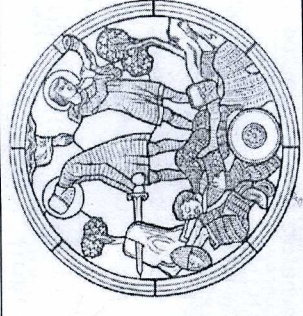

С оформлением к началу IX в. крупной земельной собственности произошли существенные изменения в хозяйственной и социальной организации (А). Земля во владении обычно делилась на две части: на господскую землю, или (Б), на которой велось хозяйство феодала, и на землю, находившуюся в пользовании (В) крестьян и состоявшую из наделов. Наделы, на которых сидели крестьяне, были тяглыми, так как на них лежали определённые повинности в виде: натуральной ренты – (Г) и работы на хозяйской земле – (Д). Следствием переворота в земельных отношениях в VIII–IX вв. явилось значительное укрепление (Е) в Каролинском государстве. Сложилась (Ж) социальная структура общества.

1. барщина	2. свободный	3. поместье	4. оброк	5. зависимый
6. франки	7. домен	8. сословный	9. феодализм	10. рабовладение

Ответ:

А	Б	В	Г	Д	Е	Ж
6	7	5	4	1	3	8

5. «Песнь о Роланде» – одна из самых известных героических поэм средневековой Франции. Поводом к её созданию стали события 778 г., когда Карл Великий вторгся в Испанию, захваченную арабами. «Песнь о Роланде» рассказывает о битве в Ронсевальском ущелье. Слева вы видите иллюстрацию, созданные по мотивам поэмы, а справа – строфы из неё. Соотнесите иллюстрации с событиями, описанными в поэме. Ответ запишите в таблицу, вставив под буквенным обозначением фрагмента порядковый номер соответствующей этому фрагменту иллюстрации.

1		А	Сказал король: "Отважные бароны, меж вами укажите мне такого, кто быть послом к Марсилию достоин". Роланд ответил: "Ганелон, мой отчим". Французы молвят: "Он на это годен. Посла меж нас вы лучше не найдёте". Тут стало страшно графу Ганелону
2		Б	Свой Олифан Роланд руками стиснул, Поднес ко рту и затрубил с усильем. Высоки горы, звонок воздух чистый. Протяжный звук разнесся миль на тридцать. Французы слышат, слышит Карл Великий. Он молвит: "Наши с маврами схватились". Но уверяет Ганелон в противном: "Не будь то вы, я речь назвал бы лживой".


3

В Бароны, ни на шаг не отступать! Молю вас ради господа Христа, Держите строй, крушите басурман! Ударим с кличем Карла на врага". И крикнули французы: "Монжуа!" Кто этот крик в бою слышал хоть раз, Тот видел тех, кому неведом страх. Погнали тут коней французы вскачь. Как шпорят их они, как лихо мчат! Осталось им одно – рубить сплеча, Но и арабов трудно испугать. И вот уж грудь на грудь сошлись войска.




4

Г Роланду молвит император Карл: "Племянник милый, вот вам мой наказ: Возьмете вы полвойска под начал. С ним никакой вам не опасен враг". Роланд ответил: "Да не будет так. Свой род не посрамлю я никогда. Лишь двадцать тысяч мне прошу вас дать. Ведите с миром остальных в наш край: *Пока я жив, никто не ступит* вачт



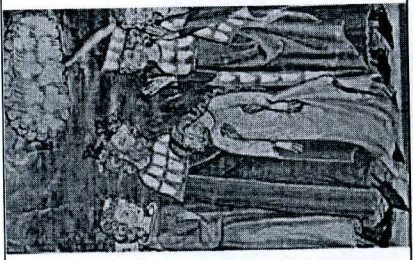
5

Д "Сестра, меня спросили вы о мёртвом. Я вам воздам заменою достойной: То – первый мой вассал и сын Людовик, Наследник всех моих земель и трона". Она в ответ: "Мне странно это слово. Да не попустят бог с небесным сонмом, Чтоб я жила, коль нет Роланда больше". Пред Карлом дама, побледнев, простёрлась. Она мертва – помилуй Альду, боже! Скорбят о ней французские бароны.



6

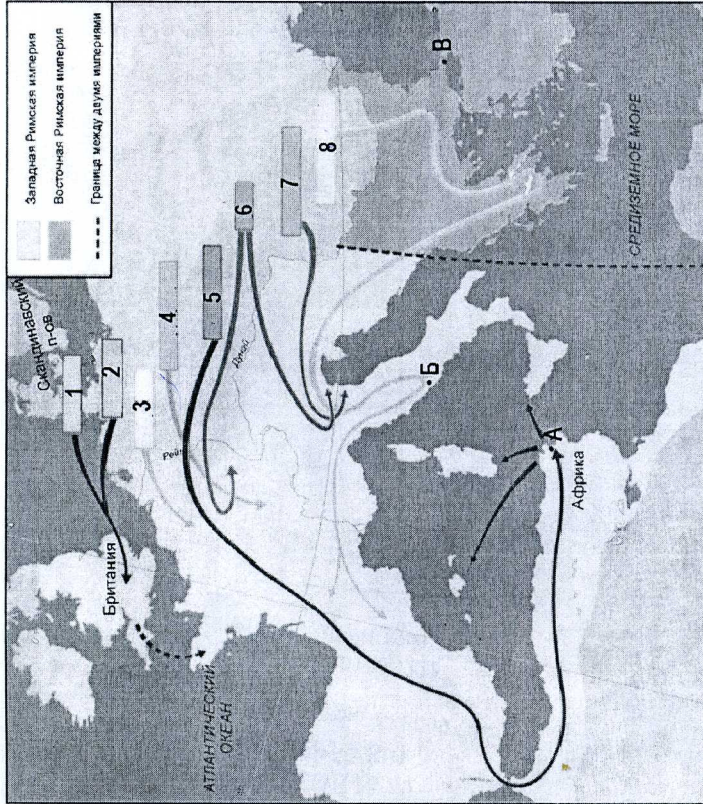
Е Племянника он видит пред собой Тот с виду цел, но поблел лицом Глаза его потухли, мутен взор. Стал наш король стужать сердце мертвецом: "Да впусти в рай тебя, Роланд, господь, Тебе даст место среди святых невестов Себе на горе ты сюда приходишь. Мне о тебе телеруби скорбящего гроб



Ответ:

А	Б	В	Г	Д	Е
2	3	1	6	4	5
4	1	2	5	6	3

6. Внимательно рассмотрите схему и выполните предложенные задания.



6.1. Напишите, под каким названием вошли в историю события, обозначенные на схеме стрелками.

Ответ: Завоевание юртов и Завоевание Переселение
Вестготов вар

6.2. Напишите названия племён, перемещения которых показаны стрелками под соответствующими порядковыми номерами.

Ответ:
 1. Коринты Римел Саксы
 2. Германцы Визиготы
 3. Атланты индусоны Франки Славяны Франки
 4. Варвары Варвары Бургуны
 5. Варвары Готы Вангалы +

6. Фривы Варвары Вестготы
 7. Франки Визиготы +
 8. Атланты индусоны Франки / 4

6.3. Запишите названия городов, обозначенных на схеме буквами.

Ответ: Р
 А. Карфаген
 Б. Рим / 65
 В. Константинополь / 60.

6.4. Напишите названия трёх любых морей, которые изображены на данной схеме, кроме тех, которые на ней уже подписаны.

Ответ: Ионическое море, Лиционское море, Дунайское море.

665
 396 год - 320