

**Всероссийская олимпиада школьников по географии
школьный этап 2019-2020
9 класс**

1 часть**Тестовый тур****1. О каком полуострове идет речь в стихотворении:**

*«Волшебный край! Очей отрада!
Все живо там, холмы, леса,
Янтарь и яхонт винограда,
Долин приятная краса!»*

- А) Ямал
 Б) Крымский
 В) Карельский
 Г) Камчатка.

2. Прочитай высказывания и выбери правильный ответ

1) К наиболее поднятым частям Среднесибирского плоскогорья относятся среднегорья Путорана (гора Камень 1701 м над уровнем моря), сложенные вулканическими туфами и траппами.

2) Климат Среднесибирского плоскогорья резко континентальный, с большими амплитудами температур теплого и холодного сезонов года, умеренным, а местами и небольшим количеством осадков, которые распределяются по сезонам очень неравномерно.

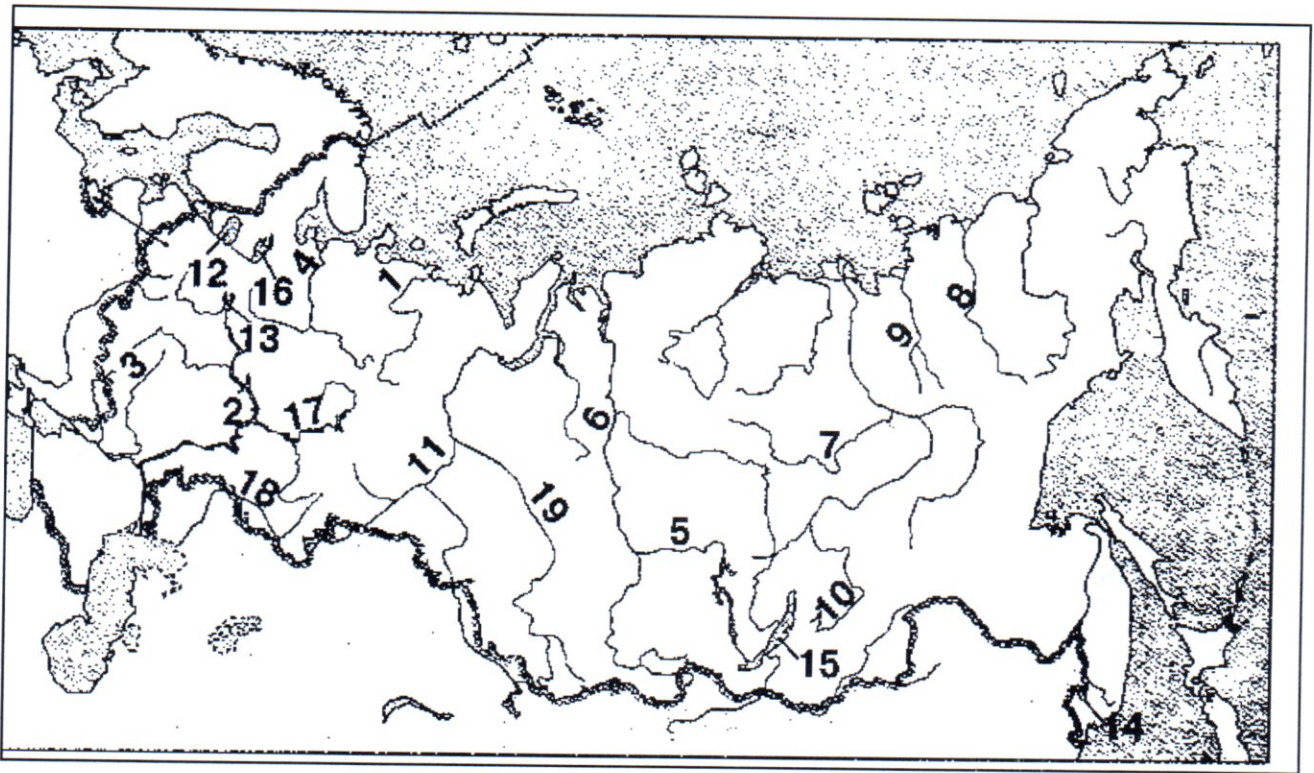
- А) верно только А
 Б) верно только Б
 В) оба ответа верны

3. В каких горах располагается наивысшая точка азиатской части России?

- а) Кавказ б) Алтай в) Урал г) Хибины

4. Какими цифрами на карте обозначены:

- 0,2 А) река Дон 3
 0,2 Б) озеро Ладожское 12
 0,2 В) река Северная Двина 4
 0,2 Г) река Кама 17
 0,2 Д) Рыбинское водохранилище. 16



0 **5. Выберите вариант, в котором все объекты географического положения относятся к России и расположены в одном океане**

- А) Белое море, Обская губа, остров Врангеля, полуостров Камчатка
- Б) Финский залив, мыс Флигели, Балтийское море, Песчаная коса
- В) пролив Лаперуза, остров Сахалин, Берингово море, Командорские острова
- Г) Керченский пролив, Крымский полуостров, Азовское море, остров Ратманова

1 **6. Какие из перечисленных архипелагов островов входят территории Российской Федерации?**

- А) архипелаг Шпицберген
- Б) архипелаг Северная Земля
- В) Алеутские острова
- Г) Марианские острова

1 **7. На границе с какой из перечисленных стран находится крайняя западная точка территории России?**

- А) Финляндия
- Б) Украина
- В) Эстония
- Г) Польша

8. Какие горы считаются возрожденными?

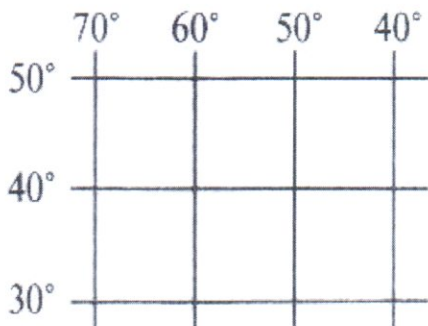
- 1) образованные в кайнозойскую эпоху складчатости
- 2) образованные в байкальскую, каледонскую, герцинскую, мезозойскую эпохи складчатости, претерпевшие вторичное поднятие в неоген-четвертичный период кайнозойской эры

- а) верно только А
- б) верно только Б
- в) оба ответа верны

0 9. Выберите верное сочетание расположения географических объектов относящихся к определенному океану:

- А) Тихий океан, Японское море, Гавайские острова, Марианская впадина, острова Новая Зеландия
- Б) Индийский океан, Восточно-Китайское море, остров Мадагаскар, остров Гренландия, Японские острова
- В) Северный Ледовитый океан, море Лаптевых, Аравийское море, остров Новая Гвинея, Гвинейский залив
- Г) Атлантический океан, Красное море, Мексиканский залив, Средиземное море, острова Новая Земля

1 10. Определите, в каких полушариях может находиться данная часть градусной сетки?



- А) в южном и восточном
- Б) в южном и западном
- В) в северном и восточном
- Г) в северном и западном

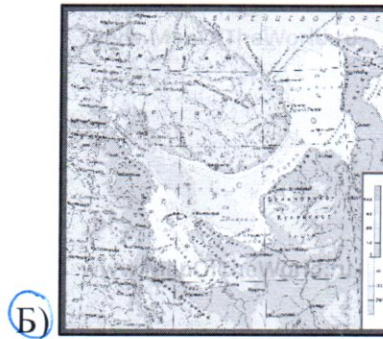
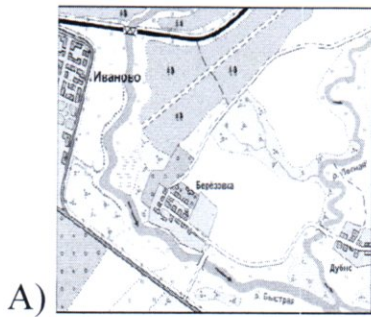
1 11. Выберите путешественника, который не исследовал территорию Хабаровского края:

- А) Е.П. Хабаров
- Б) Н.М. Пржевальский
- В) В.К. Арсеньев
- Г) Н. И. Вавилов

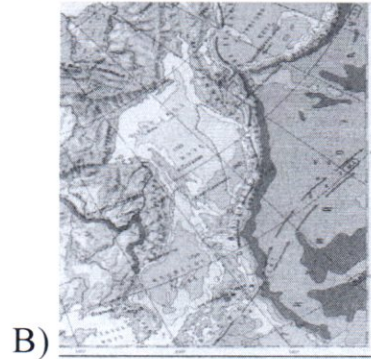
1 12. Для того, чтобы отпраздновать Новый год второй раз за сутки, нужно:

- А) пересечь нулевой меридиан с запада на восток;
- Б) пересечь нулевой меридиан с востока на запад;
- В) пересечь экватор с севера на юг по линии перемены дат;
- Г) пересечь экватор с юга на север по линии перемены дат;
- Д) пересечь сто восьмидесятый меридиан с запада на восток

0 13. Выбери лишнее изображение, свой выбор объясни



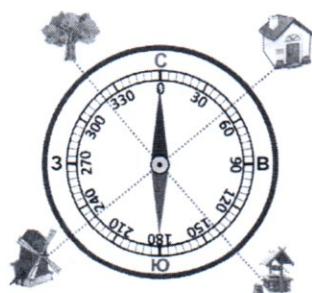
*Везде изображ.
Дальний Восток,
край Б*



14. Определите океан по описанию: «Площадь его составляет 91,6 млн. кв. км, из которых около четверти приходится на внутриконтинентальные моря. Площадь прибрежных морей невелика и не превышает 1% от общей площади. Объем океана - это 25% от объема Мирового океана. Средняя глубина 3736 м, наибольшая – 8742 (желоб Пуэрто-Рико). Среднегодовая соленость вод океана составляет около 35‰».

- а) Атлантический
- б) Северный Ледовитый
- в) Индийский
- г) Тихий.

15. По какому азимуту нужно идти к мельнице?



- А) 230°
- Б - 50°
- В - 320°
- Г - 140°

211-9-6

Всероссийская олимпиада школьников по географии
школьный этап 2019-2020
9 класс

2 часть

Теоретический тур

Задание 1. Используя карты атласа, определите координаты населенных пунктов:

- 1 1. Санкт-Петербург ~~56,3 с.ш.; 19 в.д.~~ ^{59 с.ш. 30° в.д.}
- 1 2. Магадан ^{59° с.ш., 151° в.д.}
- 1 3. Дудинка ^{69° с.ш., 86 в.д.}
- 1 4. Кемерово ^{39° с.ш. 55 с.ш., 86 в.д.}


Рассчитайте расстояние между самым северным и южным населенными пунктами, западным и восточным, используя географические координаты.

*1° по меридиану равен 111,3 км., 1° по 60-й параллели равен 55,8 км.

- 2 между Дудинкой и Кемерово = $(69-55) \cdot 111,3 = 1558,2 \text{ км}$
- 2 между Санкт-Петербургом и Магаданом = $(151-30) \cdot 55,8 = 6696 \text{ км}$

Задание 2. По фотографиям определите территорию российского природного объекта, включенного в Список всемирного наследия ЮНЕСКО. В чем состоит особенность каждой территории?

<p>1. Девствен. леса Коми</p> 	<p>3. ост. Врангеля</p> 
<p>2. Девственные леса Коми</p>	<p>4. ост. Врангеля</p>



1

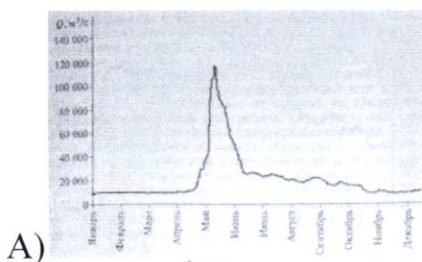
Озеро Байкал



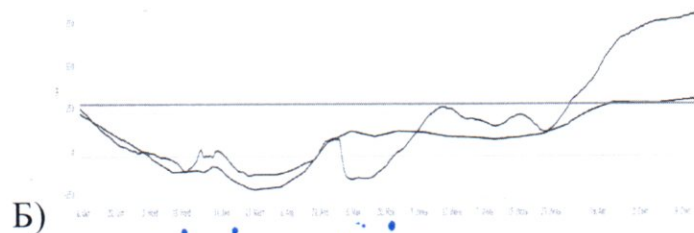
1

Вулкан Камчатки

Задание 3. На картосхеме обозначены пять водомерных постов на пяти реках России. Определите, каким рекам соответствуют гидрографы, показанные на графике и обозначенные буквами А, Б. Для каждого случая обоснуйте свой выбор.



В Лена
Амур
Лена



1 Лена
Амур

2.
Иркутск-Лена
Самарканд-Обь
Зула-Волгоград
Абакан-Енисей
- 3.
1. Определите, в какое время на реках, зашифрованных на гидрографах, наблюдается межень, паводки, половодье? *в конце весны, в начал. лета*
 2. Назовите города, расположенные на данных реках. *Хабаровск-Амур.*
 3. Укажите, в какое время года (месяцы) в городах, расположенных на этих реках, необходимо предпринимать меры по защите от наводнения? *май, июнь, июль*
 4. Какие причины могут вызвать наводнения на указанных реках? *Дожди, таяние снега*


Задание 4. Прочитайте стихотворение, ответьте на вопросы.

И дети видели, как в глубине веков,
Образовавшись в огненном металле,
Платформы двух земных материков
Средь раскаленных лав затвердевали.
В огне и буре плавала Сибирь,
Европа двигала свое большое тело,
И солнце, как огромный нетопырь,
Сквозь желтый пар таинственно глядело.
И вдруг, подобно льдинам в ледоход,
Материки столкнулись. В небосвод
Метнулся камень, образуя скалы;
Расплавы звонких руд вонзились в интервалы
И трещины пород; подземные пары,
Как змеи, извиваясь меж камнями,
Пустоты скал наполнили огнями
Чудесных самоцветов. Все дары
Блистательной таблицы элементов
Здесь улеглись для наших инструментов
И затвердели.

/Н.Заболоцкий/

- образов. Уральские горы -*
1. Образование какого географического объекта описывается в тексте? Приведите из текста слова и фразы подтверждающие образование гор
 - 1 2. В каких частях света он расположен? *Европа и Азия*
 - 1 3. Определите наибольшую абсолютную высоту данной территории. *2. Корженевская 1895м.*
 4. Какая особо охраняемая природная территория находится в пределах данного географического объекта? Чем она знаменита?
Девственные леса Коми. Это самые большие нетронутые леса в Европе.

Задание 5



Этот район расположен в центральной части Хабаровского края. Район граничит с пятью районами Хабаровского края. Выхода к морю не имеет. Район относится к местностям, приравненным к районам Крайнего Севера. В гербе муниципального района изображены на зелёном поле с гористыми вырезами в верхней части и голубым изображением реки Амур в центре два золотых медведя, объясняющих муниципальный статус района, держащих в лапах символический железнодорожный мост. В районном центре расположен КНААЗ.

- 2 1. Как называется район? *Комсомольский район*
- 2 2. С какими районами Хабаровского края граничит? *с Хабаровским, Амурским, Находкинским, Смирновским, Р. Еврейской авт. обл.*
- 1 4. Отрасль специализации? *3. выпуск военных и гражданских самолётов*
- 1 5. Выпускаемая продукция?
4. Авиацонно-промышленная