

5. Выберите вариант, в котором все объекты географического положения относятся к России и расположены в одном океане

- А) Белое море, Обская губа, остров Врангеля, полуостров Камчатка
- Б) Финский залив, мыс Флигели, Балтийское море, Песчаная коса
- В) пролив Лаперуза, остров Сахалин, Берингово море, Командорские острова
- Г) Керченский пролив, Крымский полуостров, Азовское море, остров Ратманова

6. Какие из перечисленных архипелагов островов входят в территорию Российской Федерации?

- А) архипелаг Шпицберген
- Б) архипелаг Северная Земля
- В) Алеутские острова
- Г) Марианские острова

7. На границе с какой из перечисленных стран находится крайняя западная точка территории России?

- А) Финляндия
- Б) Украина
- В) Эстония
- Г) Польша

8. Какие горы считаются возрожденными?

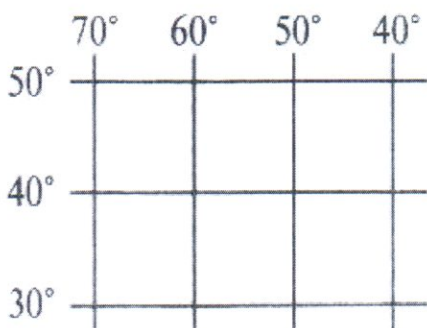
- 1) образованные в кайнозойскую эпоху складчатости
- 2) образованные в байкальскую, каледонскую, герцинскую, мезозойскую эпохи складчатости, претерпевшие вторичное поднятие в неоген-четвертичный период кайнозойской эры

- а) верно только А
- б) верно только Б
- в) оба ответа верны

0 9. Выберите верное сочетание расположения географических объектов относящихся к определенному океану:

- А) Тихий океан, Японское море, Гавайские острова, Марианская впадина, острова Новая Зеландия
- Б) Индийский океан, Восточно-Китайское море, остров Мадагаскар, остров Гренландия, Японские острова
- В) Северный Ледовитый океан, море Лаптевых, Аравийское море, остров Новая Гвинея, Гвинейский залив
- Г) Атлантический океан, Красное море, Мексиканский залив, Средиземное море, острова Новая Земля

1 10. Определите, в каких полушариях может находиться данная часть градусной сетки?



- А) в южном и восточном
- Б) в южном и западном
- В) в северном и восточном
- Г) в северном и западном

1 11. Выберите путешественника, который не исследовал территорию Хабаровского края:

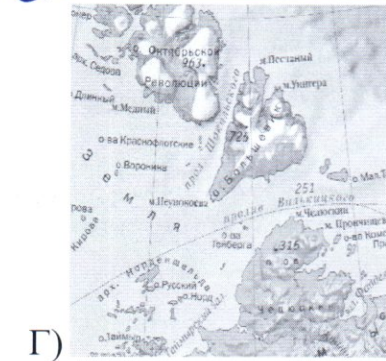
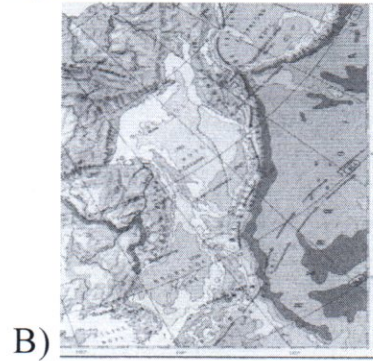
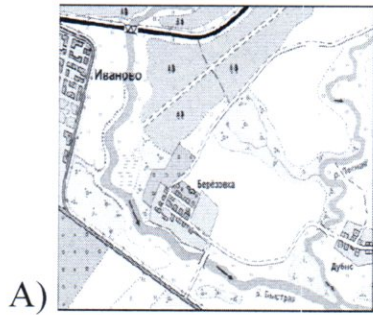
- А) Е.П. Хабаров
- Б) Н.М. Пржевальский
- В) В.К. Арсеньев
- Г) Н. И. Вавилов

1 12. Для того, чтобы отпраздновать Новый год второй раз за сутки, нужно:

- А) пересечь нулевой меридиан с запада на восток;
- Б) пересечь нулевой меридиан с востока на запад;
- В) пересечь экватор с севера на юг по линии перемены дат;
- Г) пересечь экватор с юга на север по линии перемены дат;
- Д) пересечь сто восьмидесятый меридиан с запада на восток

0 13. Выбери лишнее изображение, свой выбор объясни

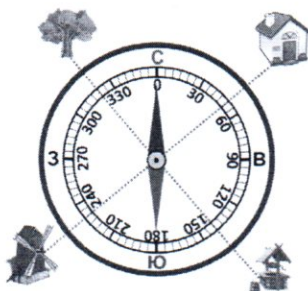
т.к. это же дальний восток (наверху)



14. Определите океан по описанию: «Площадь его составляет 91,6 млн. кв. км, из которых около четверти приходится на внутриконтинентальные моря. Площадь прибрежных морей невелика и не превышает 1% от общей площади. Объем океана - это 25% от объема Мирового океана. Средняя глубина 3736 м, наибольшая – 8742 (желоб Пуэрто-Рико). Среднегодовая соленость вод океана составляет около 35‰».

- а) Атлантический
- б) Северный Ледовитый
- в) Индийский
- г) Тихий.

15. По какому азимуту нужно идти к мельнице?



- А - 230°
- Б - 50°
- В - 320°
- Г - 140°

Всероссийская олимпиада школьников по географии
школьный этап 2019-2020
9 класс

2 часть

Теоретический тур

Задание 1. Используя карты атласа, определите координаты населенных пунктов:

- 1 1. Санкт-Петербург 59° с.ш., 31° в.д.
 1 2. Магадан 59° с.ш., 151° в.д.
 1 3. Дудинка 69° с.ш., 86° в.д.
 1 4. Кемерово 55° с.ш., 86° в.д.


Рассчитайте расстояние между самым северным и южным населенными пунктами, западным и восточным, используя географические

2 координаты. (Дудинка - Кемерово) = $69 - 55 = 14 \cdot 111,3 = 1558,2$ км

* 1° по меридиану равен 111,3 км., 1° по 60-й параллели равен 55,8 км.

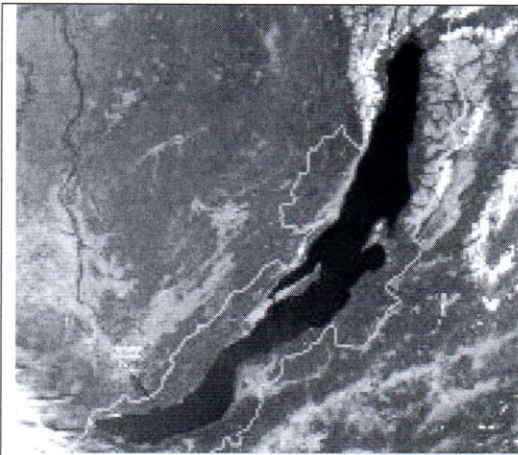
2 (Магадан - Санкт-Петербург) = $151 - 31 = 120 \cdot 55,8 = 6696$ км

Задание 2. По фотографиям определите территорию российского природного объекта, включенного в Список всемирного наследия ЮНЕСКО. В чем состоит особенность каждой территории?



1 2. северные леса хатанг

4. остров Крайлене 1

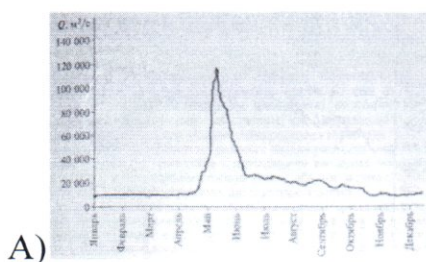
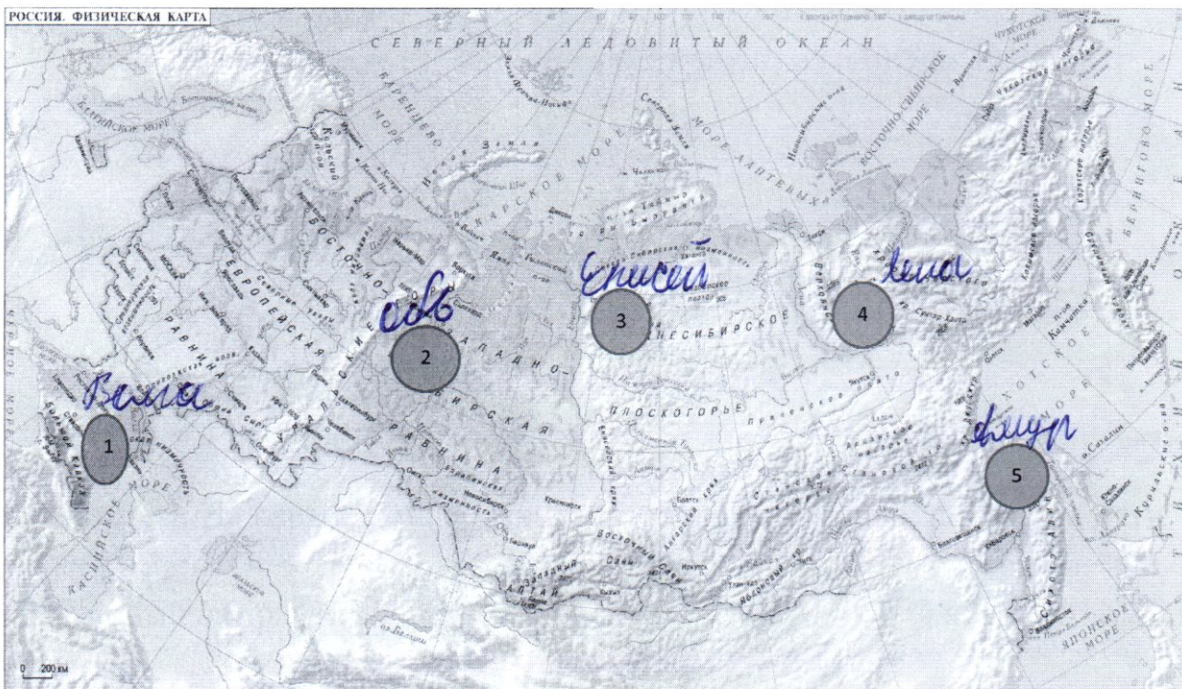


1 озеро Байкал ↗




Вулканы Камчатки ↗ 1

Задание 3. На картосхеме обозначены пять водомерных постов на пяти реках России. Определите, каким рекам соответствуют гидрографы, показанные на графике и обозначенные буквами А, Б. Для каждого случая обоснуйте свой выбор.



Лена 0



1 Амур

1. Определите, в какое время на реках, зашифрованных на гидрографах, наблюдается межень, паводки, половодье? *В конце осени, 1-й пол. лета*
2. Назовите города, расположенные на данных реках. *Кабановск, Мухомор*
3. Укажите, в какое время года (месяцы) в городах, расположенных на этих реках, необходимо предпринимать меры по защите от наводнения? *В конце лета, в кон. осени*
4. Какие причины могут вызвать наводнения на указанных реках? *Эузитовые воды, осадки*


Задание 4. Прочитайте стихотворение, ответьте на вопросы.

И дети видели, как в глубине веков,
Образовавшись в огненном металле,
Платформы двух земных материков
Средь раскаленных лав затвердевали.
В огне и буре плавала Сибирь, 1.
Европа двигала свое большое тело,
И солнце, как огромный нетопырь,
Сквозь желтый пар таинственно глядело.
И вдруг, подобно льдинам в ледоход,
Материки столкнулись. В небосвод
Метнулся камень, образуя скалы; 1.
Расплавы звонких руд вонзились в интервалы
И трещины пород; подземные пары,
Как змеи, извиваясь меж камнями,
Пустоты скал наполнили огнями
Чудесных самоцветов. Все дары
Блистательной таблицы элементов
Здесь улеглись для наших инструментов
И затвердели.

/Н.Заболоцкий/

1. Образование какого географического объекта описывается в тексте? *Материк Урал: Уральские т.е. горы*
2. В каких частях света он расположен? *находится на границе Европы и Азии (Сибирь)*
3. Определите наибольшую абсолютную высоту данной территории. *1895 м*
4. Какая особо охраняемая природная территория находится в пределах данного географического объекта? Чем она знаменита? *2. Казанский*
действительные леса Коми

Задание 5



Этот район расположен в центральной части Хабаровского края. Район граничит с пятью районами Хабаровского края. Выхода к морю не имеет. Район относится к местностям, приравненным к районам Крайнего Севера. В гербе муниципального района изображены на зелёном поле с гористыми вырезами в верхней части и голубым изображением реки Амур в центре два золотых медведя, объясняющих муниципальный статус района, держащих в лапах символический железнодорожный мост. В районном центре расположен КНААЗ.

- 2 1. Как называется район? *Комсомольский район Амурской области*
- 2 2. С какими районами Хабаровского края граничит? *Нанайский, Хабаровский*
- 1 3. КНААЗ, расшифруйте название предприятия. *Комсомольский - на - выдре*
- 1 4. Отрасль специализации? *авиационная промышленность*
- 1 5. Выпускаемая продукция? *гражданская и военная авиация*