

**Всероссийская олимпиада школьников по географии  
школьный этап 2019-2020**

**Часть 1****Тестовые задания****7 класс**

**1. Что нужно сделать для того, чтобы отпраздновать Новый год второй раз за сутки?**

- А) Пересечь нулевой меридиан с запада на восток;
- Б) Пересечь нулевой меридиан с востока на запад;
- В) Пересечь экватор с севера на юг по линии перемены дат;
- Г) Пересечь экватор с юга на север по линии перемены дат;

10

**2. Какой из нижеуказанных архипелагов посещал Фернандо Магеллан?**

- А) Алеутские острова;
- Б) Багамские острова;
- В) острова Галапагос;
- Г) Марианские острова;

05

**3. Какое средство Джеймс Кук стал использовать против цинги на своих судах?**

- А) квашеную капусту
- Б) доброе слово
- В) яблоки
- Г) индийские пряности

10

**4. Определите океан по описанию:** «Площадь 91,6 млн. кв. км, из которых около четверти приходится на внутриконтинентальные моря. Площадь прибрежных морей невелика и не превышает 1% от общей площади. Объем океана - это 25% от объема Мирового океана. Средняя глубина 3736 м, наибольшая – 8742 (желоб Пуэрто-Рико). Среднегодовая соленость вод океана составляет около 35‰».

- А) Атлантический
- Б) Северный Ледовитый
- В) Индийский
- Г) Тихий

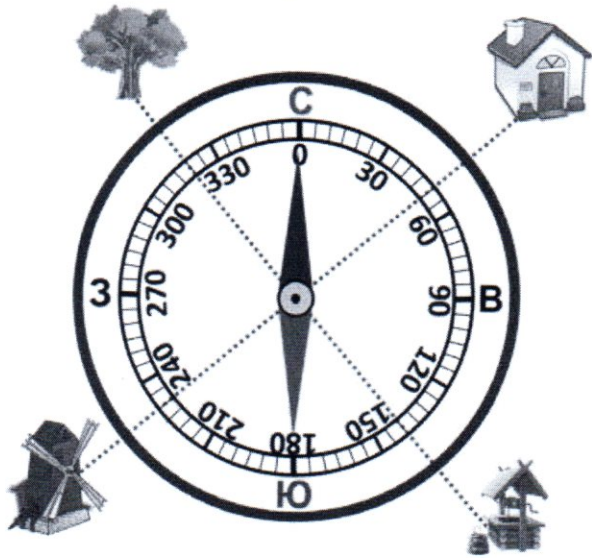
05

**5. Этот материк расположен в западном и восточном полушариях был открыт русскими мореплавателями самым последним в 1820 г.. О каком материке идет речь?**

- А) Африка
- Б) Антарктида
- В) Евразия
- Г) Австралия

10

6. Соотнесите нарисованный объект с его азимутом:



- 1) Домик — А — 230  
 2) Колодец — Б — 50  
 3) Мельница — В — 320  
 4) Дерево — Г — 140

7. Выбери лишнее, свой выбор объясни.

- 1) Фернандо Магеллан  
 2) Христофор Колумб  
 3) Джеймс Кук

4) И.Ф. Крузенштерн

Только в тесте него назван проезд.

8. Выберите путешественника, который не исследовал территорию Хабаровского края:

- А) Е.П. Хабаров Б) Н.М. Пржевальский В) В.К. Арсеньев Г) Н. И. Вавилов

9. Какое место по площади занимает Хабаровский край в России?

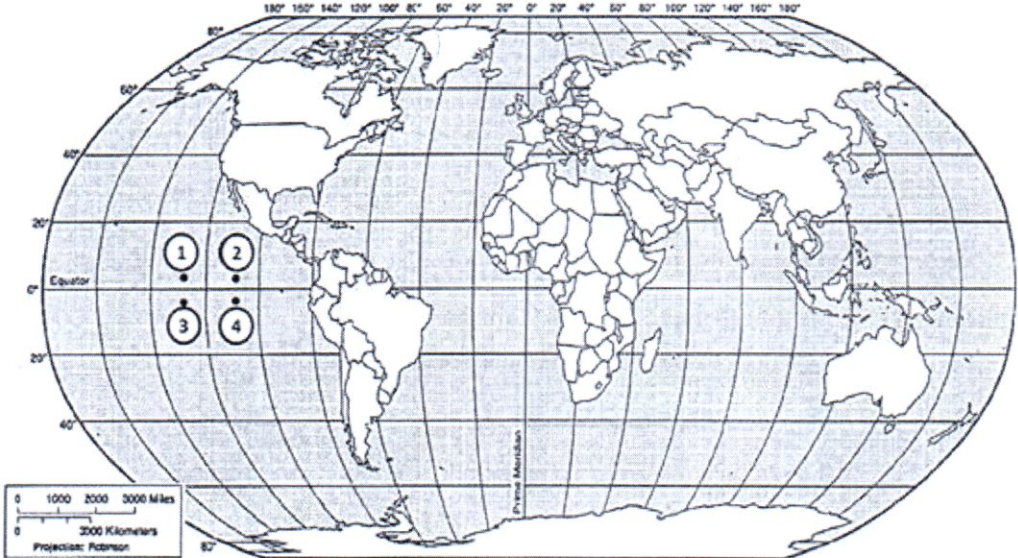
- А) 1 Б) 2 В) 3 Г) 4

10. Какая из обозначенных на карте мира точек имеет географические координаты  $5^\circ$  с. ш. и  $110^\circ$  з. д.?

~~А) Точка А~~



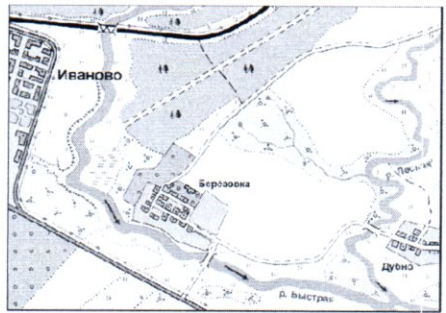
211-7-4



15

- 1) А
- 2) Б
- 3) В
- 4) Г

### 11. Выбери лишнее изображение



А)

Б)



В)

Г)

15

### 12. Соотнесите названия стран и характерные для них особенности территории или географического положения.

- А) «страна-материк» → 1. Австралия
- Б) «карликовое государство» → 2. Монако
- В) островное государство → 3. Монголия
- Г) внутриконтинентальное государство → 4. Филиппины
- 5. Франция

0,75

0,75

### 13. Найдите соответствие

ПОНЯТИЯ

1. Параллель
2. Берг-штрихи
3. Абсолютная высота
4. Географическая карта

ОПРЕДЕЛЕНИЯ


- А) Неровности земной поверхности
- Б) Это условно проведенная линия по земной поверхности параллельная линии экватора
- В) Это уменьшенное изображение земной поверхности на плоскости при помощи условных знаков
- Г) Это превышение точки земной поверхности над уровнем моря
- Д) Линии, показывающие направление склонов

Ответ:

1	2	3	4	5
Б	Д	Г	В	

14. В мультфильме «Зима в Простоквашино» машина Дяди Федора застряла в яме. А как такую форму рельефа показывают на топографических картах?

А)



Б)



15. Какой остров отделяется от материка проливом Г.И. Невельского?

- 1) Мадагаскар
- 2) Врангеля
- 3) Сахалин
- 4) Русский



## Школьный этап олимпиады по географии

## 7 класс Теоретический тур

## Задание 1

Определите с помощью атласа по географическим координатам вершины крупных горных систем нашей планеты:

- |   |   |          |
|---|---|----------|
| 1) $28^{\circ}$ с. ш. $87^{\circ}$ в. д.  | г. Джомолунгма (Эверест), 8848 м, Китай | 20       |
| 2) $36^{\circ}$ ю. ш. $148^{\circ}$ в. д. | г. Косцюшко, 2228 м, Австралия          | 450      |
| 3) $33^{\circ}$ ю. ш. $70^{\circ}$ з. д.  | г. Аконкагуа 6960 м, Чили               | 600      |
| 4) $65^{\circ}$ с. ш. $60^{\circ}$ в. д.  | г. Народный, 1895 м, Россия             | 25       |
| 5) $31^{\circ}$ с. ш. $7^{\circ}$ з. д.   | г. Тубколь, 4165 м, Марокко             | 25       |
|   |   | <hr/> 95 |

Напишите:

1. названия вершин и горных систем, в которых они расположены;
2. определите абсолютную высоту вершин.
3. на территории какого государства расположены вершины этих гор

## Задание 2

Этот пролив, являющийся мировым рекордсменом сразу по нескольким номинациям, назван по имени англичанина - руководителя второй кругосветки, который собственно и проплыл по проливу первым из европейцев. Для пролива типичны частые шторма.

Назовите пролив, укажите океаны он соединяет, какие материки разъединяет.

Назовите, в каких номинациях пролив является рекордсменом, объясните, почему там бывают самые частые и сильные ветра

Пролит Фрейка, Тихий и Атлантический, разъединяет Южную Америку и Антарктиду, частые и сильные ветра из-за разницы давлений с Антарктидой и Южной Америки

## Задание 3

Этот объект - крупнейший на Земле замкнутый водоем, расположенный в двух частях света. Его воды омывают берега 5 стран. В водоём впадает 130 рек, в том числе и одна из крупнейших рек Европы. Много веков назад

водоем называли Хвалынским морем, Дербентским морем. Северная часть водоема зимой покрыта льдом, в то время как южная остается незамерзающей.

Назовите объект, о котором идет речь в тексте. Укажите название стран. Как называется крупнейшая река Европы, впадающая в водоем. Какой тип устья характерен для этой реки.



Водоем:

Каспийское море, Узбекистан, Казахстан, Иран, Турция, Ирак; Волга впадает; Устье - дельта.

Страны:

+10

+40

+20

#### Задание 4

О каких видах атмосферных осадков говорится в следующих литературных отрывках и загадках?

1. **Траг** 1. Огородные грядки были посыпаны крупной солью мороза.  
(К.Г. Паустовский)

0. **Траг** 2. Когда в солнечное утро летом пойдешь в лес, то на полях в траве видны алмазы.  
(Л.Н. Толстой)

1. **Дождь** 3. Грянул гром неожиданно, наобум —  
Яростный удар и гул протяжный.  
А потом пронесся легкий шум,

Торопливый, радостный и влажный.  
(С.Я. Маршак)

1  
36  
Ией 4. И вот сентябрь! И вечер года к нам  
Подходит. На поля и горы  
Уже мороз бросает по утрам  
Свои серебристые узоры.  
(Е.А. Баратынский)

### Задание 5

Маша решила рассказать своей подруге, проживающей в столице России о наиболее интересных объектах на территории Хабаровского края, вошедших в проект «7 чудес Хабаровского края» Назовите эти объекты и главные особенности, по которым их включили в этот проект.

- 1 Шантарские острова
- 2 Петроглифы Сикачи-Альана - петроглифы, сохранившиеся с давних времен
- 1 Оз. Амур
- 2 Мост через Амур - ~~один из~~ крупнейший мост
- 1 Тигр Амурский - вымирающий вид тигров, водится только в Амурской области
- 1 Логос Комарева
- 1 Дуся - Амиль

211-7-4