

211-4-5

95 + 300 = 395

Всероссийская олимпиада школьников по географии
школьный этап 2019-2020

Часть 1

Тестовые задания

7 класс

1. Что нужно сделать для того, чтобы отпраздновать Новый год второй раз за сутки?

- А) Пересечь нулевой меридиан с запада на восток;
- Б) Пересечь нулевой меридиан с востока на запад;
- В) Пересечь экватор с севера на юг по линии перемены дат;
- Г) Пересечь экватор с юга на север по линии перемены дат;

15

2. Какой из нижеуказанных архипелагов посещал Фернандо Магеллан?

- А) Алеутские острова;
- Б) Багамские острова;
- В) острова Галапагос;
- Г) Марианские острова;

05

3. Какое средство Джеймс Кук стал использовать против цинги на своих судах?

- А) квашеную капусту
- Б) доброе слово
- В) яблоки
- Г) индийские пряности

15

4. Определите океан по описанию: «Площадь 91,6 млн. кв. км, из которых около четверти приходится на внутриконтинентальные моря. Площадь прибрежных морей невелика и не превышает 1% от общей площади. Объем океана - это 25% от объема Мирового океана. Средняя глубина 3736 м, наибольшая - 8742 (желоб Пуэрто-Рико). Среднегодовая соленость вод океана составляет около 35‰».

- А) Атлантический
- Б) Северный Ледовитый
- В) Индийский
- Г) Тихий

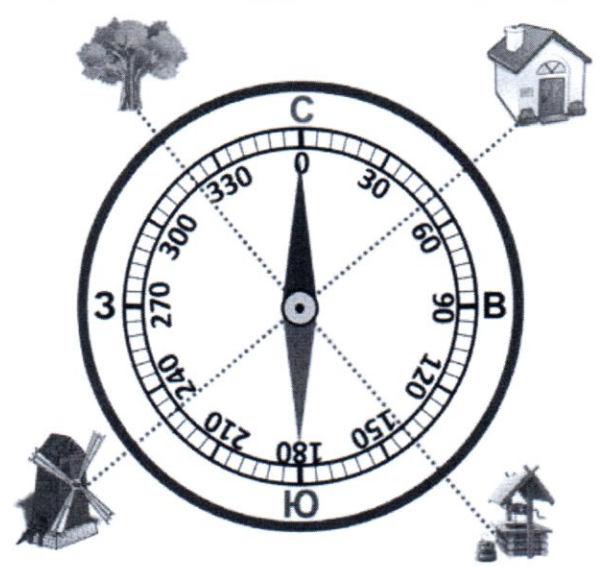
05

5. Этот материк расположен в западном и восточном полушариях был открыт русскими мореплавателями самым последним в 1820 г.. О каком материке идет речь?

- А) Африка
- Б) Антарктида
- В) Евразия
- Г) Австралия

0

6. Соотнесите нарисованный объект с его азимутом:



- 1) Домик
 - 2) Колодец
 - 3) Мельница
 - 4) Дерево
- А - 230
 - Б - 50
 - В - 320
 - Г - 140

7. Выбери лишнее, свой выбор объясни.

- 1) Фернандо Магеллан
 - 2) Христофор Колумб
 - 3) Джеймс Кук
 - 4) И.Ф. Крузенштерн
- Фернандо Магеллан попытка плыти вокруг света, а остальные исследовали определённые материи.*

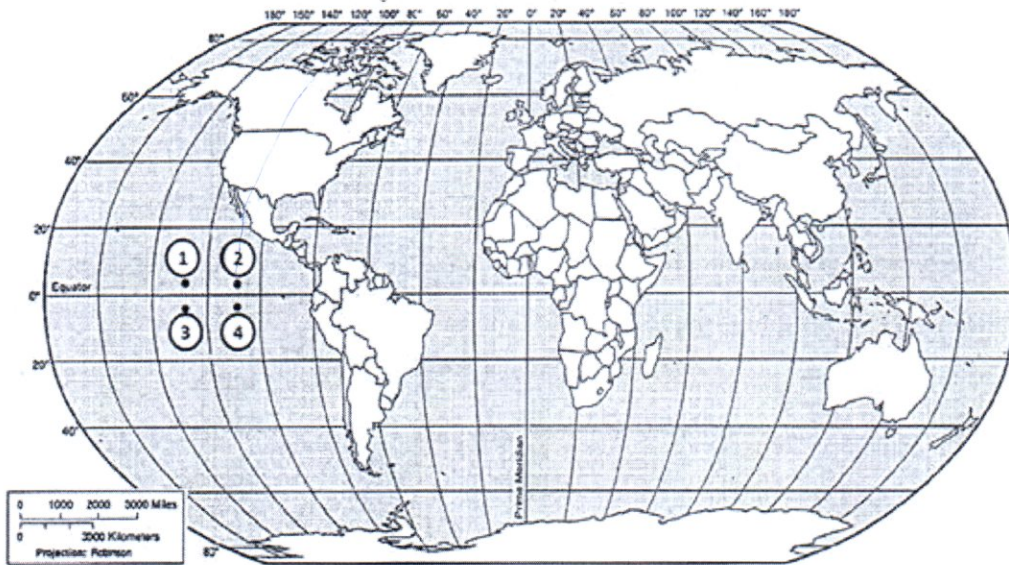
8. Выберите путешественника, который не исследовал территорию Хабаровского края:

- А) Е.П. Хабаров
- Б) Н.М. Пржевальский
- В) В.К. Арсеньев
- Г) Н. И. Вавилов

9. Какое место по площади занимает Хабаровский край в России?

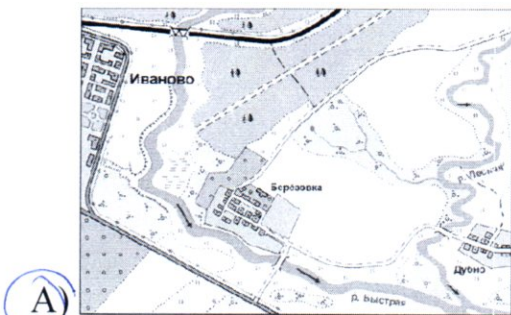
- А) 1
- Б) 2
- В) 3
- Г) 4

10. Какая из обозначенных на карте мира точек имеет географические координаты 5° с. ш. и 110° з. д.?



- 1) А
 2) Б
 3) В
 4) Г

11. Выбери лишнее изображение



А

Б)



В)



Г)

12. Соотнесите названия стран и характерные для них особенности территории или географического положения.

- А) «страна-материк» — 1. Австралия
 Б) «карликовое государство» — 2. Монако
 В) островное государство — 3. Монголия
 Г) внутриконтинентальное государство — 4. Филиппины
 — 5. Франция

13. Найдите соответствие

ПОНЯТИЯ

1. Параллель
2. Берг-штрихи
3. Абсолютная высота
4. Географическая карта

ОПРЕДЕЛЕНИЯ

- А) Неровности земной поверхности
- Б) Это условно проведенная линия по земной поверхности параллельная линии экватора
- В) Это уменьшенное изображение земной поверхности на плоскости при помощи условных знаков
- Г) Это превышение точки земной поверхности над уровнем моря
- Д) Линии, показывающие направление склонов

15
 Ответ:

1	2	3	4	5
Б	Д	Г	В	А

14. В мультфильме «Зима в Простоквашино» машина Дяди Федора застряла в яме. А как такую форму рельефа показывают на топографических картах?

15
 А)



Б)



16
 15. Какой остров отделяется от материка проливом Г.И. Невельского?

- 1) Мадагаскар
- 2) Врангеля
- 3) Сахалин
- 4) Русский

Школьный этап олимпиады по географии

7 класс Теоретический тур

Задание 1

Определите с помощью атласа по географическим координатам вершины крупных горных систем нашей планеты:

- 1) 28° с. ш. 87° в. д. г. Эверест (Джомолунгма), Тибет, Китай, 8848 м. 2,5
- 2) 36° ю. ш. 148° в. д. г. Косцюшко, Большой Водоразд. хр. 2228 м, Австралия 1,5
- 3) 33° ю. ш. 70° з. д. г. Аконкагуа, Анды, Чили, 6960 м. 1,5
- 4) 65° с. ш. 60° в. д. г. Народная, Уральские горы, 1895 м, Россия 2,5
- 5) 31° с. ш. 7° з. д. г. Тубкаль, Атлас, 4165 м, Марокко 2,5

Напишите:

1. названия вершин и горных систем, в которых они расположены;
2. определите абсолютную высоту вершин.
3. на территории какого государства расположены вершины этих гор

Задание 2

Этот пролив, являющийся мировым рекордсменом сразу по нескольким номинациям, назван по имени англичанина - руководителя второй кругосветки, который собственно и проплыл по проливу первым из европейцев. Для пролива типичны частые шторма.

Назовите пролив, укажите океаны он соединяет, какие материки разъединяет.

Назовите, в каких номинациях пролив является рекордсменом, объясните, почему там бывают самые частые и сильные ветра

Пролив Дрейка, соединяет Тихий и Атлантический океан, но разъединяет Южную Америку и Антарктиду 2,5

Задание 3

Этот объект - крупнейший на Земле замкнутый водоем, расположенный в двух частях света. Его воды омывают берега 5 стран. В водоём впадает 130 рек, в том числе и одна из крупнейших рек Европы. Много веков назад

водоем называли Хвалынским морем, Дербентским морем. Северная часть водоема зимой покрыта льдом, в то время как южная остается незамерзающей. Каспийское море

Назовите объект, о котором идет речь в тексте. Укажите название стран. Как называется крупнейшая река Европы, впадающая в водоем. Какой тип устья характерен для этой реки.

85. Каспийское море. Узбекистан, Казахстан, Иран, Турция, Ирак. Волга. Дельта



Задание 4

О каких видах атмосферных осадков говорится в следующих литературных отрывках и загадках?

15. Огородные грядки были посыпаны крупной солью мороза.
(К.Г. Паустовский) Траг
15. Когда в солнечное утро летом пойдешь в лес, то на полях в траве видны алмазы.
(Л.Н. Толстой) Роса
3. Грянул гром нежданно, наобум —
Яростный удар и гул протяжный.
А потом пронесся легкий шум,

Торопливый, радостный и влажный.

(С.Я. Маршак)

Дождь, гроза

15

4. И вот сентябрь! И вечер года к нам
Подходит. На поля и горы
Уже мороз бросает по утрам
Свои серебристые узоры.

(Е.А. Баратынский)

Иней

15

45

Задание 5

Маша решила рассказать своей подруге, проживающей в столице России о наиболее интересных объектах на территории Хабаровского края, вошедших в проект «7 чудес Хабаровского края» Назовите эти объекты и главные особенности, по которым их включили в этот проект.

Лотос Камарова, Амурский тигр, Тетроширота Сикари
Аляска, оз. Амур, Амурский мост, Шантарские острова,
Русь-Амичь.

45

