

Всероссийская олимпиада школьников по географии
школьный этап 2019-2020

Часть 1

Тестовые задания

7 класс

1. Что нужно сделать для того, чтобы отпраздновать Новый год второй раз за сутки?

- А) Пересечь нулевой меридиан с запада на восток;
- Б) Пересечь нулевой меридиан с востока на запад;
- В) Пересечь экватор с севера на юг по линии перемены дат;
- Г) Пересечь экватор с юга на север по линии перемены дат;

0,5

2. Какой из нижеуказанных архипелагов посещал Фернандо Магеллан?

- А) Алеутские острова;
- Б) Багамские острова;
- В) острова Галапагос;
- Г) Марианские острова;

1,5

3. Какое средство Джеймс Кук стал использовать против цинги на своих судах?

- А) квашеную капусту
- Б) доброе слово
- В) яблоки
- Г) индийские пряности

1,5

4. Определите океан по описанию: «Площадь 91,6 млн. кв. км, из которых около четверти приходится на внутриконтинентальные моря. Площадь прибрежных морей невелика и не превышает 1% от общей площади. Объем океана - это 25% от объема Мирового океана. Средняя глубина 3736 м, наибольшая – 8742 (желоб Пуэрто-Рико). Среднегодовая соленость вод океана составляет около 35‰».

- А) Атлантический
- Б) Северный Ледовитый
- В) Индийский
- Г) Тихий

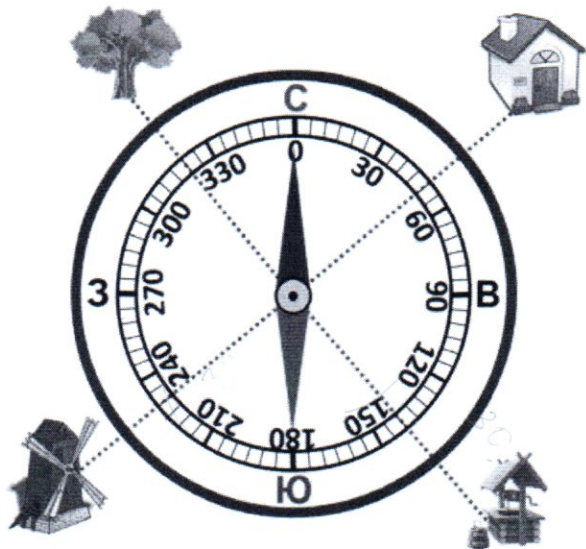
1,5

5. Этот материк расположен в западном и восточном полушариях был открыт русскими мореплавателями самым последним в 1820 г.. О каком материке идет речь?

- А) Африка
- Б) Антарктида
- В) Евразия
- Г) Австралия

1,5

6. Соотнесите нарисованный объект с его азимутом:



- 1) Домик — А — 230
 2) Колодец — Б — 50
 3) Мельница — В — 320
 4) Дерево — Г — 140

1-Б
 2-Г
 3-А
 4-В

7. Выбери лишнее, свой выбор объясни.

- 1) Фернандо Магеллан — *исп. мореплавец, путешественник*
 2) Христофор Колумб — *итальянец - мореплавец*
 3) Джеймс Кук — *английский мореплавец*
 4) И.Ф. Крузенштерн — *русский мореплавец, путешественник (русский)*

8. Выберите путешественника, который не исследовал территорию Хабаровского края:

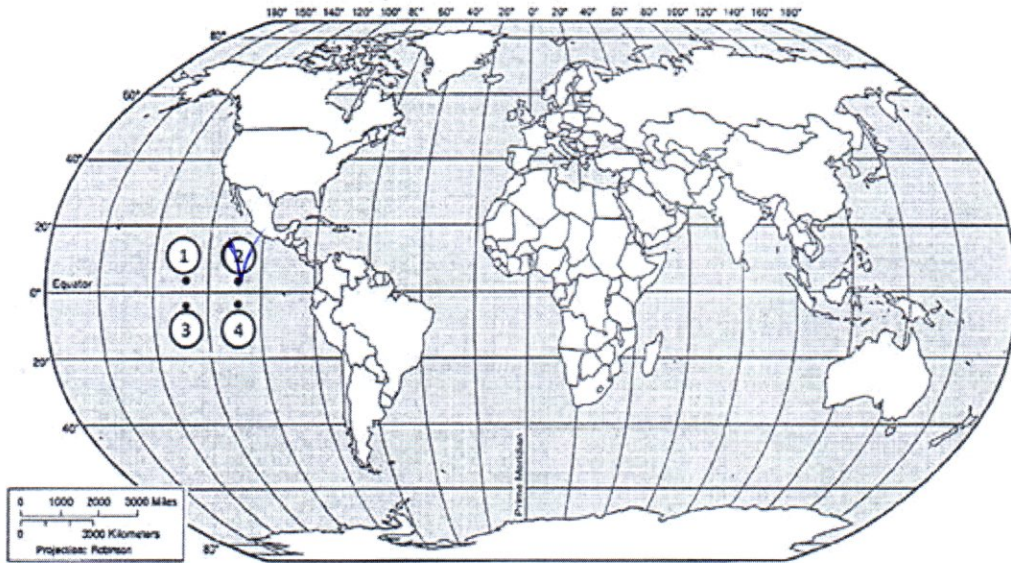
- А) Е.П. Хабаров Б) Н.М. Пржевальский В) В.К. Арсеньев Г) Н. И. Вавилов

9. Какое место по площади занимает Хабаровский край в России?

- А) 1 Б) 2 В) 3 Г) 4

10. Какая из обозначенных на карте мира точек имеет географические координаты 5° с. ш. и 110° з. д.?

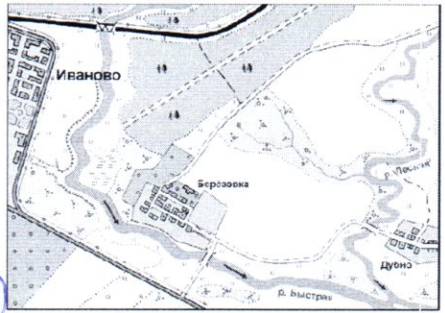
точка и 2.



15

- 1) А
- 2) Б
- 3) В
- 4) Г

11. Выбери лишнее изображение



А)

Б)



В)

Г)

15

12. Соотнесите названия стран и характерные для них особенности территории или географического положения.

- А) «страна-материк» ————— 1. Австралия
- Б) «карликовое государство» ————— 2. Монако
- В) островное государство ————— 3. Монголия
- Г) внутриконтинентальное государство ————— 4. Филиппины
- 5. Франция

15

13. Найдите соответствие

ПОНЯТИЯ

- 1. Параллель
- 2. Берг-штрихи
- 3. Абсолютная высота
- 4. Географическая карта

ОПРЕДЕЛЕНИЯ

- А) Неровности земной поверхности
- Б) Это условно проведенная линия по земной поверхности параллельная линии экватора
- В) Это уменьшенное изображение земной поверхности на плоскости при помощи условных знаков
- Г) Это превышение точки земной поверхности над уровнем моря
- Д) Линии, показывающие направление склонов

Ответ:

1	2	3	4	5
Б	Д	Г	В	

14. В мультфильме «Зима в Простоквашино» машина Дяди Федора застряла в яме. А как такую форму рельефа показывают на топографических картах?



Горизонтали

15. Какой остров отделяется от материка проливом Г.И. Невельского?

- 1) Мадагаскар
- 2) Врангеля
- 3) Сахалин
- 4) Русский

Школьный этап олимпиады по географии

7 класс Теоретический тур

Задание 1

Определите с помощью атласа по географическим координатам вершины крупных горных систем нашей планеты:

- 1) 28° с. ш. 87° в. д. ⁸⁸⁴⁸ г. Джомолунгма (Эверест) (Тибет) - Россия ^{1,5}
- 2) 36° ю. ш. 148° в. д. г. Косцюшко Австралия ²²²⁸ ^{1,5}
- 3) 33° ю. ш. 70° з. д. г. Митчелл (Аппалачи) - США ²⁰³⁷ ^{1,5}
- 4) 65° с. ш. 60° в. д. г. Народная (Уральские горы) - Россия ¹⁸⁹⁵ ^{2,5}
- 5) 31° с. ш. 7° з. д. г. Тудкаль (Атлас) - Тунисия ⁴¹⁶⁵ ^{1,5}

Напишите:

1. названия вершин и горных систем, в которых они расположены;
2. определите абсолютную высоту вершин.
3. на территории какого государства расположены вершины этих гор

Задание 2

Этот пролив, являющийся мировым рекордсменом сразу по нескольким номинациям, назван по имени англичанина - руководителя второй кругосветки, который собственно и проплыл по проливу первым из европейцев. Для пролива типичны частые шторма.

Назовите пролив, укажите океаны он соединяет, какие материки разъединяет.

Назовите, в каких номинациях пролив является рекордсменом, объясните, почему там бывают самые частые и сильные ветра

пролив Дрейка - течение Зан Ветров - соединяет Тихий и Атлантический океаны, разъединяет Южную Америку и Антарктиду. ^{1,5}

Задание 3

Этот объект - крупнейший на Земле замкнутый водоем, расположенный в двух частях света. Его воды омывают берега 5 стран. В водоём впадает 130 рек, в том числе и одна из крупнейших рек Европы. Много веков назад ^{2,5}

водоем называли Хвалынским морем, Дербентским морем. Северная часть водоема зимой покрыта льдом, в то время как южная остается незамерзающей.

Назовите объект, о котором идет речь в тексте. Укажите название стран. Как называется крупнейшая река Европы, впадающая в водоем. Какой тип устья характерен для этой реки.

25 Каспийское море

страны:

45 Россия, Казахстан
Иран, Азербайджан

15 река - Волга

25 Грушевидное



Задание 4

О каких видах атмосферных осадков говорится в следующих литературных отрывках и загадках?

18 1. Огородные грядки были посыпаны крупной солью мороза.
(К.Г. Паустовский) Траг

15 2. Когда в солнечное утро летом пойдешь в лес, то на полях в траве видны алмазы.
(Л.Н. Толстой) Роса

3. Грянул гром неожиданно, наобум —
Яростный удар и гул протяжный.
А потом пронесся легкий шум,

Торопливый, радостный и влажный.

(С.Я. Маршак) *Дождь*

10

4. И вот сентябрь! И вечер года к нам

Подходит. На поля и горы

Уже мороз бросает по утрам

Свои серебристые узоры.

(Е.А. Баратынский)

Изморозь

10

10
10

Задание 5

Маша решила рассказать своей подруге, проживающей в столице России о наиболее интересных объектах на территории Хабаровского края, вошедших в проект «7 чудес Хабаровского края» Назовите эти объекты и главные особенности, по которым их включили в этот проект.

1) Петропавловск-Камчатский - это древние рисунки на камнях

10.

