

$$125 + 310 = 435$$

211-7-3

**Всероссийская олимпиада школьников по географии
школьный этап 2019-2020**

Часть 1

Тестовые задания

7 класс

1. **Что нужно сделать для того, чтобы отпраздновать Новый год второй раз за сутки?**

- А) Пересечь нулевой меридиан с запада на восток;
- Б) Пересечь нулевой меридиан с востока на запад;
- В) Пересечь экватор с севера на юг по линии перемены дат;
- Г) Пересечь экватор с юга на север по линии перемены дат;

2. **Какой из нижеуказанных архипелагов посещал Фернандо Магеллан?**

- А) Алеутские острова;
- Б) Багамские острова;
- В) острова Галапагос;
- Г) Марианские острова;

3. **Какое средство Джеймс Кук стал использовать против цинги на своих судах?**

- А) квашеную капусту
- Б) доброе слово
- В) яблоки
- Г) индийские пряности

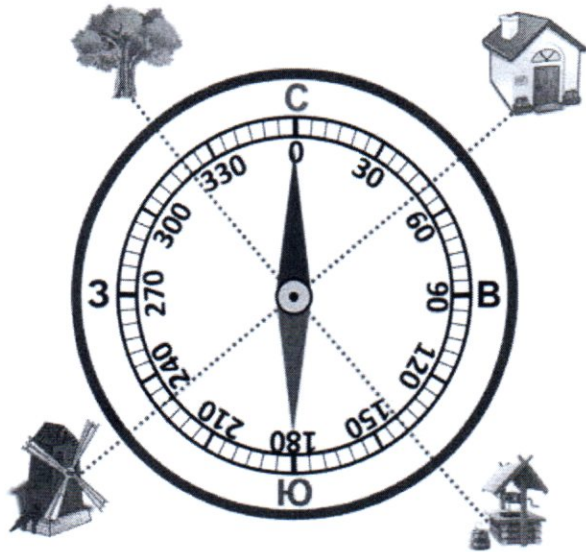
4. **Определите океан по описанию:** «Площадь 91,6 млн. кв. км, из которых около четверти приходится на внутриконтинентальные моря. Площадь прибрежных морей невелика и не превышает 1% от общей площади. Объем океана - это 25% от объема Мирового океана. Средняя глубина 3736 м, наибольшая – 8742 (желоб Пуэрто-Рико). Среднегодовая соленость вод океана составляет около 35‰».

- А) Атлантический
- Б) Северный Ледовитый
- В) Индийский
- Г) Тихий

5. **Этот материк расположен в западном и восточном полушариях был открыт русскими мореплавателями самым последним в 1820 г.. О каком материке идет речь?**

- А) Африка
- Б) Антарктида
- В) Евразия
- Г) Австралия

6. Соотнесите нарисованный объект с его азимутом:



- 1) Домик — А — 230
 2) Колодец — Б — 50
 3) Мельница — В — 320
 4) Дерево — Г — 140

1) Б
 2) В
 3) А
 4) Г

7. Выбери лишнее, свой выбор объясни.

- 1) Фернандо Магеллан
 2) Христофор Колумб
 3) Джеймс Кук
 4) И.Ф. Крузенштерн

Если Фернандо Магеллан сделал кругосветное путешествие (почти во всяком случае это была его цель), то другие открывали новые материи.

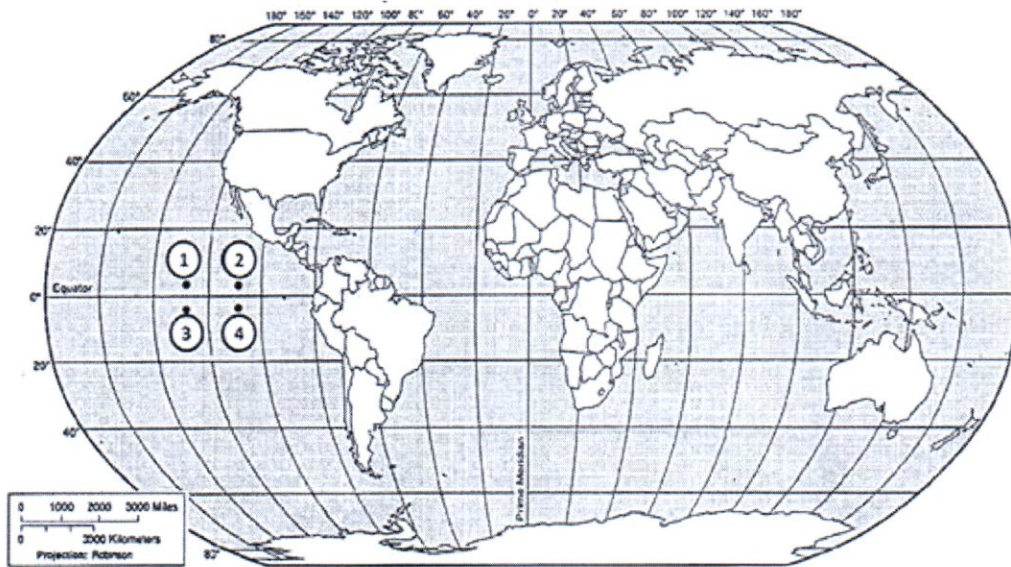
8. Выберите путешественника, который не исследовал территорию Хабаровского края:

- А) Е.П. Хабаров Б) Н.М. Пржевальский В) В.К. Арсеньев Г) Н. И. Вавилов

9. Какое место по площади занимает Хабаровский край в России?

- А) 1 Б) 2 В) 3 Г) 4

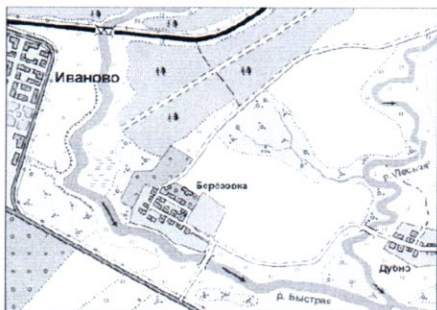
10. Какая из обозначенных на карте мира точек имеет географические координаты 5° с. ш. и 110° з. д.?



- 1) А
- 2) Б
- 3) В
- 4) Г

15

11. Выбери лишнее изображение



А)



Б)



В)



Г)

15

12. Соотнесите названия стран и характерные для них особенности территории или географического положения.

- А) «страна-материк» ————— 1. Австралия
- Б) «карликовое государство» ————— 2. Монако
- В) островное государство ————— 3. Монголия
- Г) внутриконтинентальное государство ————— 4. Филиппины
- 5. Франция

15

13. Найдите соответствие

ПОНЯТИЯ

1. Параллель
2. Берг-штрихи
3. Абсолютная высота
4. Географическая карта

ОПРЕДЕЛЕНИЯ

- А) Неровности земной поверхности
- Б) Это условно проведенная линия по земной поверхности параллельная линии экватора
- В) Это уменьшенное изображение земной поверхности на плоскости при помощи условных знаков
- Г) Это превышение точки земной поверхности над уровнем моря
- Д) Линии, показывающие направление склонов

16

Ответ:

1	2	3	4	5
Б	Б Д	В	В Г	

14. В мультфильме «Зима в Простоквашино» машина Дяди Федора застряла в яме. А как такую форму рельефа показывают на топографических картах?

16

А)



15. Какой остров отделяется от материка проливом Г.И. Невельского?

- 1) Мадагаскар
- 2) Врангеля
- 3) Сахалин
- 4) Русский

Школьный этап олимпиады по географии

7 класс Теоретический тур

Задание 1

Определите с помощью атласа по географическим координатам вершины крупных горных систем нашей планеты:

- 1) 28° с. ш. 87° в. д. Джомолунгма, Гималаи, 8848 м, Непал 20
2) 36° ю. ш. 148° в. д. Косцюшко, 2228 м, Восточные Водораздельные горы, Австралия 45
3) 33° ю. ш. 70° з. д. Эльбурс, Андды, 6880 м, Чили 45
4) 65° с. ш. 60° в. д. Народная, Уральские горы, 1895 м, Россия 25
5) 31° с. ш. 7° з. д. Тубкаль, Атлас, 4165 м, Марокко 25

Напишите:

1. названия вершин и горных систем, в которых они расположены;
2. определите абсолютную высоту вершин.
3. на территории какого государства расположены вершины этих гор

Задание 2

Этот пролив, являющийся мировым рекордсменом сразу по нескольким номинациям, назван по имени англичанина - руководителя второй кругосветки, который собственно и проплыл по проливу первым из европейцев. Для пролива типичны частые шторма.

Назовите пролив, укажите океаны он соединяет, какие материки разъединяет. Пролив Дрейка, Тихий и Атлантический. Южную Америку и Антарктиду.

Назовите, в каких номинациях пролив является рекордсменом, объясните, почему там бывают самые частые и сильные ветра. Самый холодный пролив. Там часто бывают сильные ветра т.к. он ~~находится~~ сильно приближен к экватору ~~находясь~~ пассату.

Задание 3

Этот объект - крупнейший на Земле замкнутый водоем, расположенный в двух частях света. Его воды омывают берега 5 стран. В водоём впадает 130 рек, в том числе и одна из крупнейших рек Европы. Много веков назад

водоем называли Хвалынским морем, Дербентским морем. Северная часть водоема зимой покрыта льдом, в то время как южная остается незамерзающей.

Назовите объект, о котором идет речь в тексте. Укажите название стран. Как называется крупнейшая река Европы, впадающая в водоем. Какой тип устья характерен для этой реки.

~~Балтийское море. Сливает:~~
Швеция, Россия, Финляндия, Латвия и Литва.

25 Каспийское море

26 устье: Дельта



сливает: Россия, Казахстан, 55
Азербайджан, Туркмения,
Иран. Дельта Впадает:
Волга 15

105

Задание 4

О каких видах атмосферных осадков говорится в следующих литературных отрывках и загадках?

1. Огородные грядки были посыпаны крупной солью мороза.
(К.Г. Паустовский) *Снегопад* 0
2. Когда в солнечное утро летом пойдешь в лес, то на полях в траве видны алмазы. *Роса*
(Л.Н. Толстой) 1
3. Грянул гром нежданно, наобум —
Яростный удар и гул протяжный.
А потом пронесся легкий шум,

Торопливый, радостный и влажный.
(С.Я. Маршак) *Гроза с дождем*

4. И вот сентябрь! И вечер года к нам
Подходит. На поля и горы
Уже мороз бросает по утрам
Свои серебристые узоры. *Уней*
(Е.А. Баратынский)

1
35

Задание 5

Маша решила рассказать своей подруге, проживающей в столице России о наиболее интересных объектах на территории Хабаровского края, вошедших в проект «7 чудес Хабаровского края» Назовите эти объекты и главные особенности, по которым их включили в этот проект.

- 1 Лотос - очень красивый и редко встречающийся цветок
- 1 Амурский тигр - очень красивое, ценное и редко встречающееся животное
- 2 Петроглифы - наскальные рисунки оставленные предками
в Сихоти-Аяне
- Амур - ~~одна из самых больших рек России, там обитает~~
~~большая рыба, тоже в России~~
- 2 Амурский мост - раньше считался самым протяженным мостом
сейчас из самых длинных.
- ~~Амур (Хабаровская)~~
- 65 Амурское
И. Плещинское озеро - относительно небольшое, но
красивое озеро

211-7-3