

Яновичуше Милана
Сергеевна 9Б

Школьный этап Всероссийской олимпиады по географии

9 Класс

Тестовый тур

1. Какие районы России наиболее обеспечены водными ресурсами?

- 0
- 1) Среднее и Нижнее Поволжье;
 - 2) Среднесибирское плоскогорье;
 - 3) Приморский край, юго-восточное побережье Камчатки и южная половина острова Сахалин;
 - 4) юг Европейской территории России.

2. Определите форму рельефа на территории России по описанию её геологической истории: «В основе этой равнины лежит плита, фундамент которой был создан в палеозое. В течение мезозоя и кайнозоя формировался осадочный чехол».

- 18
- 1) Восточно-Европейская равнина;
 - 2) Западно-Сибирская равнина;
 - 3) Среднесибирское плоскогорье;
 - 4) Прикаспийская низменность.

3. В каком климатическом поясе расположена большая часть территории России?

- 18
- 1) арктическом;
 - 2) субарктическом;
 - 3) умеренном;
 - 4) субтропическом.

4. Заполните пропуск, выбрав правильное число.

18 В настоящее время доля городского населения России составляет ... %?

- 1) 17,7;
- 2) 33,5;
- 3) 62,3;
- 4) 74,3.

5. Какие города России считаются вершинами треугольника, соответствующего главной полосе расселения?

- 18
- 1) Астрахань, Москва, Челябинск;
 - 2) Архангельск, Ростов-на-Дону, Челябинск;
 - 3) Иркутск, Санкт-Петербург, Сочи;
 - 4) Мурманск, Омск, Ростов-на-Дону.

6. На предприятии какой угольной компании России добывается наибольшее количество угля?

- 18
- 1) «Кузбассразрезуголь»;
 - 2) «Сибирская угольная энергетическая компания»;
 - 3) «Южкузбассуголь»;

Яновичуше Милана
Сереевна 9Б

4) «Южный Кузбасс».

7. В структуре экспорта России 66 % занимает(-ют) ...

- 1) машины и оборудование;
2) металлы и драгоценные камни;
15) 3) минеральное сырьё;
4) продовольствие и сельскохозяйственное сырьё.

8. Какой российский город был родиной выдающихся мореходов и землепроходцев XVII – XIX вв.: В.В. Атласова, М.М. Булдакова, С.И. Дежнёва, В.И. Шилова?

- 1) Архангельск;
2) Великий Новгород;
15) 3) Великий Устюг;
4) Кострома.

9. Сколько времени будет в Норильске, когда там совершит посадку самолёт, вылетевший из Москвы в 13 часов? Расчётное время полёта составляет 5 часов.

- 15) 1) 21 час; 2) 22 часа; 3) 18 часов; 4) 16 часов.

10. Наиболее распространёнными горными породами для территории Центральной России являются:

- 1) известняки;
2) строительные камни;
1) 3) пески и глины;
4) базальты.

11. Первыми обогнули северо-восточную оконечность Азии и доказали, что Азия не соединяется с Северной Америкой, участники экспедиции под руководством:

- 0) 1) В. Беринга и А. Чирикова;
2) С. Дежнёва и Ф. Попова;
3) Ф. Беллинсгаузена и М. Лазарева;
4) М. Гвоздева и И. Фёдорова.

12. Выберите крупнейший по численности населения народ России, говорящий на языке Уральско-Юкагирской семьи, доля которого в населении нашей страны составляет 0,5%:

- 15) 1) аварцы; 2) мордва; 3) чувашаи; 4) удмурты;

13. Великий русский ученый-энциклопедист Ломоносов М.В. писал, что «Богатство России....прирастать будет». Какой район нашей страны он имел в виду?

- 15) 1) Дальний Восток; 2) Север; 3) Сибирь; 4) Урал.

Анонсы Милана
Сергеева 9Б

14. Сколько крупных российских городов расположено на берегах р. Амур?

1) 4; 2) 6; 3) 8; 4) 12.

15. Плесецк (г. Мирный), Капустин Яр, Свободный. Выберите, к какой категории объектов по назначению они относятся:

1) крупные транспортные узлы;

2) места падения метеоритов;

3) это центры автомобилестроения;

4) это космодромы и центры испытания ракет и боевой техники.


Аналитический тур

Задание №1. На рисунках вы видите 4 сельскохозяйственные культуры, отличающиеся по условиям произрастания, сбора и использованию. Определите эти культуры и заполните таблицу.

А



В



С



Д



Фото	Название сельскохозяйственной культуры	Страны-мировые лидеры по сбору культуры	Использование культуры
А	сахарный тростник	Индия, Китай	Производство сахара
В	хлопчатник	Индия, Узбекистан	Производство тканей, бумаги
С	чай	Китай, Индия, Шри-Ланка	Производство напитков
Д	кофе	Бразилия, Колумбия, Вьетнам	Производство напитков

Задание №2. Школьники Алена и Иван собираются в летний полевой географический лагерь на Крымский берег Черного моря. Им предстоит изучить гидрологические особенности территории. Какие из перечисленных приборов пригодятся ребятам непосредственно для решения их задач? Внесите названия «полезных» приборов в таблицу, дав каждому из них краткую характеристику. Выберите из списка навигационные приборы, которыми путешественники пользовались в старину, объясните их назначение?

Курвиметр, психрометр, осадкомер, квадрант, барометр, астролябия, термометр, флюгер, нивелир, эхолот, портолан, анемометр, гироскоп, батометр, гигрометр, снегомерная рейка, бур, волнограф, GPS-навигатор, бус-соль, сейсмограф.

№ п/п	Прибор	Измеряемая характеристика	Единица измерения
1	ЭХОЛОТ	глубина водного бассейна	метры
2	Волнограф	высота волны	метры
3	термометр	температура воды	градусы Цельсия, Фаренгейта
4	осадкомер	кол-во атмосферных осадков	мм

Назначение старинных навигационных приборов:

Астролябия - определение широт, флюгер - направление ветра, портолан - акватория

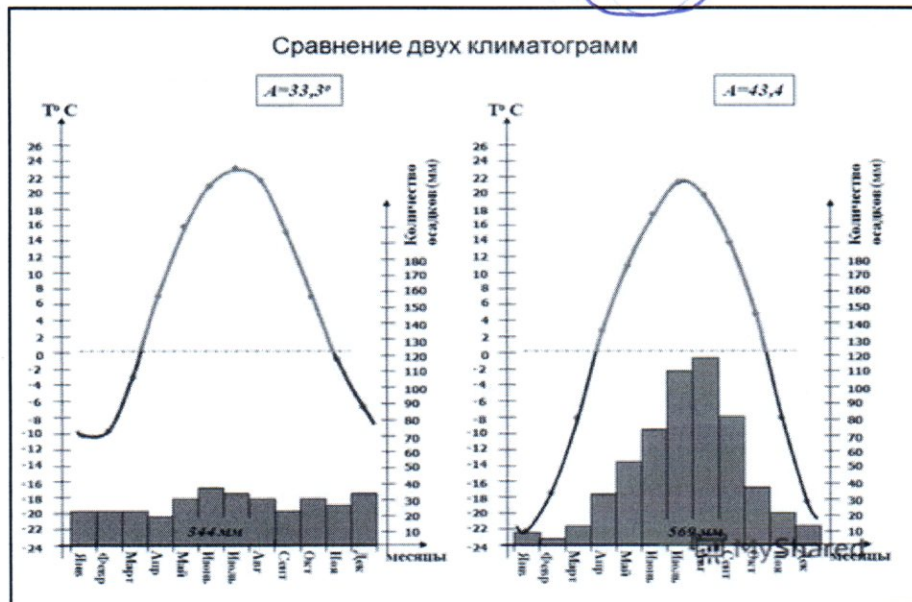
Задание №3. Какая из представленных климатограмм характеризует климат в Хабаровске? Приведите доводы.

Яновичте Милана Сергеевна

Z

9Б

X



25

Z, т.к. Хабаровск находится в умеренно-муссонной климате. В котором характерной чертой является большое кол-во атмосферн. осадков летом

Задание №4. Прочитайте стихотворение Андрея Усачева и ответьте на вопросы.

X – это природы каприз!

Представьте, X создана из

Горячих ключей, ледников и огня,

Полярных ночей и полярного дня,

Вулканов, что внутренним жаром объаты,

А сверху закованы в снежные латы

(А горы постарше, как старые бабки,

Закутаны в снежные шали и шапки),

Из гейзеров, вверх устремившихся, из

Больших водопадов, стекающих вниз,

Из теплой зимы и холодного лета...

Ах, как изумительно вместе всё это!

Что можно сравнить с этой дивной страной?

Ну, разве – большой холодильник в парной!

большое кол-во атмосферн. осадков летом

1) Какой географический объект обозначен как X?

Исландия

2) Какие природные особенности X привели к формированию вулканов и гейзеров?

Она расположена на границе литосферных плит

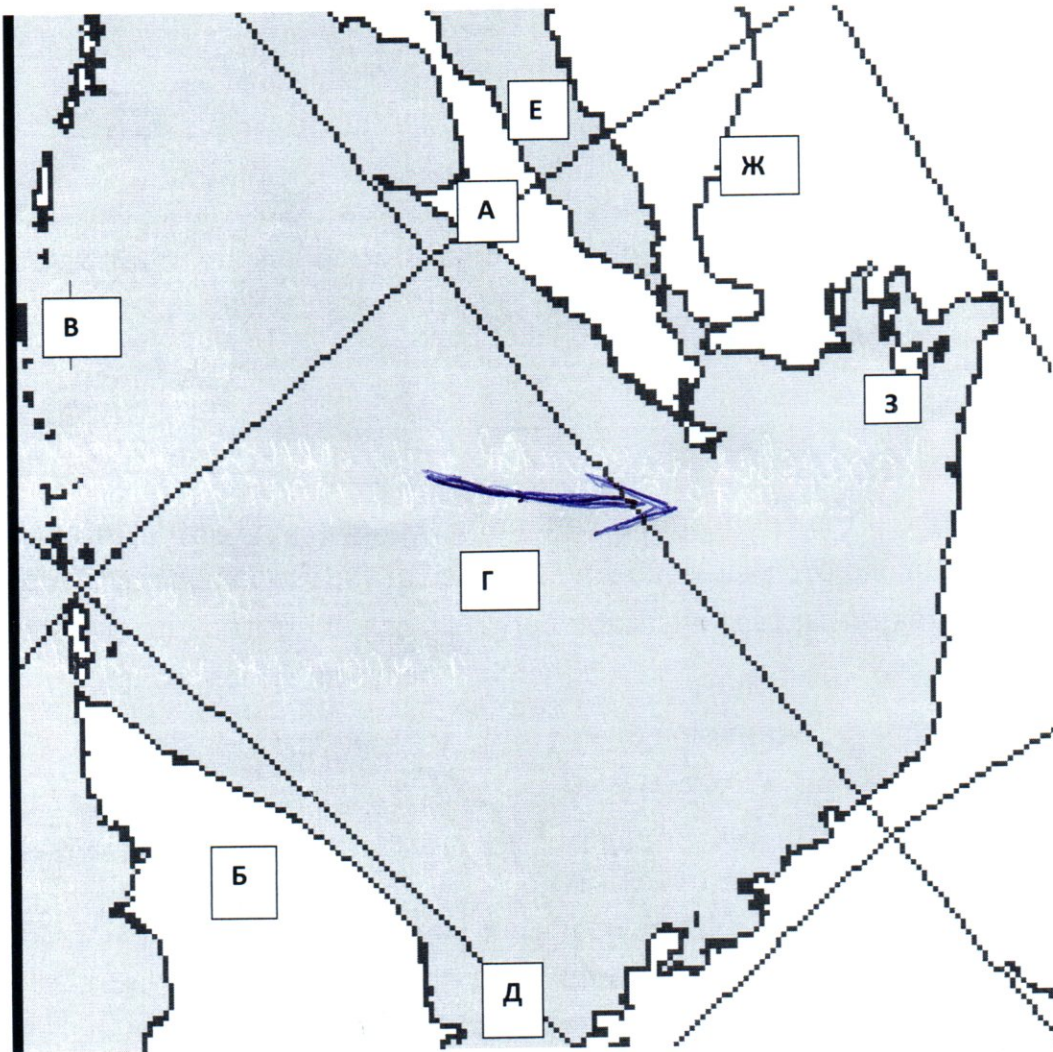
3) Почему вулканы, которые «внутренним жаром объаты», покрыты снегами?

Потому что вулканы высокие, а с высотой температура воздуха понижается.

25

Яковичуше Милана
Сергеевна 9Б

Задание №5. Определите район, показанный на карте. Подпишите названия географических объектов, которые помогли вам это сделать (в таблице). Для фрагмента контурной карты (суша показана светлым цветом) стрелкой укажите направление на север. *морская граница России с США.*



Буква на карте	Географический объект	Название
А	остров	Сахалин 1
Б	полуостров	Аляска 0
В	острова	Курильские 1
Г	море	Охотское 1
Д	залив	Шелихова 1
Е	пролив	Татарский 1
Ж	река	Амур 1
З	архипелаг	Шантарские острова 1

78