

Школьный этап Всероссийской олимпиады по географии

10-11 класс

Тестовый тур

1. Выберите из предложенного списка страну, являющуюся конституционной монархией.

- А. Франция
- Б. Бразилия
- В. Саудовская Аравия
- Г. Алжир
- 15 Д. Япония 1

2. Выберите из списка страну, не входящую в «десятку» стран-гигантов по площади:

- А. Канада
- Б. Индия
- В. Россия
- 15 Г. Египет
- Д. Австралия

3. Что общего у Финляндии, Польши, Швеции и Австрии?

- 0 А. Являются членами НАТО
- Б. Граничат с Российской Федерацией
- В. Являются странами ОПЕК
- Г. Являются странами ЕС
- Д. Являются нейтральными странами

✓ 4. Что не является основной формой организации производства?

- А. Аккредитация
- Б. Специализация
- 15 В. Кооперирование
- Г. Концентрация
- Д. Комбинирование

5. Размещение предприятий по выплавке тяжелых металлов определяет фактор ...

- А. Трудовые ресурсы
- 15 Б. Сырье
- В. Наличие квалифицированных кадров
- Г. Топливо
- Д. Дешевая электроэнергия

6. Определите в предложенном списке страну "переселенческого капитализма":

- 0 А. США
- Б. Бразилия
- В. Новая Зеландия
- Г. Аргентина

7. Какой стране принадлежит лозунг демографической политики «Нас двое - нам двоих»:

- А. Индия
- Б. Китай
- В. США
- 0 Г. Аргентина
- Д. Испания

8. Определите страну с большой численностью и высокой плотностью населения, она является крупнейшим производителем автомобилей, морских судов и промышленных роботов, в ней развито рыболовство и производство риса:

- А. Республика Корея
- Б. Япония
- В. Индонезия
- 10 Г. Китай
- Д. Филиппины

9. Россия имеет только морскую границу с:

- А. Норвегией
- Б. Монголией
- В. Молдавией
- 10 Г. Украиной
- Д. Японией

10. Какая из перечисленных стран фактически является суверенной, однако формально ее главой считается британская королева:

- А. Индонезия
- Б. Египет
- В. Австралия
- 10 Г. Аргентина
- Д. Ирландия

11. В каком из перечисленных регионов мира нет государств с монархической формой правления:

- А. Африка
- Б. Азия
- 10 В. Европа
- Г. Америка

12. Половина жителей этой европейской страны проживает ниже уровня океана. Для защиты от катастрофических наводнений вдоль морского берега выстроены мощные дамбы и плотины. Устья рек во время морского прилива закрываются шлюзами. По одну сторону дамб – поля и луга, многолюдные города, по другую – море с кораблями, проплывающими выше селений. Назовите страну, море, омывающее ее берега, и её столицу.

Название страны: Нидерланды ~~Амстердам~~ Название моря: Северное  
Название столицы: Амстердам 35

13. Укажите, какие из перечисленных стран являются внутриконтинентальными:

- А. Швейцария, Б. Япония, В. Белоруссия, Г. Казахстан, Д. Монголия, Е. Греция, Ж. Дания, З. Великобритания

25

14. Какие три из перечисленных метода решения экологических проблем относят к интенсивным?

Ответ запишите в виде последовательности букв в алфавитном порядке:


- А. замена металла на современные композитные материалы в сооружениях и механизмах  
Б. разработка новых месторождений полезных ископаемых  
В. использование бытовых и производственных отходов в качестве сырья для производства новых изделий  
Г. создание на производстве замкнутых циклов использования ресурсов  
Д. увеличение глубины угольных шахт, позволяющее разрабатывать ранее недоступные пласты

15. В каком регионе в 90-е годы произошли самые крупные изменения на политической карте:

- А. Северная Америка  
Б. Африка  
В. Зарубежная Европа  
Г. Латинская Америка  
Д. Зарубежная Азия

### Аналитический тур

Задание №1. На рисунках вы видите 4 сельскохозяйственные культуры, отличающиеся по условиям произрастания, сбора и использованию. Определите эти культуры и заполните таблицу.






Фото	Культура	Районы- лидеры по сбору культуры	Использование культуры
A	лен	Юг России	Ткань, веревки
B	овес	Юг России, Украина	корм скота, каши
C	пшеница	Юг России, Украина	Хлеб
D	Виноград	Юг Франции, Крым	вино, пицца

**Задание №2.** Школьники Федор и Николай собираются в летний полевой географический лагерь на берег Телецкого озера. Им предстоит изучить рельеф и провести картографирование территории. Какие из перечисленных приборов пригодятся ребятам непосредственно для решения их задач? Внесите названия «полезных» приборов в таблицу, дав каждому из них краткую характеристику.

Курвиметр, нивелир, эхолот, анемометр, гироскоп, батометр, гигрометр, енегомерная рейка, бур, волнограф, GPS-навигатор, буссоль, компас, сейсмограф.

№ п/п	Прибор	Измеряемая характеристика	Единица измерения
1	компас	направ к полюсам	градусы
2	GPS-навигатор	Определение в пространстве	
3	сейсмограф		
4	буссоль		

**Задание №3.** О каком субъекте Российской Федерации идет речь в описании?

Эта территория входит в состав Европейского Севера. Основным богатством, которой являются лесные и водные ресурсы. Рельеф территории сформировался под действием ледников. Этот край называют «краем озер и гранита». Отраслью специализации является целлюлозно-бумажная промышленность. Перечислите субъекты Российской Федерации, с которыми граничит эта территория. С какими экологическими проблемами сталкиваются жители региона? Ленинградская область, загрязнение атмосферы, рек

**Задание №4.** Проанализируйте данные таблицы «Демографические показатели некоторых стран мира в 2012г.»:

Страна	Рождаемость	Смертность	Естественный
--------	-------------	------------	--------------

			прирост
Нигер	48	13	35
Мексика	19	5	14
ФРГ	8	11	-3
Мир в целом	19	8	11

25

Задания:

А. Определите естественный прирост и запишите ответы в соответствующие графы таблицы.





Б. Объясните причины (не менее 2-х) высокой смертности населения в Нигере:

10 Низко развитая медицина, низкий уровень жизни, 2 тип воспроизводства

В. Какие демографические проблемы (не менее 2-х) характерны для ФРГ в связи с низкой рождаемостью:

0,5 естественный прирост отрицательный, количество населения уменьшается

**Задание №5.** Определите город по силуэту, запишите в таблицу его название и страну, в которой он находится.





	Силуэт	Город	Страна
А		Рио-де-Жанейро	Бразилия
Б		Лондон	Англия
В		Москва	Россия
Г		Париж	Франция

15

15

15

15

Д		Нью-Йорк	США	15
Е		Казань	<del>Индия</del> Россия	0
Ж		Сидней	Австралия	15
З		Венеция	<del>Индия</del> Италия	15

Кратко опишите символ/символы городов:

- А. Статуя Христа <sup>0,5</sup>  
колесо обозрения
- Б. Биг Бен, Лондон Ай (London Eye), Букингемский дворец 0,5
- В. МГУ, Собор Василия Блаженного 0,5
- Г. Эйфелева Башня 0,5
- Д. Статуя Свободы, Эмпайр Стэйт Билдинг 0,5
- Е. ~~Тадж Махал~~
- Ж. Сиднейская Опера 0,5
- З. Гондолы, гондола 15