

Школьный этап Всероссийской олимпиады по географии

10-11 класс

Тестовый тур

1. Выберите из предложенного списка страну, являющуюся конституционной монархией.

- А. Франция
- Б. Бразилия
- В. Саудовская Аравия
- Г. Алжир
- Д. Япония

15

2. Выберите из списка страну, не входящую в «десятку» стран-гигантов по площади:

- А. Канада
- Б. Индия
- В. Россия
- Г. Египет
- Д. Австралия

15

3. Что общего у Финляндии, Польши, Швеции и Австрии?

- А. Являются членами НАТО
- Б. Граничат с Российской Федерацией
- В. Являются странами ОПЕК
- Г. Являются странами ЕС
- Д. Являются нейтральными странами

18

4. Что не является основной формой организации производства?

- А. Аккредитация
- Б. Специализация
- В. Кооперирование
- Г. Концентрация
- Д. Комбинирование

08

5. Размещение предприятий по выплавке тяжелых металлов определяет фактор ...

- А. Трудовые ресурсы
- Б. Сырье
- В. Наличие квалифицированных кадров
- Г. Топливо
- Д. Дешевая электроэнергия

18

6. Определите в предложенном списке страну "переселенческого капитализма":

- А. США
- Б. Бразилия
- В. Новая Зеландия
- Г. Аргентина

08

7. Какой стране принадлежит лозунг демографической политики «Нас двое - нам двоих»:

- А. Индия
- Б. Китай
- В. США
- Г. Аргентина
- Д. Испания

08

8. Определите страну с большой численностью и высокой плотностью населения, она является крупнейшим производителем автомобилей, морских судов и промышленных роботов, в ней развито рыболовство и производство риса:

- А. Республика Корея
- Б. Япония
- В. Индонезия
- Г. Китай
- Д. Филиппины

18

9. Россия имеет только морскую границу с:

- А. Норвегией
- Б. Монголией
- В. Молдавией
- Г. Украиной
- Д. Японией

18

10. Какая из перечисленных стран фактически является суверенной, однако формально ее главой считается британская королева:

- А. Индонезия
- Б. Египет
- В. Австралия
- Г. Аргентина
- Д. Ирландия

18

11. В каком из перечисленных регионов мира нет государств с монархической формой правления:

- А. Африка
- Б. Азия
- В. Европа
- Г. Америка

18

12. Половина жителей этой европейской страны проживает ниже уровня океана. Для защиты от катастрофических наводнений вдоль морского берега выстроены мощные дамбы и плотины. Устья рек во время морского прилива закрываются шлюзами. По одну сторону дамб – поля и луга, многолюдные города, по другую – море с кораблями, проплывающими выше селений. Назовите страну, море, омывающее ее берега, и её столицу.

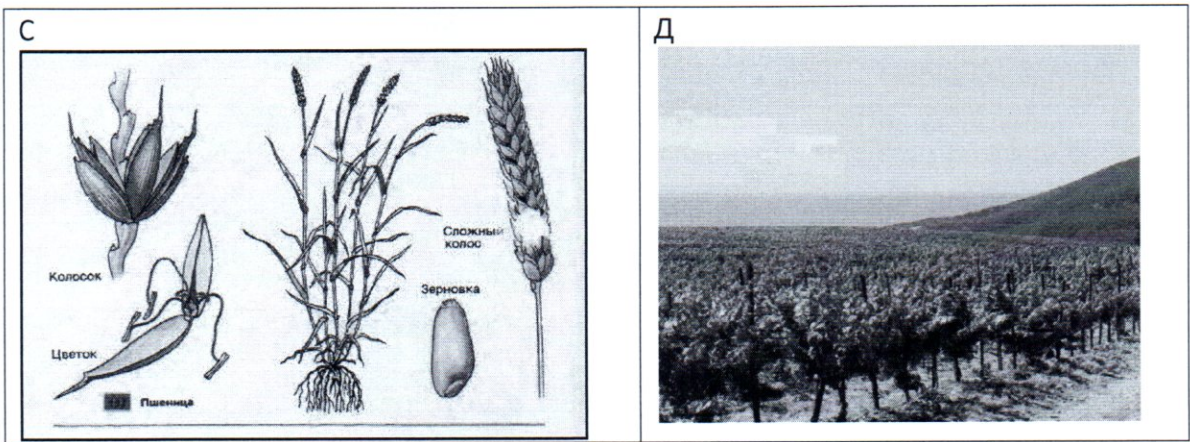


Фото	Культура	Районы- лидеры по сбору культуры	Использование культуры
A	пшеница	Россия (северо-запад)	пищевое сырье, кормовые культуры
B	пшеница	Израиль	пищевое сырье, кормовые культуры
C	пшеница	Израиль	пищевое сырье, кормовые культуры
D	пшеница	Израиль	пищевое сырье, кормовые культуры

Задание №2. Школьники Федор и Николай собираются в летний полевой географический лагерь на берег Телецкого озера. Им предстоит изучить рельеф и провести картографирование территории. Какие из перечисленных приборов пригодятся ребятам непосредственно для решения их задач? Внесите названия «полезных» приборов в таблицу, дав каждому из них краткую характеристику.

Курвиметр, нивелир, осадкомер, квадрант, барометр, астролябия, термометр, флюгер, нивелир, эхолот, анемометр, гироскоп, батометр, гигрометр, снегомерная рейка, бур, волнограф, GPS-навигатор, компас, сейсмограф.

№ п/п	Прибор	Измеряемая характеристика	Единица измерения
1	астролябия	направление ветра	градусы
2	нивелир	высота (над) и горизонт	метры
3	бур	глубина и диаметр скважины	метры
4	астролябия	направление ветра	градусы
5	гироскоп	направление вращения	градусы
6	квадрант	направление ветра	градусы
7	флюгер	направление ветра	градусы
8	термометр	температура	градусы

Задание №3. О каком субъекте Российской Федерации идет речь в описании?

Эта территория входит в состав Европейского Севера. Основным богатством, которой являются лесные и водные ресурсы. Рельеф территории сформировался под действием ледников. Этот край называют «краем озер и гранита». Отраслью специализации является целлюлозно-бумажная промышленность. Перечислите субъекты Российской Федерации, с которыми граничит эта территория. С какими экологическими проблемами сталкиваются жители региона? Эко-проблемы: загрязнение рек и озер от фабрик.

Задание №4. Проанализируйте данные таблицы «Демографические показатели некоторых стран мира в 2012г.»:

Страна	Рождаемость	Смертность	Естественный
--------	-------------	------------	--------------

Название страны: Нидерланды Название моря: Северное
Название столицы: Амстердам
35

13. Укажите, какие из перечисленных стран являются внутриконтинентальными:

- А. Швейцария, Б. Япония, В. Белоруссия, Г. Казахстан, Д. Монголия, Е. Греция, Ж. Дания, З. Великобритания
28

14. Какие три из перечисленных метода решения экологических проблем относят к интенсивным?

Ответ запишите в виде последовательности букв в алфавитном порядке:


- А. замена металла на современные композитные материалы в сооружениях и механизмах
Б. разработка новых месторождений полезных ископаемых
В. использование бытовых и производственных отходов в качестве сырья для производства новых изделий
Г. создание на производстве замкнутых циклов использования ресурсов
Д. увеличение глубины угольных шахт, позволяющее разрабатывать ранее недоступные пласты
15

15. В каком регионе в 90-е годы произошли самые крупные изменения на политической карте:

- А. Северная Америка -
Б. Африка -
В. Зарубежная Европа
Г. Латинская Америка -
Д. Зарубежная Азия -
10

Аналитический тур

Задание №1. На рисунках вы видите 4 сельскохозяйственные культуры, отличающиеся по условиям произрастания, сбора и использованию. Определите эти культуры и заполните таблицу.



			прирост
Нигер	48	13	35
Мексика	19	5	14
ФРГ	8	11	-3
Мир в целом	19	8	11

0,5 25.

Задания:

А. Определите естественный прирост и запишите ответы в соответствующие графы таблицы.

Б. Объясните причины (не менее 2-х) высокой смертности населения в Нигере:




низкий уровень здравоохранения. Экономически бедная страна => у населения нет средств на медицинские услуги.

В. Какие демографические проблемы (не менее 2-х) характерны для ФРГ в связи с низкой рождаемостью:

Увеличение % количества пожилого населения и в следствие этого снижается производительность населения, снижается доход и ВВП страны.

Задание №5. Определите город по силуэту, запишите в таблицу его название и страну, в которой он находится.

	Силуэт	Город	Страна
А		Рио-де-Жанейро	Бразилия 15
Б		Лондон	Великобритания 15
В		Москва	Россия 15
Г		Париж	Франция 15

Д		Нью-Йорк	США 15
Е		Куала-Лумпур	Малайзия 15
Ж		Сидней	Австралия 15
З		Венеция	Италия 15

Кратко опишите символ/символы городов:

- А. Статуя Врифта-Самбова 0,5 12,5
- Б. Колесо обозрения, Биг Бен 0,5
- В. Кремль, Собор Василия Блаженного 0,5
- Г. Джумхурская арка, Фериева башня. 0,5 15
- Д. Бруклинский мост, статуя Свободы, Манхэттен
- Е. Мечеть и пиданко гран в. Софии 15
- Ж. Сиднейский оперный театр 0,5
- З. Канал на воде, парашутик на велосипеде

4,5