

Школьный этап Всероссийской олимпиады по географии

10-11 класс

Тестовый тур

1. Выберите из предложенного списка страну, являющуюся конституционной монархией.

- А. Франция
- Б. Бразилия
- В. Саудовская Аравия
- Г. Алжир
- ☒ Д. Япония

18

2. Выберите из списка страну, не входящую в «десятку» стран-гигантов по площади:

- А. Канада
- Б. Индия
- В. Россия
- ☒ Г. Египет
- Д. Австралия

18

3. Что общего у Финляндии, Польши, Швеции и Австрии?

- А. Являются членами НАТО
- Б. Граничат с Российской Федерацией
- В. Являются странами ОПЕК
- ☒ Г. Являются странами ЕС
- Д. Являются нейтральными странами

18

4. Что не является основной формой организации производства?

- ☒ А. Аккредитация
- Б. Специализация
- В. Кооперирование
- Г. Концентрация
- Д. Комбинирование

18

5. Размещение предприятий по выплавке тяжелых металлов определяет фактор ...

- А. Трудовые ресурсы
- ☒ Б. Сырье

18

- В. Наличие квалифицированных кадров
- Г. Топливо
- Д. Дешевая электроэнергия

6. Определите в предложенном списке страну "переселенческого капитализма":

- А. США
- Б. Бразилия
- ☒ В. Новая Зеландия
- Г. Аргентина

18

7. Какой стране принадлежит лозунг демографической политики «Нас двое - нам двоих»:

- ☒ А. Индия
- Б. Китай
- В. США
- Г. Аргентина
- Д. Испания

18

8. Определите страну с большой численностью и высокой плотностью населения, она является крупнейшим производителем автомобилей, морских судов и промышленных роботов, в ней развито рыболовство и производство риса:

- А. Республика Корея
- ☒ Б. Япония
- В. Индонезия
- Г. Китай
- Д. Филиппины

18

9. Россия имеет только морскую границу с:

- А. Норвегией
- Б. Монголией
- В. Молдавией
- Г. Украиной
- ☒ Д. Японией

18

10. Какая из перечисленных стран фактически является суверенной, однако формально ее главой считается британская королева:

- А. Индонезия

Б. Египет

☒ В. Австралия

Г. Аргентина

Д. Ирландия

15

11. В каком из перечисленных регионов мира нет государств с монархической формой правления:

А. Африка

Б. Азия

В. Европа

☒ Г. Америка

15

12. Половина жителей этой европейской страны проживает ниже уровня океана. Для защиты от катастрофических наводнений вдоль морского берега выстроены мощные дамбы и плотины. Устья рек во время морского прилива закрываются шлюзами. По одну сторону дамб – поля и луга, многолюдные города, по другую – море с кораблями, проплывающими выше селений. Назовите страну, море, омывающее ее берега, и её столицу.

Название страны: Нидерланды Название моря: Северное

Название столицы: Амстердам

35

13. Укажите, какие из перечисленных стран являются внутриконтинентальными:

☒ А. Швейцария, Б. Япония, ☒ В. Белоруссия, ☒ Г. Казахстан, ☒ Д. Монголия, Е. Греция, Ж. Дания, З. Великобритания

АВГД

25

14. Какие три из перечисленных метода решения экологических проблем относят к интенсивным?

Ответ запишите в виде последовательности букв в алфавитном порядке:

☒ А замена металла на современные композитные материалы в сооружениях и механизмах

Б. разработка новых месторождений полезных ископаемых

☒ В использование бытовых и производственных отходов в качестве сырья для производства новых изделий

☒ Г создание на производстве замкнутых циклов использования ресурсов

Г. увеличение глубины угольных шахт, позволяющее разрабатывать ранее недоступные пласты

15



15. В каком регионе в 90-е годы произошли самые крупные изменения на политической карте:

- А. Северная Америка
- Б. Африка
- В. Зарубежная Европа
- Г. Латинская Америка
- Д. Зарубежная Азия

18

185

### Аналитический тур

Задание №1. На рисунках вы видите 4 сельскохозяйственные культуры, отличающиеся по условиям произрастания, сбора и использованию. Определите эти культуры и заполните таблицу.




Фото	Культура	Районы- лидеры по сбору культуры	Использование культуры
А	Лен	Центральный, Северный, Северо-западный	Производство тканей

205



25  
25  
25

В	Просо	Добровинский, Уранский, Круна, пиано
С	Пшеница	Северо-Кавказский, Добровинский, Муко, Клоб.
Д	Виноград	Северо-Кавказский, Муко, СОК, Вино

Задание №2. Школьники Федор и Николай собираются в летний полевой географический лагерь на берег Телецкого озера. Им предстоит изучить рельеф и провести картографирование территории. Какие из перечисленных приборов пригодятся ребятам непосредственно для решения их задач? Внесите названия «полезных» приборов в таблицу, дав каждому из них краткую характеристику.

Курвиметр, психрометр, осадкомер, квадрант, барометр, астролыбия, термометр, флюгер, нивелир, эхолот, анемометр, гироскоп, батометр, гигрометр, снегомерная рейка, бур, волнограф, GPS-навигатор, буссоль, компас, сейсмограф.

15  
15  
15  
15  
15  
15  
15

№ п/п	Прибор	Измеряемая характеристика	Единица измерения
1.	Буссоль	Угол местности	градусы
2.	Компас	Направление	С, Ю, З, В, градусы
3.	Нивелир	Высота холмов (гор)	метры
4.	Эхолот	Глубина водоема	м, км, см
5.	Курвиметр	Измерения линий	м
6.	GPS-навигатор	Ориентирование на карте	градусы
7.	Квадрант	Оси координат	параллели, меридианы

Задание №3. О каком субъекте Российской Федерации идет речь в описании?

Эта территория входит в состав Европейского Севера. Основным богатством, которой являются лесные и водные ресурсы. Рельеф территории сформировался под действием ледников. Этот край называют «краем озер и гранита». Отраслью специализации является целлюлозно-бумажная промышленность. Перечислите субъекты Российской Федерации, с которыми граничит эта территория. С какими экологическими проблемами сталкиваются жители региона? Республика Карелия

Задание №4. Проанализируйте данные таблицы «Демографические показатели некоторых стран мира в 2012 г.»:

85

Страна	Рождаемость	Смертность	Естественный прирост
Нигер	48	13	$48 - 13 = 35$
Мексика	19	5	$19 - 5 = 14$
ФРГ	8	11	$8 - 11 = -3$

Граничит с Архангельской, Вологодской, Ленинградской, Мурманской областями. Природа: много озер, леса, реки. Экономическая деятельность: лесная, оленеводство, рыболовство.



Мир в целом	19	8	$19 - 8 = 11$
-------------	----	---	---------------

25

Задания:

А. Определите естественный прирост и запишите ответы в соответствующие графы таблицы.

Б. Объясните причины (не менее 2-х) высокой смертности населения в Нигере:

1) Мало развита медицина 2) Нехватка чистой воды  
3) Ракетный шантаж

25

В. Какие демографические проблемы (не менее 2-х) характерны для ФРГ в связи с низкой рождаемостью:





1) Много пенсионеров  
2) Большое кол-во приезжих из других стран  
3) Маленькое кол-во трудоспособного населения

25

Задание №5. Определите город по силуэту, запишите в таблицу его название и страну, в которой он находится.

65

	Силуэт	Город	Страна
А		Рио-де-Жанейро	Бразилия 15
Б		Лондон	Велико-Британия 15
В		Москва	Россия 15
Г		Париж	Франция 15

Д		Нью-Йорк	США 10
Е		Стамбул	Турция 10
Ж		Сидней	Австралия 10
З		Венеция	Италия 10

Кратко опишите символ/символы городов:

- А. Статуя Христа Спасителя 0,5
- Б. Лавровский мост, Фил Бей, Какао Боженица 0,5+0,5
- В. МГУ, Собор Василия Блаженного, Кремль 0,5+0,5
- Г. Триумфальная арка, <sup>Собор Парижской Богоматери</sup> Кариева Башня 0,5
- Д. Статуя свободы, небоскребы, Бруклинский мост 0,5+0,5
- Е. Стамбульская мечеть (Тайубае мечеть) 0,5
- Ж. Сиднейский оперный театр, Мост через залив 0,5+0,5
- З. Гондолы по реке 0,5

590 + 22 = 610 бал

141

430