

Бул. Куцев 6 "б"



# ШКОЛЬНЫЙ ЭТАП

Всероссийской олимпиады  
школьников

Хабаровского края

**ВСЕРОССИЙСКАЯ ОЛИМПИАДА ШКОЛЬНИКОВ ПО ГЕОГРАФИИ**

ШКОЛЬНЫЙ ЭТАП

2020–2021 УЧЕБНЫЙ ГОД


**ЗАДАНИЯ ШКОЛЬНОГО ЭТАПА**

Куршев С.В.

Всероссийская олимпиада школьников по географии  
школьный этап 2020-2021 учебный год  
6 класс

Тестовый тур

1. Самый старый, сохранившийся до наших дней глобус находится в Германском Национальном Музее (город Нюрнберг). Он был создан в 1493 - 1494 годах и получил название «Земное Яблоко». Позднее был переименован по имени его создателя. В честь кого был назван первый глобус?



- А) Эратосфен    Б) Птолемей    В) Пифагор     Г) Бехайм

2. Какой глубоководный желоб, расположенный за пределами Тихого океана.


- А) Филиппинский    Г) Чилийский    В) Марианский  
Б) Зондский     Д) Курило-Камчатский

3. Какого острова нам не найти на карте?

- А) Новая Сибирь    В) Мадагаскар    Д) Куба  
Б) Новая Каледония    Г) Гренландия

4. Какая природная зона спрятана в стихотворении и в картине знаменитого художника? Выберите соответствующий рисунок с изображением этой природной зоны.

*Кедры мощно держат мосты небес,  
Птицы хором гимны поют.  
Вековой здесь стоит корабельный лес,  
И до солнца сосновые мачты растут.*



- А) Тайга    Б) Степь    В) Экваториальные леса    Г) Смешанный лес

5. Выберите правильную последовательность расположения планет земной группы по мере удаления их от Солнца:

- А) Марс, Земля, Меркурий, Венера



Кучев 6, 6"

- Б) Венера, Меркурий, Земля, Марс  
В) Меркурий, Венера, Земля, Марс  
Г) Меркурий, Венера, Марс, Земля

6. Определите масштаб карты, если известно, что дорога длиной 5 км отображается на карте линией, имеющей длину 2,5 см.

- А) 1:200    Б) 1:2000    В) 1:20000    Г) 1:200000    Д) 1:2000000

7. Круговорот воды в природе – один из основных природных процессов на Земле. Укажите объект гидросферы, в котором вода обновляется медленнее всего.

- А) река    Б) озеро    В) ледник    Г) море    Д) вода в атмосфере

8. Русский купец Афанасий Никитин совершил путешествие, которое описал в книге «Хождение за три моря». Какие три моря он посетил?

- А) Каспийское, Черное, Средиземное  
Б) Каспийское, Черное, Аравийское  
В) Адриатическое, Средиземное, Аравийское  
Г) Балтийское, Черное, Красное

9 Долина Гейзеров входит в число памятников природного наследия ЮНЕСКО. На каком полуострове она находится?

- А) Скандинавский    Б) Аравийский    В) Кольский    Г) Камчатка

10. Как назывался корабль, на котором капитан Г.Н. Невельской проводил исследования устья Амура в 1849- 1850 гг.?

- А) «Виктория»    Б) «Байкал»    В) «Санта Мария»    Г) «Витязь»

11. Группа туристов отправилась в поход, двигаясь по азимуту 45 градусов, по какому азимуту группа будет возвращаться? Ответ запишите в виде числа.

12. Ответьте на вопросы:

- А) Под какой цифрой находится самое соленое море?  
Б) Какое море не является морем по определению? Носит этот титул из-за своих больших размеров. Какой цифрой оно обозначено?



**13. Установите соответствие между географическими объектами и природными рекордсменами своих материков:**

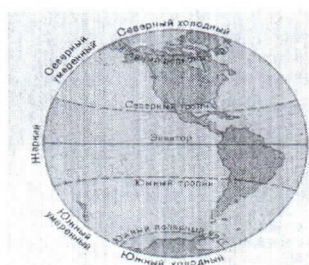
*Географические объекты*

- |   |          |
|---|----------|
| А) Джомолунгма, Килиманджаро,<br>Монблан <b>2</b> | 1) реки  |
| Б) Верхнее, Каспийское, Эйр <b>3</b>              | 2) горы  |
| В) Амазонка, Муррей, Янцзы <b>4</b>               | 3) озёра |

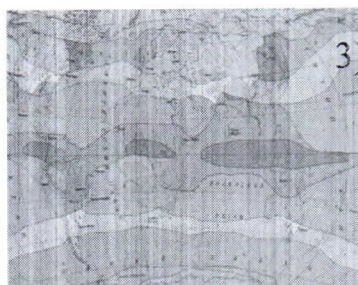
**14. Установите соответствие: название карты – её изображение.**

- |   |   |
|---|---|
| <b>1</b> А) карта тепловых поясов Земли     | <b>5</b> Г) карта поясов освещённости Земли |
| <b>4</b> Б) карта природных зон мира        | <b>3</b> Д) карта часовых поясов Земли      |
| <b>2</b> В) карта климатических поясов мира |   |

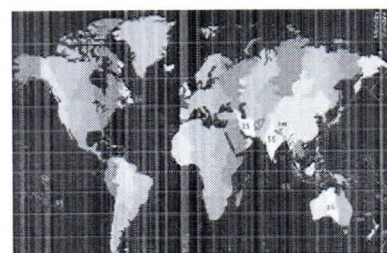
1)



2)




3)



4)



5)



**15. Запишите последовательность букв, отвечающих следующим требованиям:**

1) Расположите океаны от самого большого по площади к самому маленькому.

2) Расположите океаны в порядке увеличения площади бассейна рек, впадающих в него.

- 4** А) Северный Ледовитый океан  
**3** Б) Индийский Океан

- 1** В) Тихий океан  
**2** Г) Атлантический океан



1



2



3




1. Определите, имя путешественника, представителем какой страны он является, год путешествия и его географическое открытие.
2. Что означает словосочетание «terra incognita»?
3. Кому принадлежит открытие этой земли?
4. Как называется эта земля?
5. Представители, какой страны и в каком году открыли её?
6. Назовите названия кораблей, увековеченных на карте этой Земли.

### Задание № 5. «Узнай меня».

Изучите предложенные фотографии и определите:

1. Что общего у объектов, изображенных на фотографиях?
2. Как называются географические объекты, изображенные на них?
3. Какая фотография здесь лишняя? Что на ней изображено?





Кузев 6,6"

**Всероссийская олимпиада школьников по географии**  
**школьный этап 2020-2021 учебный год**  
**6 класс**

**Теоретический тур**

**Задание № 1. «Метеоприборы»**


Учитель географии после экскурсии на метеостанцию решил проверить насколько запомнили шестиклассники названия метеорологических приборов, их назначение и единицы измерения. Помогите свои сверстникам заполнить таблицу.

№ прибора	Название прибора	Назначение прибора	Единицы измерения прибора
1	Термометр		
2	Барометр		мм. рт.ст
3	Гигрометр		%
4		Измерение силы ветра	м/с
5		Измерение количества осадков	мм.
6		Измерение направления ветра	м.с. °

**Задание № 2. «Природное явление»**

На рисунке изображено природное явление, которое христиане в древности очень боялись.

В "Слове о полку Игореве" говорится о трагическом, неудачном походе князя Игоря. Во время похода на половцев, 1 мая 1185 года всё его войско тьмою прикрыло и ужас объял войско, но это не остановило его.



21 июня 2020 года многие жители Хабаровского края могли наблюдать это природное явление.

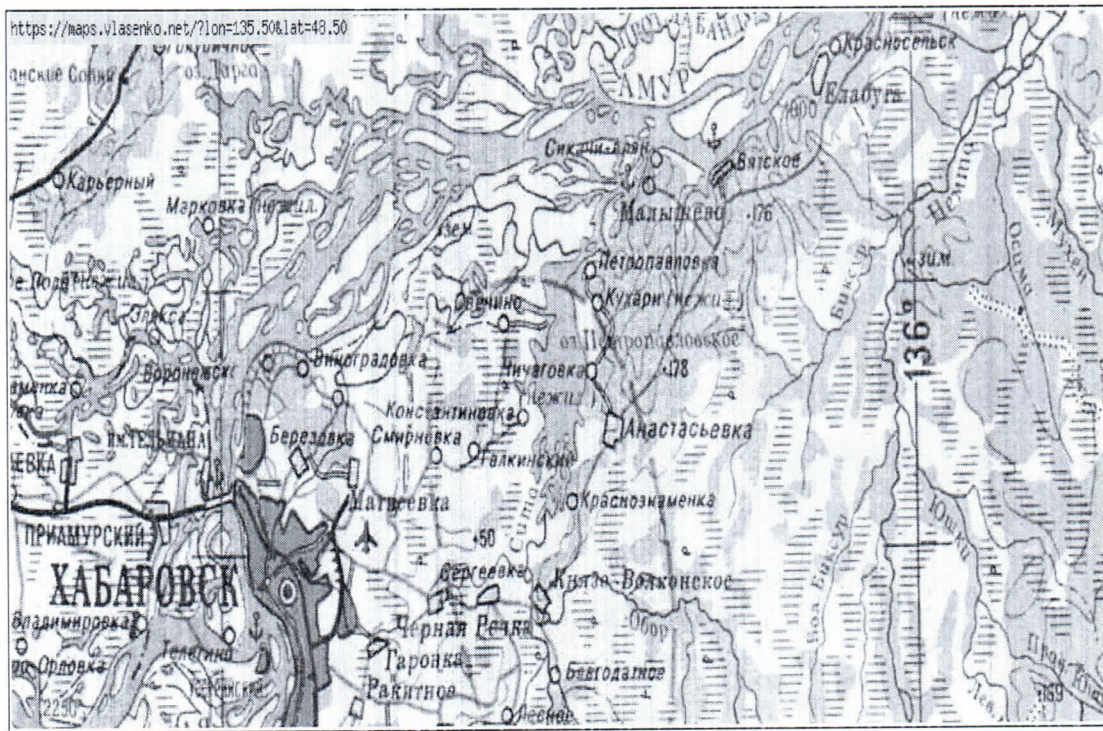
Ответьте на вопросы:


1. Как называется это за природное явление? *Солнечное затмение*
2. С чем связывали древние люди это явление? *Почему его боялись?*
3. Объясните причину его появления? *Луна затмевает солнце*
4. Как живые организмы реагирует на это явление? *Нормально*



### Задание № 3. «Топографическая карта»

Перед вами фрагмент топографической карты. Прочитайте вопросы и найдите ответы на предложенной карте.



1. В каком направлении от с. Князе-Волконское находится с. Анастасьевка? *на север*
2. На каком берегу реки Амур находится п. Приамурский? *левый берег*
3. Какое село находится западнее: Матвеевка или Берёзовка? *Берёзовка*
4. По какому азимуту нужно двигаться от г. Хабаровска до с. Елабуга?
5. Какая река впадает в озеро Петропавловское?
6. Территория какого субъекта Российской Федерации изображена на топокарте? *Хабаровский край*
7. В каком направлении от с. Ракитное находится аэропорт им. Г.И. Невельского? *на север*
8. Что означает вертикальная линия на карте 136°?
9. Что обозначает данный  знак на топокарте? *болото*

### Задание № 4. «Путешественники»

На фотографиях вы видите знаменитых путешественников Земли. Известно, что один из них первым совершил кругосветное путешествие, другой - бороздил просторы Мирового океана в поисках «terra incognita» и открыл всему миру самый маленький материк, а третий - первым покорил Южный полюс.

Кушев 6,6

**Всероссийская олимпиада школьников по географии**  
**школьный этап 2020-2021 учебный год**  
**6 класс**

**Лист ответов**  
**Тестовый тур**

№	Ответ	
1	Г	1
2	Д	-
3	А	1
4	А	1
5	В	1
6	Г	1
7	В	1
8	Б	1
9	Г	1
10	Г	1
11		-
12	A-4 B-1	1
13	A-2, B-3, B-1	1
14	A-1 B-4 B-2 F-5 F-3	0
15	A-4 B-3 B-1 F-2	0,5

11,5

**Теоретический тур**

**Задание № 1. Метеоприборы»**

№ прибора	Название прибора	Назначение прибора	Единицы измерения прибора
1	Термометр	Измерение температуры	° 1,5
2	Барометр	Измерение давления	мм. рт.ст 1,5
3	Гигрометр	Измерение влажности	% 0,5
4		Измерение силы ветра	м/с 0,5
5	Осадкомер	Измерение количества осадков	мм 1
6	Флюгер	Измерение направления ветра	направление 1

5,5



### Задание № 2. «Природное явление»


Вопрос	Ответ
1. Что это за природное явление?	Солнечное затмение 1
2. С чем связывали древние люди это явление, почему его боялись?	1. С дурными 2. 3. 4. 0,5
3. Объясните, почему происходит данное явление?	Из того что Ларе закрывает солнце 0
4. Как живые организмы реагирует на это явление?	1. 2. 3. 4. 0,5

1,5

### Задание № 3. Топографическая карта»

Вопрос	Ответ
1. В каком направлении от с. Князе-Волконское находится с. Анастасьевка?	На север —
2. На каком берегу реки Амур находится п. Приамурский?	На левом берегу —
3. Какое село находится западнее: Матвеевка или Берёзовка?	Берёзовка западнее 0,5
4. По какому азимуту нужно двигаться от г. Хабаровска до с. Елабуга?	—
5. Какая река впадает в озеро Петропавловское?	—
6. Территория какого субъекта Российской Федерации изображена на топокарте?	Хабаровский край 0,5
7. В каком направлении от с. Ракитное находится аэропорт им. Г.И.Невельского?	На север 0,5

Кучев 6,6<sup>17</sup>

8. Что означает вертикальная линия на карте 136°?	Оси —
9. Что обозначает данный знак на топокарте?	 Боцота 0,5

25.

### Задание № 4. «Путешественники»

№	Вопрос	Ответ
1 фото	Имя путешественника <i>Беллинсгаузен</i> Страна — <i>Россия</i> Дата — Событие — <i>Открыл южный полюс</i>	0
2 фото	Имя путешественника — <i>Вернар Массенан</i> Страна — <i>Португалия</i> Дата — <i>20 сентября 1780</i> — Событие — <i>Первое кругосветное путешествие</i>	0,5 0,5 15
3 фото	Имя путешественника — <i>Джеймс Кук</i> Страна — <i>Англия</i> Дата — Событие —	0,5 0,5 15
1	Что означает словосочетание «terra incognita»?	Неизвестные земли 1
2	Кому принадлежит открытие этой земли?	Джеймсу Куку 0
3	Как называется открытая земля сегодня?	Австралия 0
4	Представители какой страны и в каком году открыли её?	Англиканцы 1774 году 0
5	Назовите названия кораблей, увековеченных на карте этой Земли.	0

45



## Задание № 5. «Узнай меня»

Вопрос	Ответ
1. Что общего у объектов, изображенных на фотографиях?	Эти объекты это достояние Жабаровского края 15
2. Как называются географические объекты, изображенные на них?	1 —
	2 Сихотэ-Алинь —
	3 —
	4 —
	5 Амурский мизр 0,5
	6 Лотос 0,5
	7 Амурский мост 0,5
	8 —
3. Какая фотография здесь лишняя?	№ 7 0
4. Что на ней изображено?	Амурский мост 2,5